

BÀI
29

NGÀY – GIỜ, GIỜ – PHÚT

Tiết 1

1 ✎ Viết số thích hợp vào chỗ chấm.



Mi và bố rửa rau lúc
..... giờ chiều.




Mi và Mai đánh răng
lúc giờ tối.




Lúc giờ sáng,
Mi và Mai đang ngủ.

2 ✎ Nối đồng hồ chỉ thời gian thích hợp với mỗi bức tranh.



Việt ăn cơm lúc
11 giờ trưa.



Rô-bốt tan học lúc
4 giờ chiều.



Nam chuẩn bị đồ
dùng học tập lúc
9 giờ tối.


16 : 00

21 : 00

11 : 00

3 Khoanh vào chữ đặt trước đồng hồ chỉ thời gian thích hợp với mỗi bức tranh.

a)



A.



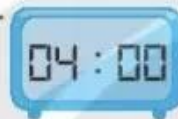
B.



b)



A.



B.



4 Vẽ kim đồng hồ chỉ thời gian thích hợp diễn ra mỗi hoạt động.



Nam nghe nhạc lúc 20 giờ.



Nam học vẽ lúc 9 giờ.



Nam xem hoạt hình lúc 18 giờ.



Nam chơi bóng rổ lúc 17 giờ.

Tiết 2

1/ Viết số thích hợp vào chỗ chấm.



Lúc giờ phút chiều, Nam và Việt cùng nhau đi bộ.



Lúc giờ phút sáng, bố cùng hai chị em làm bánh.



Lúc giờ phút tối, các bạn cùng dự tiệc sinh nhật Rô-bốt.

2/ Nói đồng hồ chỉ thời gian thích hợp với mỗi bức tranh.



Lúc 1 giờ 15 phút sáng, Rô-bốt đang ngủ.



Rô-bốt tưới cây lúc 4 giờ 30 phút chiều.



Rô-bốt rửa bát lúc 12 giờ 15 phút trưa.



3 ✎ Viết số thích hợp vào chỗ chấm.



Mai chuẩn bị bàn ăn lúc
.... giờ phút chiều.



Viết tập thể dục lúc
.... giờ phút sáng.



Lúc giờ phút chiều,
Nam đang học.



Lúc giờ phút tối, bố cùng
Mi đọc truyện trước giờ đi ngủ.

4 ✎ Vẽ kim phút để đồng hồ chỉ thời gian diễn ra mỗi hoạt động.



Mai và Mi đi xe đạp lúc 6 giờ
15 phút sáng.



Mai và Mi vẽ tranh lúc 9 giờ
30 phút sáng.



Mai và Mi nhặt rau giúp mẹ
vào lúc 5 giờ 15 phút chiều.



Mai đang đọc truyện cho Mi
vào lúc 8 giờ 30 phút tối.