

# BÀI 31

## THỰC HÀNH VÀ TRẢI NGHIỆM XEM ĐỒNG HỒ, XEM LỊCH

### Tiết 1

1 ✎ Viết số thích hợp vào chỗ chấm.

Quay kim đồng hồ để đồng hồ chỉ:

a) Thời gian em thức dậy buổi sáng. Đó là lúc .... giờ .... phút.

b) Thời gian lớp học của em bắt đầu. Đó là lúc .... giờ .... phút.

c) Thời gian lớp em tan học. Đó là lúc .... giờ .... phút.

2 ✎ Xem thời khoá biểu của lớp em rồi viết câu trả lời.

a) Lúc 10 giờ 30 phút thứ Năm, em học môn gì?

.....

b) Em học môn gì vào lúc 15 giờ 15 phút thứ Sáu?

.....

3 ✎ Viết số thích hợp vào chỗ chấm.



.... giờ .... phút



.... giờ .... phút



.... giờ .... phút




.... giờ .... phút

4 Khoanh vào chữ đặt trước đồng hồ chỉ thời gian thích hợp cho hoạt động ở mỗi bức tranh.




A. 06 : 15      B. 23 : 30



A. 03 : 30      B. 16 : 15




A. 09 : 00      B. 00 : 30



A. 12 : 15      B. 17 : 30

5 Khoanh vào chữ đặt trước câu trả lời đúng.

Đồng hồ trong hình vẽ cho biết thời gian về đến nhà (sau giờ học) của mỗi bạn.



Những bạn nào về nhà trước 5 giờ chiều?

A. Nam và Mai      B. Mai và Rô-bốt      C. Nam và Việt

## Tiết 2

1 Em xem tờ lịch tháng này rồi viết câu trả lời.

a) Trong tháng này em có tiết học Hoạt động trải nghiệm vào những ngày nào?

.....

b) Trong tháng này em có bao nhiêu ngày Chủ nhật? Đó là những ngày nào?

.....

2 Xem tờ lịch tháng 5 sau đây rồi viết câu trả lời.

THỨ HAI	THỨ BA	THỨ TƯ	THỨ NĂM	THỨ SÁU	THỨ BẢY	CHỦ NHẬT
						1
2	3	4	5	6	7	8
9	10	11	12	13	14	15
16	17	18	19	20	21	22
23	24	25	26	27	28	29
30	31					

a) Ngày 1 tháng 5 là ngày Quốc tế Lao động. Đó là thứ mấy?

.....

b) Nếu hôm nay là ngày 15 tháng 5 và trường của Rô-bốt sẽ tổ chức buổi tổng kết năm học vào thứ Tư tuần sau. Hỏi ngày đó là ngày nào?

.....

Kì nghỉ hè của Rô-bốt sẽ bắt đầu vào một ngày sau đó – tức thứ Năm tuần sau. Vậy Rô-bốt bắt đầu nghỉ hè vào ngày nào?

.....



3 Xem tờ lịch tháng 6 sau đây rồi viết câu trả lời.

THỨ HAI	THỨ BA	THỨ TƯ	THỨ NĂM	THỨ SÁU	THỨ BẢY	CHỦ NHẬT
		1	2	3	4	5
6	7	8	9	10	11	12
13	14	15	16	17	18	19
20	21	22	23	24	25	26
27	28	29	30			

Mỗi tuần trong tháng 6, Rô-bốt sẽ theo học một môn năng khiếu. Tuần đầu tiên, Rô-bốt học vẽ. Tuần thứ hai, Rô-bốt học đàn. Tuần thứ ba, Rô-bốt học võ. Tuần thứ tư, Rô-bốt sẽ học hát.

Biết Rô-bốt chỉ học các ngày trong tuần và nghỉ thứ Bảy, Chủ nhật.

Vậy Rô-bốt bắt đầu học vẽ ngày nào?

.....

Rô-bốt kết thúc học đàn vào ngày nào?

.....

Rô-bốt học hát từ ngày nào đến ngày nào?

.....

4 Khoanh vào chữ đặt trước câu trả lời đúng.

a) Trong một năm có bao nhiêu tháng có 30 ngày?

A. 4 tháng                      B. 6 tháng                      C. 7 tháng

b) Trong một năm có bao nhiêu tháng có ngày 30?

A. 6 tháng                      B. 7 tháng                      C. 11 tháng