

# BÀI 33

## ÔN TẬP PHÉP CỘNG, PHÉP TRỪ TRONG PHẠM VI 20, 100

### Tiết 1

1 Tính nhẩm.

a)  $6 + 7 = \dots$

b)  $8 + 6 = \dots$

c)  $9 + 3 = \dots$

$7 + 6 = \dots$

$6 + 8 = \dots$

$3 + 9 = \dots$

$13 - 7 = \dots$

$14 - 8 = \dots$


$12 - 3 = \dots$

$13 - 6 = \dots$

$14 - 6 = \dots$

$12 - 9 = \dots$

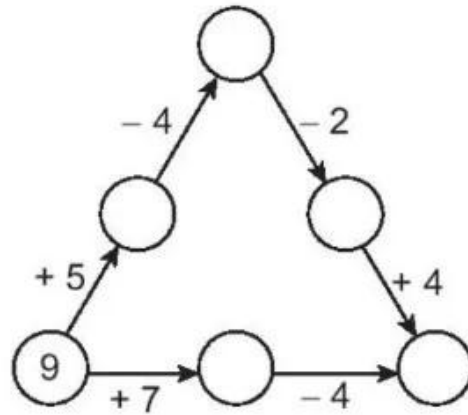
2 a) Nối mỗi bông hoa với lọ hoa tương ứng (theo mẫu).



b) Viết tên các lọ hoa theo thứ tự kết quả phép tính ở mỗi lọ hoa từ bé đến lớn: A, .....


c) Tô màu đỏ vào lọ hoa nối với nhiều bông hoa nhất, màu xanh vào lọ hoa nối với ít bông hoa nhất.

3 Số ?



4 Lớp 2B có 12 bạn tham gia học võ, số bạn tham gia học đàn ít hơn số bạn tham gia học võ là 4 bạn. Hỏi lớp 2B có bao nhiêu bạn tham gia học đàn?


Bài giải



## Tiết 2

KẾT NỐI TRI THỨC  
VỚI CUỘC SỐNG

1 Rô-bốt hái dưa hấu cho vào sọt có số là kết quả phép tính ghi trên quả dưa đó.








## Tiết 3

1



a) Số ?

Toa	A	B	C	D	E
Kết quả phép tính	100				

b) Viết tên toa thích hợp vào chỗ chấm.

- Toa ghi phép tính có kết quả lớn nhất là toa ....., toa ghi phép tính có kết quả bé nhất là toa .....
- Những toa ghi phép tính có kết quả bé hơn 60 là toa ..... và toa .....
- Những toa ghi phép tính có kết quả lớn hơn 50 và bé hơn 100 là toa ..... và toa .....

2 Đặt tính rồi tính.

$$47 + 25$$

.....

.....

.....

$$62 - 17$$

.....

.....

.....

$$28 + 43$$

.....

.....

.....

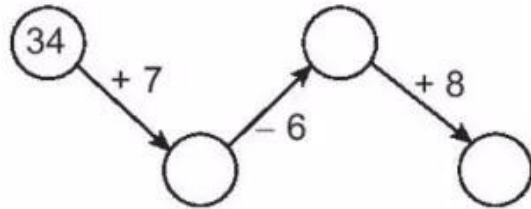
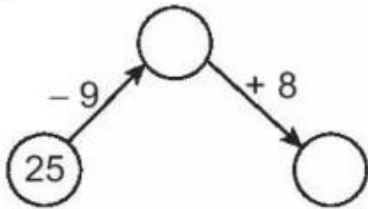




## Tiết 4

### 1 Số ?

a)



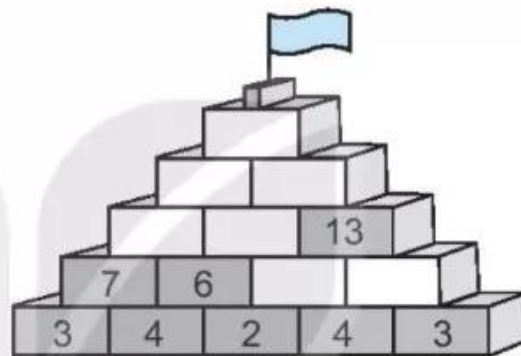
b)  $13 + 13 + 13 + 13 = \square$

$5 + 5 + 5 + 5 + 5 + 5 + 5 = \square$

### 2 Số ?

3) Viết số thích hợp vào chỗ chấm.

Cho bảng bên:



a) Hiệu của số lớn nhất và số bé nhất có trong bảng là .....

b) Hai số trong bảng có tổng bằng 24 là số ..... và .....

c) Ba số trong bảng có tổng bé nhất là các số ....., ..... và .....

11	12	13	14	15	16	17
18	19	20	21	22	23	24
25	26	27	28	29	30	31
32	33	34	35	36	37	38
39	40	41	42	43	44	45

Bài giải

4) Một ao sen có 62 nụ sen. Sáng nay đã có 35 nụ sen nở thành hoa. Hỏi lúc này ao sen còn lại bao nhiêu nụ sen chưa nở?

