


BÀI 35

ÔN TẬP ĐO LƯỜNG

Tiết 1

1 Đ, S ?

- a) Quả bí ngô nặng hơn quả bưởi.
- b) Quả bưởi nặng hơn quả cam.
- c) Quả cam nặng hơn quả bí ngô.



2 Viết số thích hợp vào chỗ chấm.

$$48 \text{ kg} + 35 \text{ kg} = \dots \text{ kg}$$

$$65 \text{ kg} - 27 \text{ kg} = \dots \text{ kg}$$

3 Quan sát tranh.



a) Viết số thích hợp vào chỗ chấm.

$$\dots \text{ kg} + \dots \text{ kg} = \dots \text{ kg}$$

$$\dots \text{ kg} - \dots \text{ kg} = \dots \text{ kg}$$

Túi gạo cân nặng \dots kg.

Con thỏ cân nặng \dots kg.

b) Khoanh vào chữ đặt trước câu trả lời đúng.

Cả túi gạo và con thỏ cân nặng bao nhiêu ki-lô-gam?

A. 13 kg

B. 12 kg

C. 11 kg

- 4 Con lợn cân nặng 42 kg, con chó nhẹ hơn con lợn 25 kg. Hỏi con chó cân nặng bao nhiêu ki-lô-gam?

Bài giải



- 5 Khoanh vào chữ đặt trước câu trả lời đúng.

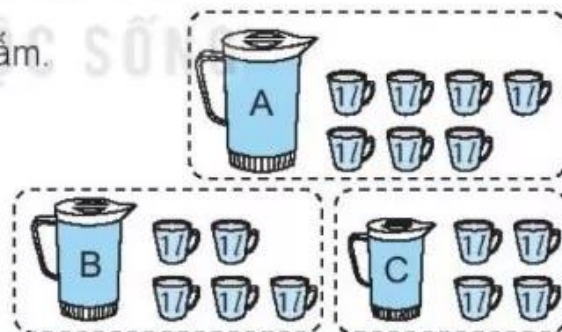
Có bốn con dê muốn sang sông để ăn cỏ. Rô-bốt nói: "Thuyền chỉ chở thêm được nhiều nhất 51 kg". Hỏi ba con dê nào sau đây không thể cùng nhau sang sông?

- A. Ba con dê cân nặng 15 kg, 17 kg, 19 kg.
 B. Ba con dê cân nặng 16 kg, 17 kg, 19 kg.
 C. Ba con dê cân nặng 15 kg, 16 kg, 17 kg.

Tiết 2

- 1 Viết số thích hợp vào chỗ chấm.

Có ba bình chứa đầy nước. Bạn Mai đã rót hết nước ở các bình sang đầy các ca 1 l thì được số ca 1 l tương ứng như hình vẽ.



a)

| Bình | A | B | C |
|--------------------|-----|---------|---------|
| Mỗi bình chứa được | 7 l | l | l |

- b) Cả ba bình chứa được bao nhiêu lít nước?

$$..... l + l + l = l$$

2 ✎ Viết số thích hợp vào chỗ chấm.

a) $25\text{ l} + 30\text{ l} = \dots\dots\text{ l}$

$55\text{ l} - 30\text{ l} = \dots\dots\text{ l}$

$55\text{ l} - 25\text{ l} = \dots\dots\text{ l}$

$40\text{ l} + 20\text{ l} = \dots\dots\text{ l}$

$\dots\dots\text{ l} - 20\text{ l} = 40\text{ l}$

$\dots\dots\text{ l} - 40\text{ l} = 20\text{ l}$

b) $37\text{ l} + 4\text{ l} - 20\text{ l} = \dots\dots\text{ l}$

$53\text{ l} - 8\text{ l} + 30\text{ l} = \dots\dots\text{ l}$

3 ✎ Lớp 2A có 18 bạn tham gia học bơi, số bạn tham gia học hát nhiều hơn số bạn tham gia học bơi là 3 bạn. Hỏi lớp 2A có bao nhiêu bạn tham gia học hát?








Bài giải



4 ✎ Khoanh vào chữ đặt trước câu trả lời đúng.

Trong thùng có 20 l nước. Múc hết nước từ thùng rót vào đầy các can. Có thể rót vào đầy tất cả các can trong phương án nào sau đây?



- A.    
- B.   
- C. 