

BÀI 36

ÔN TẬP CHUNG

Tiết 1

1 Khoanh vào chữ đặt trước câu trả lời đúng.



Số thích hợp viết vào ô trống là:

A. 58 B. 59 C. 60 D. 61

b) Số lớn nhất trong các số 45, 39, 86, 68 là:

A. 45 B. 39 C. 86 D. 68

c) Nếu ngày 16 tháng 11 là thứ Tư thì ngày 20 tháng 11 là:

A. Thứ Năm B. Thứ Sáu C. Thứ Bảy D. Chủ nhật

2 Nối mỗi bức tranh với đồng hồ thích hợp.



3 Đặt tính rồi tính.

a) $45 + 8$

.....

$9 + 56$

.....

$37 + 48$

.....

b) $52 - 7$

.....

$63 - 59$

.....

$94 - 75$

.....

4 Mẹ cân nặng 49 kg, bố nặng hơn mẹ 16 kg. Hỏi bố cân nặng bao nhiêu ki-lô-gam?

Bài giải

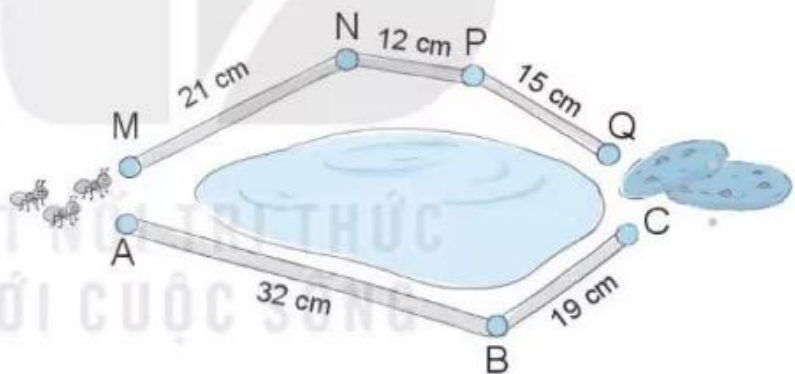


5 Đ, S ?

Có hai đường để kiến đến chỗ miếng bánh như hình dưới đây.

a) Độ dài đường đi ABC dài hơn độ dài đường đi MNPQ.

b) Độ dài đường đi ABC ngắn hơn độ dài đường đi MNPQ.



Tiết 2

1 Khoanh vào chữ đặt trước câu trả lời đúng.

a)



M



N



E



G

Hai đồng hồ chỉ cùng giờ vào buổi chiều là:

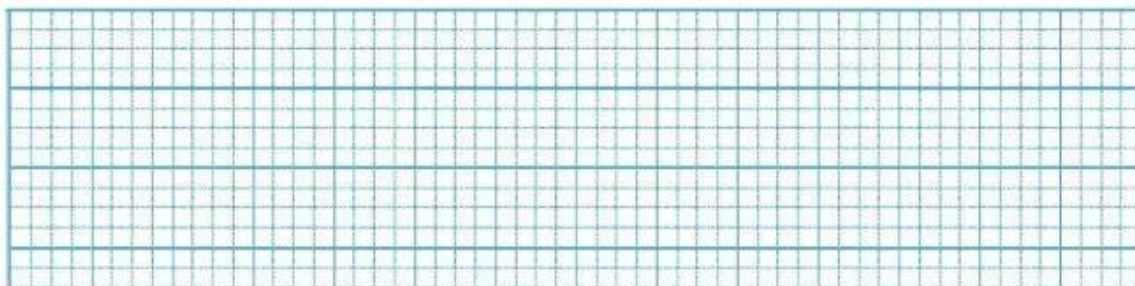
A. N và E

B. N và G

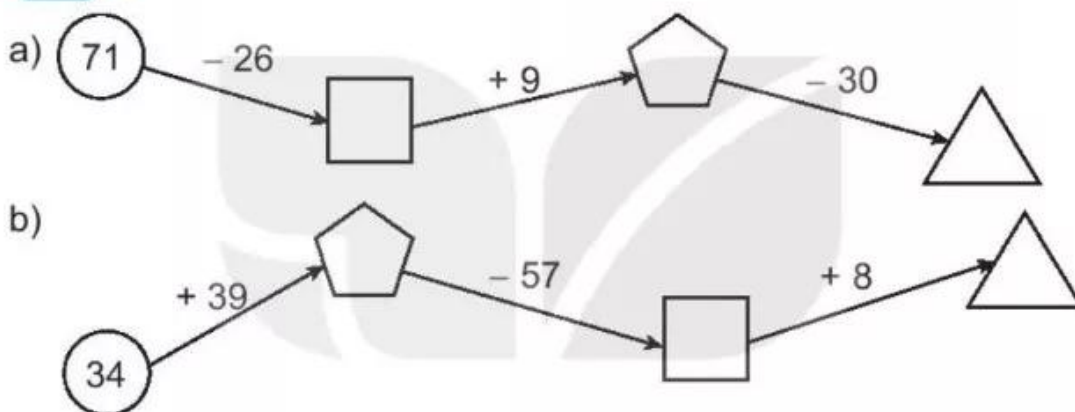
C. M và E

b) Lớp 2A và lớp 2C vẽ được bao nhiêu bức tranh?

Bài giải



4 Số ?



5 Có một cân hai đĩa, một quả cân 5 kg và một quả cân 2 kg. Hỏi chỉ dùng hai lần cân, làm thế nào lấy được 1 kg gạo từ thùng gạo to?

.....

.....

.....