

BÀI 4


HƠN, KÉM NHAU BAO NHIÊU

Tiết 1



1/ Viết số thích hợp vào chỗ chấm.

Số vịt ở trên bờ hơn số vịt ở dưới ao bao nhiêu con?



Bài giải

Số vịt ở trên bờ hơn số vịt ở dưới ao là:

$$\dots - \dots = \dots \text{ (con)}$$

Đáp số: con vịt.



2/ Viết số thích hợp vào chỗ chấm.


Cây bưởi có 14 quả. Rô-bốt đã hái 4 quả. Hỏi trên cây còn lại bao nhiêu quả bưởi?

Bài giải

Số bưởi còn lại trên cây là:

$$\dots - \dots = \dots \text{ (quả)}$$

Đáp số: quả bưởi.

3  Viết số thích hợp vào chỗ chấm.

Rùa nâu 16 tuổi, rùa vàng 12 tuổi, rùa xám 10 tuổi.

a) Rùa vàng hơn rùa xám mấy tuổi?

Bài giải

Rùa vàng hơn rùa xám số tuổi là:

$$\dots - \dots = \dots \text{ (tuổi)}$$

Đáp số: tuổi.


b) Rùa vàng kém rùa nâu mấy tuổi?

Bài giải


Rùa vàng kém rùa nâu số tuổi là:

$$\dots - \dots = \dots \text{ (tuổi)}$$

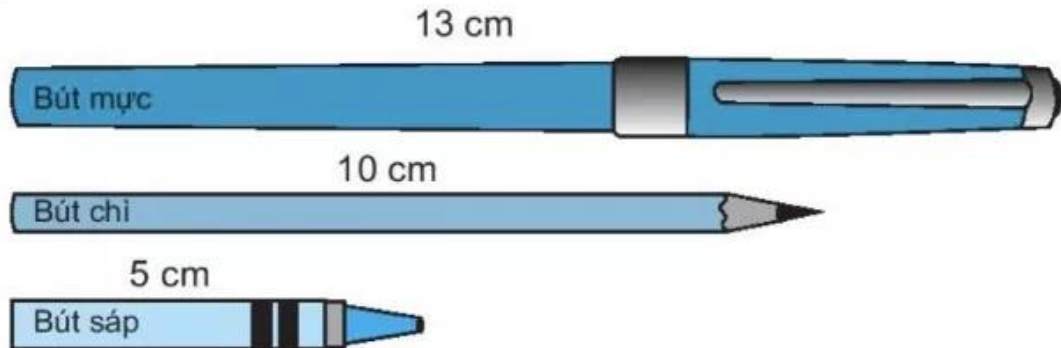
Đáp số: tuổi.

4  Có 35 bông hoa hồng và 20 bông hoa cúc. Hỏi hoa hồng hơn hoa cúc bao nhiêu bông?

Bài giải



Tiết 2



a) Khoanh vào chữ đặt trước câu trả lời đúng.

– Bút nào dài nhất?

A. Bút mực

B. Bút sáp

C. Bút chì

– Bút nào ngắn nhất?

A. Bút mực

B. Bút sáp

C. Bút chì



b) Viết số thích hợp vào chỗ chấm.

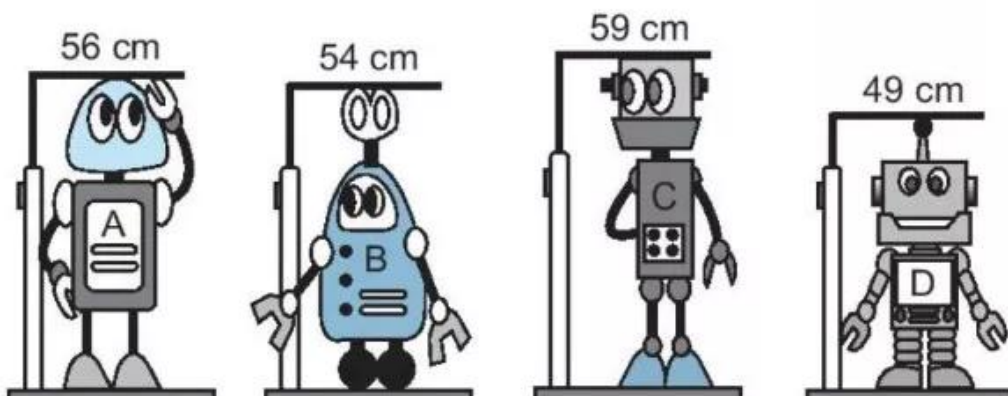
– Bút mực dài hơn bút chì mấy xăng-ti-mét?

..... cm – cm = cm

– Bút sáp ngắn hơn bút chì mấy xăng-ti-mét?

..... cm – cm = cm

2) Bốn bạn rô-bốt rủ nhau đo chiều cao.



a) Viết số thích hợp vào chỗ chấm.

– Rô-bốt C cao hơn rô-bốt B bao nhiêu xăng-ti-mét?

$$\dots\dots \text{ cm} - \dots\dots \text{ cm} = \dots\dots \text{ cm}$$

– Rô-bốt D thấp hơn rô-bốt C bao nhiêu xăng-ti-mét?

$$\dots\dots \text{ cm} - \dots\dots \text{ cm} = \dots\dots \text{ cm}$$

b) Viết tên các rô-bốt theo thứ tự từ thấp nhất đến cao nhất.


D;

3 Mai và Nam gấp được các thuyền giấy như hình dưới đây.



a) Nam gấp được kém Mai mấy cái thuyền?

Bài giải



b) Khoanh vào chữ đặt trước câu trả lời đúng.

Mai cần cho Nam mấy cái thuyền để số thuyền của hai bạn bằng nhau?

A. 4 cái thuyền

B. 3 cái thuyền

C. 2 cái thuyền

4 Khoanh vào chữ đặt trước câu trả lời đúng.

Bút đỏ dài hơn bút vàng 2 cm, bút vàng dài hơn bút xanh 3 cm. Hỏi bút đỏ dài hơn bút xanh mấy xăng-ti-mét?

A. 2 cm

B. 3 cm

C. 5 cm