

BÀI 5

ÔN TẬP PHÉP CỘNG, PHÉP TRỪ (không nhớ) TRONG PHẠM VI 100

Tiết 1



1 Tính nhẩm.

a) $40 + 60 = \dots$

$30 + 70 = \dots$

$90 + 10 = \dots$

b) $100 - 40 = \dots$

$100 - 70 = \dots$

$100 - 80 = \dots$

2 Đặt tính rồi tính.

$52 + 6$

$24 + 73$

$88 - 43$

.....

.....

.....

.....

.....

.....

.....

.....

.....



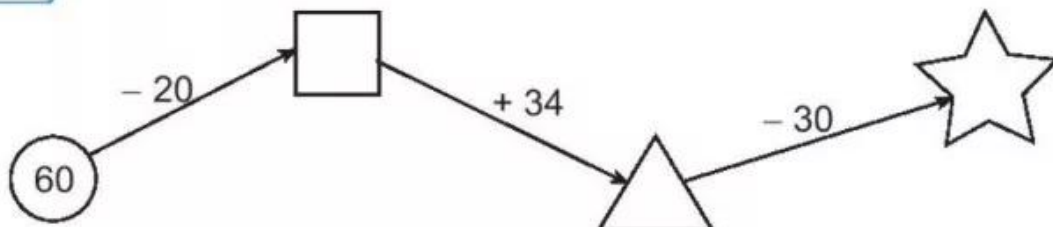
3 a) Nối hai phép tính có cùng kết quả (theo mẫu).

40 + 30 60 + 6 20 + 80 52 + 2

68 - 2 64 - 10 100 - 30 50 + 50




b) Số ?



- 4 ✎ Đầu năm học, lớp 2A có 31 học sinh. Đến đầu học kì 2, lớp 2A có 4 học sinh chuyển đến. Hỏi khi đó lớp 2A có tất cả bao nhiêu học sinh?

Bài giải



- 5 ✎ >; <; = ?

a) $60 + 30$ 100
 $100 - 50$ 40

b) $50 + 20$ $20 + 50$
 $40 + 40$ $100 - 10$

Tiết 2

- 1 ✎ Đ, S ?

a)
$$\begin{array}{r} 53 \\ + 5 \\ \hline \end{array}$$
 58

b)
$$\begin{array}{r} 84 \\ - 3 \\ \hline \end{array}$$
 54

c)
$$\begin{array}{r} 45 \\ + 32 \\ \hline \end{array}$$
 77

d)
$$\begin{array}{r} 98 \\ - 67 \\ \hline \end{array}$$
 31

- 2 ✎ Tính.

a) $50 + 8 = \dots$

$35 - 5 = \dots$



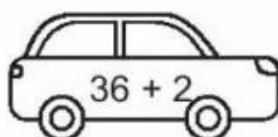

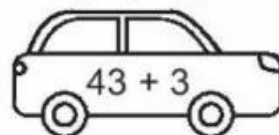
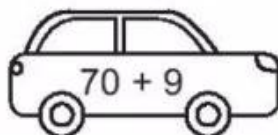
$4 + 70 = \dots$

b) $27 + 40 = \dots$

$86 - 30 = \dots$

$73 - 23 = \dots$

- 3 ✎ Tô màu đỏ vào những ô tô ghi phép tính có kết quả bé hơn 40, màu xanh vào những ô tô ghi phép tính có kết quả lớn hơn 70.





4 ✎ Viết chữ số thích hợp vào ô trống.

$$\begin{array}{r} 45 \\ + 3\boxed{} \\ \hline \boxed{}8 \end{array}$$

$$\begin{array}{r} \boxed{}9 \\ - 27 \\ \hline 5\boxed{} \end{array}$$

$$\begin{array}{r} \boxed{}6 \\ + 4\boxed{} \\ \hline 79 \end{array}$$

$$\begin{array}{r} 8\boxed{} \\ - \boxed{}5 \\ \hline 41 \end{array}$$

5 ✎ Nam có 37 viên bi màu xanh và màu đỏ, trong đó có 13 viên bi màu xanh. Hỏi Nam có bao nhiêu viên bi màu đỏ?

Bài giải



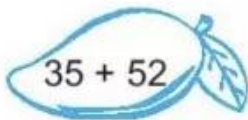


Tiết 3

KẾT NỐI TRI THỨC
VỚI CUỘC SỐNG



1 ✎ a) Tô màu vàng vào những quả xoài ghi phép tính có cùng kết quả.



b) Tô màu xanh vào quả cam ghi phép tính có kết quả lớn nhất.



2 ✎ Viết số thích hợp vào chỗ chấm.

a) $70 + \dots = 100$

b) $100 - 60 = \dots$

c) $90 - \dots = 80$

d) $\dots + 60 = 100$

3 ✎ Tính.

a) $25 + 42 - 30 = \dots$

b) $89 - 57 + 46 = \dots$

4 ✎ Một ô tô có 45 ghế ngồi cho hành khách, trong đó có 31 ghế đã có hành khách ngồi. Hỏi trên ô tô còn bao nhiêu ghế trống?

Bài giải



5 ✎ Viết số thích hợp vào chỗ trống.

