

BÀI 8

BẢNG CỘNG (qua 10)

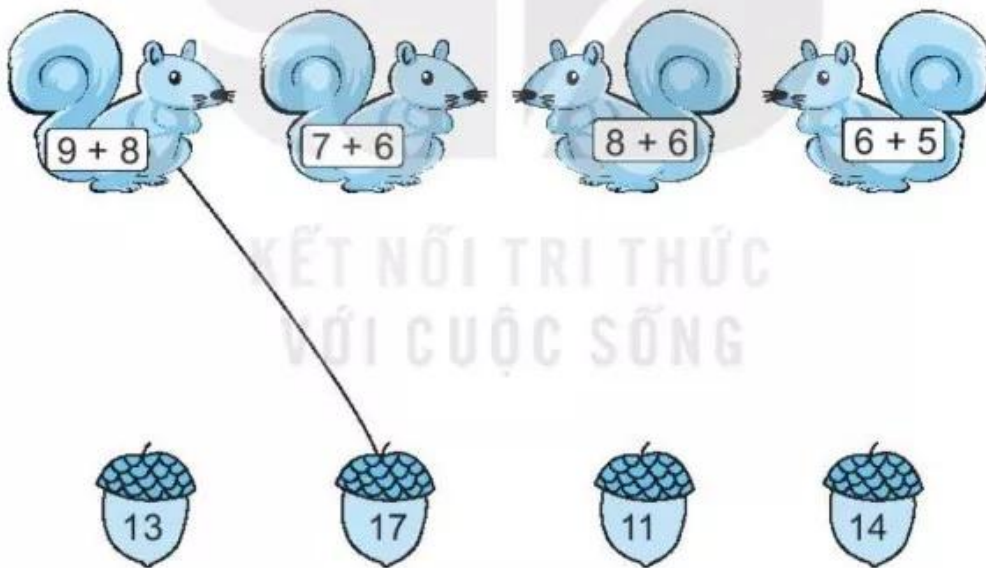
Tiết 1

1 Tính nhẩm.

$8 + 7 = \dots$ $7 + 4 = \dots$ $8 + 4 = \dots$ $6 + 6 = \dots$

$6 + 5 = \dots$ $9 + 5 = \dots$ $9 + 3 = \dots$ $7 + 6 = \dots$

2 a) Nói mỗi chú sóc với hạt dẻ nhạt được (theo mẫu).




b) Viết các số ghi trên những hạt dẻ mà các chú sóc nhạt được theo thứ tự từ bé đến lớn:

.....

- 3 a) Viết các phép tính ghi ở đèn lồng có kết quả bằng 12:

.....



- b) Khoanh vào chữ đặt trước câu trả lời đúng.

Bạn Hoa lấy các đèn lồng ghi phép tính có kết quả bằng 14, bạn Cúc lấy các đèn lồng ghi phép tính có kết quả bằng 12, bạn Bình lấy các đèn lồng còn lại.

Bạn lấy được nhiều đèn lồng nhất là:

- A. Cúc B. Hoa C. Bình

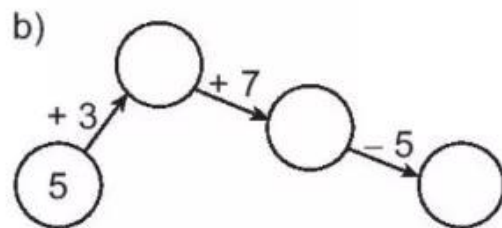
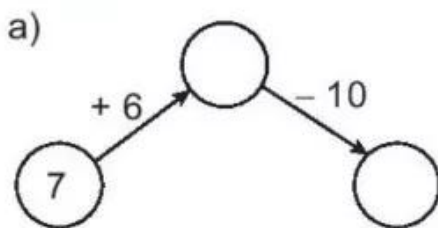
Tiết 2

KẾT NỐI TRI THỨC
 VỚI CUỘC SỐNG


- 1 Số ?

+	6	7	7	8	9	9
	5	6	7	6	5	8
	11					17

- 2 Số ?



3 a) Nói mỗi chú gấu với tổ ong lấy được (theo mẫu).



b) Viết các số ghi ở tổ ong theo thứ tự từ bé đến lớn.

.....

.....

.....

c) Viết tiếp vào chỗ chấm.

Phép tính trên chú gấu có kết quả lớn nhất là

4 >; <; = ?

a) $6 + 5 \square 11$
 $6 + 7 \square 12$

b) $9 + 3 \square 3 + 9$
 $9 + 4 \square 9 + 5$

5 Để giúp đỡ đồng bào vùng bão lụt, buổi sáng có 9 chuyến ô tô chở hàng cứu trợ, buổi chiều có 7 chuyến ô tô chở hàng cứu trợ vào miền Trung. Hỏi cả buổi sáng và buổi chiều có bao nhiêu chuyến ô tô chở hàng cứu trợ?

Bài giải

