

BÀI 9

BÀI TOÁN VỀ THÊM, BỚT MỘT SỐ ĐƠN VỊ

Tiết 1

- 1/ Lớp học bơi có 9 bạn. Hôm nay có thêm 5 bạn tham gia. Hỏi hôm nay lớp học bơi có tất cả bao nhiêu bạn?

Bài giải




- 2/ Trên sân có 6 con gà, lúc sau có thêm 5 con gà chạy đến. Hỏi lúc này trên sân có tất cả bao nhiêu con gà?

Bài giải



- 3/ Đàn lợn nhà Núi có 8 con. Mẹ Núi mua thêm 4 con lợn về nuôi cùng. Hỏi lúc này đàn lợn nhà Núi có bao nhiêu con?


Bài giải



Tiết 2

- 1 ✎ Xe buýt đang chở 35 người. Tới bến đỗ, có 12 người xuống xe. Hỏi lúc này trên xe buýt còn lại bao nhiêu người?

Bài giải



- 2 ✎ Trên cành cây có 16 con chim đang đậu. Lúc sau có 5 con bay đi. Hỏi trên cành cây còn lại bao nhiêu con chim đang đậu?

Bài giải



- 3 ✎ Giải bài toán theo tóm tắt sau:


Bài giải

Tóm tắt

Có: 45 con gà

Bán: 14 con gà

Còn lại: ... con gà?



- 4 ✎ Có 15 con vịt ở trên bờ, lúc sau có 3 con vịt xuống ao bơi. Hỏi trên bờ còn lại bao nhiêu con vịt?

Bài giải

