

Bài 24

VÙNG BẮC TRUNG BỘ *(tiếp theo)*

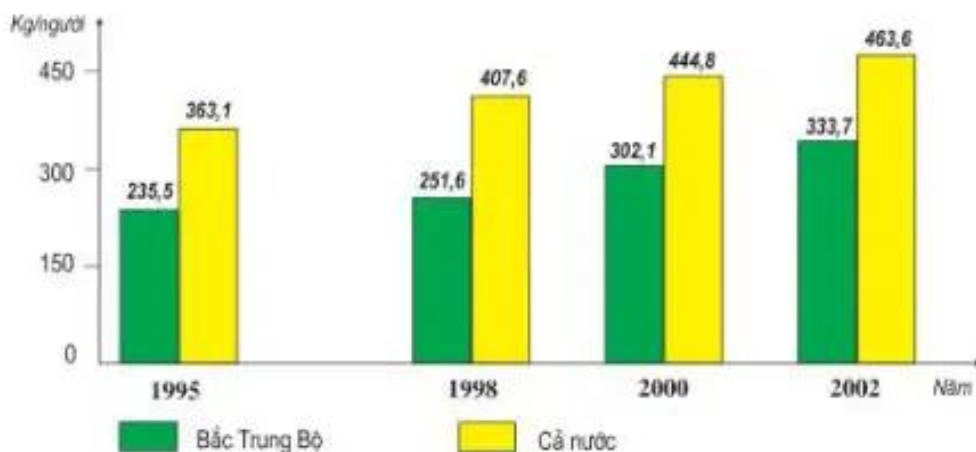
So với các vùng kinh tế khác trong nước, Bắc Trung Bộ tuy còn gặp nhiều khó khăn, nhưng đang đứng trước triển vọng lớn nhờ phát huy các thế mạnh về tự nhiên, dân cư, xã hội.

IV. TÌNH HÌNH PHÁT TRIỂN KINH TẾ

1. Nông nghiệp

Nhìn chung, Bắc Trung Bộ gặp nhiều khó khăn trong sản xuất nông nghiệp. Năng suất lúa cũng như bình quân lương thực có hạt (lúa, ngô) theo đầu người đang ở mức thấp so với cả nước.

Nêu một số khó khăn trong sản xuất nông nghiệp của vùng.



Hình 24.1. Biểu đồ lương thực có hạt bình quân đầu người, thời kì 1995-2002

Nhờ việc đẩy mạnh thâm canh, tăng năng suất nên dải đồng bằng ven biển các tỉnh Thanh Hoá, Nghệ An, Hà Tĩnh trở thành những nơi sản xuất lúa chủ yếu ở Bắc Trung Bộ. Một số cây công nghiệp hàng năm như lạc, vừng,... được trồng với diện tích khá lớn trên các vùng đất cát pha duyên hải. Vùng đồi gò phía tây trồng nhiều cây ăn quả, cây công nghiệp lâu năm, chăn nuôi trâu bò đàn, trong khi vùng ven biển phía đông phát triển rộng rãi nghề nuôi trồng, đánh bắt thủy sản.

Chương trình trồng rừng, xây dựng hệ thống hồ chứa nước đang được triển khai tại các vùng nông - lâm kết hợp nhằm phát triển nông nghiệp, giảm nhẹ thiên tai và bảo vệ môi trường.

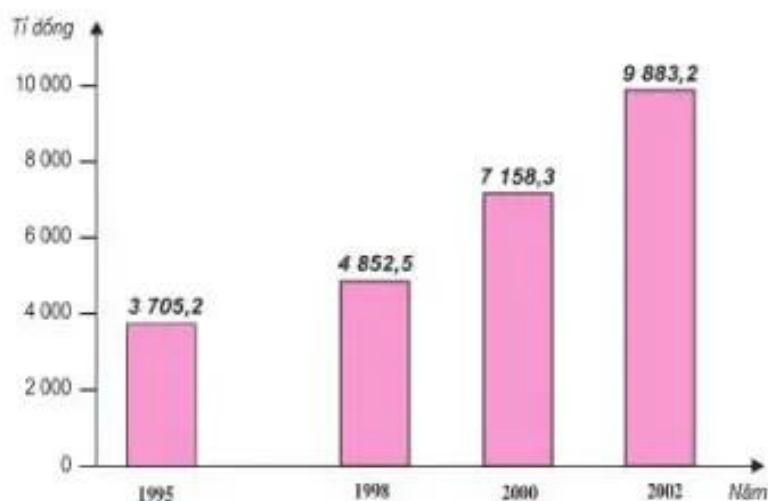
Quan sát hình 24.3, hãy :

- Xác định các vùng nông - lâm kết hợp.
- Nêu ý nghĩa của việc trồng rừng ở Bắc Trung Bộ.

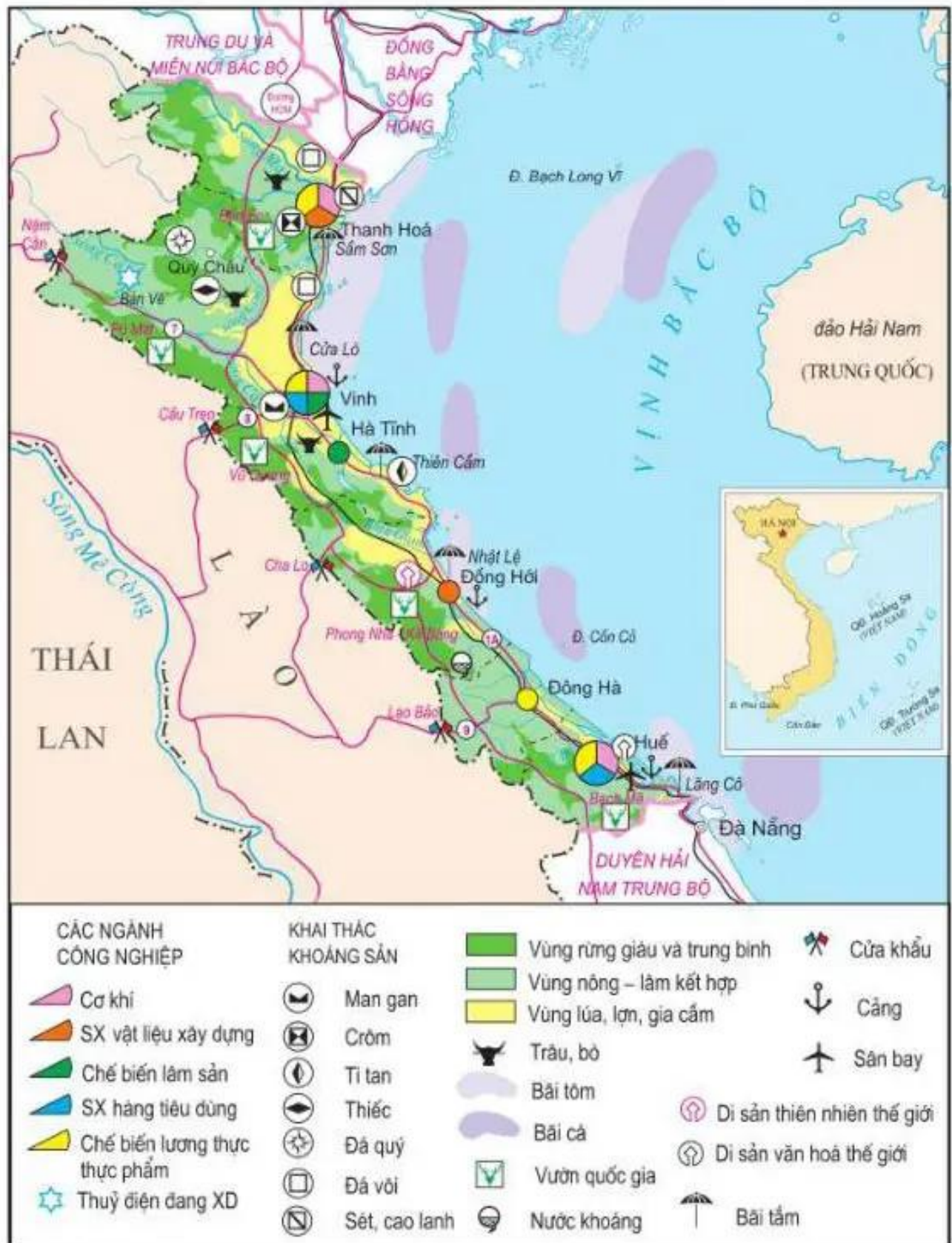
2. Công nghiệp

Dựa vào hình 24.2, nhận xét sự gia tăng giá trị sản xuất công nghiệp ở Bắc Trung Bộ.

Nhờ có nguồn khoáng sản, đặc biệt là đá vôi, Bắc Trung Bộ phát triển công nghiệp khai khoáng và sản xuất vật liệu xây dựng. Đây là những ngành công nghiệp quan trọng hàng đầu của vùng.



Hình 24.2. Biểu đồ giá trị sản xuất công nghiệp của Bắc Trung Bộ, thời kì 1995-2002 (giá so sánh 1994)



Hình 24.3. Lược đồ kinh tế vùng Bắc Trung Bộ

Quan sát hình 24.3, xác định vị trí các cơ sở khai thác khoáng sản : thiếc, crôm, titan, đá vôi.

Các ngành công nghiệp chế biến gỗ, cơ khí, dệt kim, may mặc, chế biến thực phẩm với quy mô vừa và nhỏ đang phát triển ở hầu hết các địa phương. Cơ sở hạ tầng kỹ thuật và công nghệ, cũng như việc cung ứng nhiên liệu, năng lượng của vùng đang được cải thiện.

3. Dịch vụ

Nhờ vị trí cầu nối giữa Bắc Bộ với các tỉnh phía nam nên Bắc Trung Bộ là địa bàn trung chuyển một khối lượng lớn hàng hoá và hành khách giữa hai miền Nam – Bắc đất nước ; từ Trung Lào, Đông Bắc Thái Lan ra Biển Đông và ngược lại.

Quan sát hình 24.3, xác định vị trí các quốc lộ 7, 8, 9 và nêu tầm quan trọng của các tuyến đường này.

Trong xu thế kinh tế mở, du lịch cũng bắt đầu phát triển. Số lượng khách du lịch tới Bắc Trung Bộ ngày càng tăng nhanh.

Hãy kể tên một số điểm du lịch nổi tiếng ở Bắc Trung Bộ.



Hình 24.4. Ngôi nhà Bác Hồ tại Kim Liên, Nam Đàn, Nghệ An

V. CÁC TRUNG TÂM KINH TẾ

Thanh Hoá, Vinh, Huế là các trung tâm kinh tế quan trọng của vùng Bắc Trung Bộ.

Xác định trên hình 24.3, những ngành công nghiệp chủ yếu của các thành phố này.

Thành phố Thanh Hoá là trung tâm công nghiệp lớn ở phía bắc của Bắc Trung Bộ.

Thành phố Vinh là hạt nhân để hình thành trung tâm công nghiệp và dịch vụ của cả vùng Bắc Trung Bộ.

Thành phố Huế là trung tâm du lịch lớn ở miền Trung và cả nước.

Bắc Trung Bộ đang nỗ lực phát triển sản xuất nông nghiệp bằng việc tăng cường đầu tư thâm canh trong sản xuất lương thực, phát triển cây công nghiệp, chăn nuôi, nghề rừng, đánh bắt và nuôi trồng thủy sản. Vùng đang đẩy mạnh công nghiệp khai thác khoáng sản, sản xuất vật liệu xây dựng, chế biến nông sản xuất khẩu, phát triển dịch vụ, du lịch.

CÂU HỎI VÀ BÀI TẬP

1. *Nêu những thành tựu và khó khăn trong phát triển kinh tế nông nghiệp, công nghiệp ở Bắc Trung Bộ.*
2. *Tại sao nói du lịch là thế mạnh kinh tế của Bắc Trung Bộ ?*
3. *Sưu tầm tư liệu về khu di tích quê Bác Hồ tại Kim Liên, Nam Đàn, Nghệ An.*