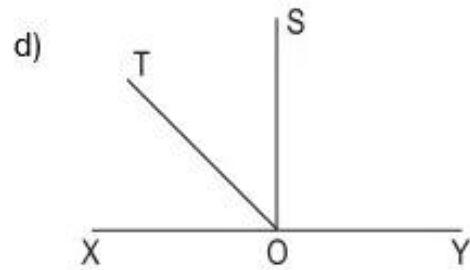
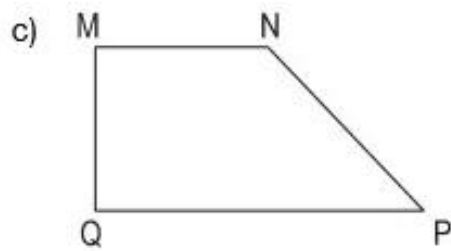
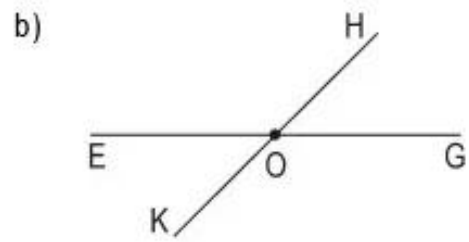
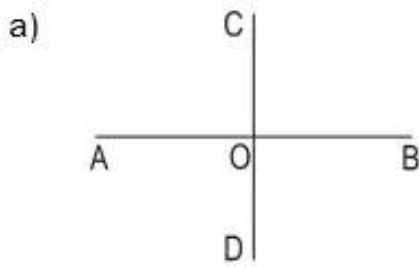
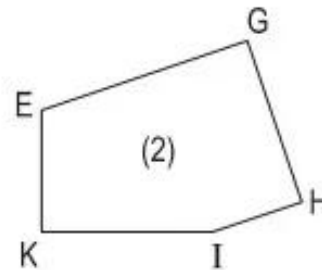
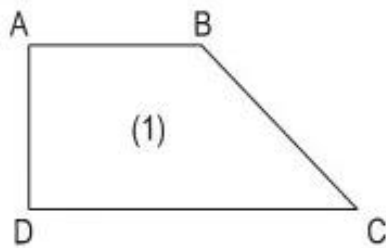


GÓC NHỌN, GÓC TÙ, GÓC BỆT – HAI ĐƯỜNG THẲNG VUÔNG GÓC – HAI ĐƯỜNG THẲNG SONG SONG

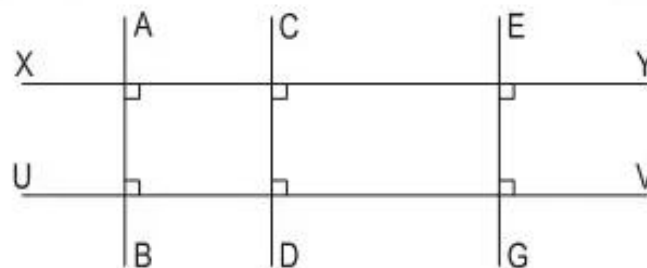
76. Nêu tên các góc : góc nhọn, góc vuông, góc tù, góc bẹt có trong mỗi hình sau :



77. a) Nêu tên từng cặp cạnh vuông góc, từng cặp cạnh song song với nhau có trong mỗi hình sau :



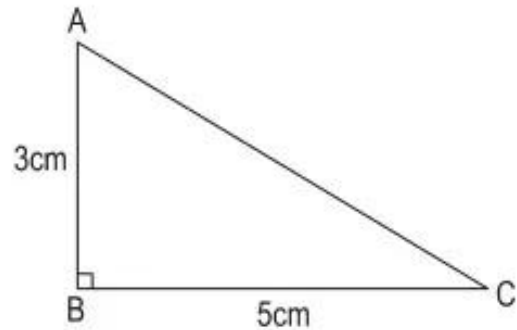
b) Nêu tên ba đường thẳng song song với nhau có trong hình dưới đây. Hai đường thẳng XY và UV cùng vuông góc với những đường thẳng nào ?



78. a) Vẽ hình vuông cạnh 4cm. Tính chu vi và diện tích hình vuông đó.
b) Vẽ hình chữ nhật có chiều dài 5cm, chiều rộng 3cm.
Tính chu vi và diện tích hình chữ nhật đó.

79. Cho hình tam giác ABC có góc B là góc vuông và có kích thước như hình vẽ.

Qua đỉnh A vẽ đường thẳng AX song song với cạnh BC, qua đỉnh C vẽ đường thẳng CY song song với cạnh AB.



Đường thẳng AX cắt đường thẳng CY tại M, ta được hình chữ nhật AMCB.

- a) Nêu tên các cặp cạnh song song và các cặp cạnh vuông góc với nhau có trong hình chữ nhật AMCB.
b) Tính chu vi và diện tích hình chữ nhật đó.