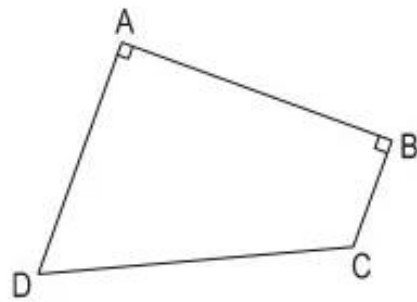


## HÌNH BÌNH HÀNH

148. Khoanh vào chữ đặt trước câu trả lời đúng.

Trong hình tứ giác ABCD, cặp đoạn thẳng song song với nhau là :

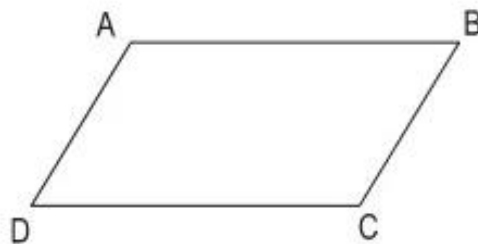
- a) AD và BC
- b) AD và AB
- c) AB và CD
- d) AB và BC



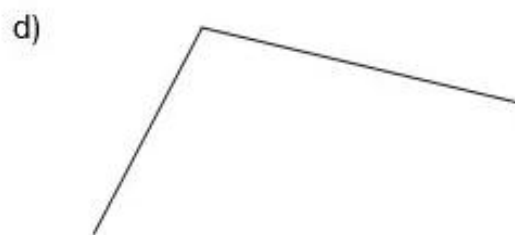
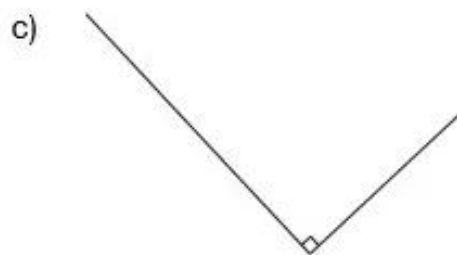
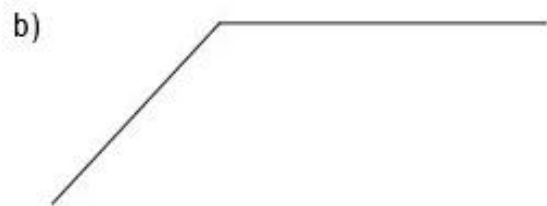
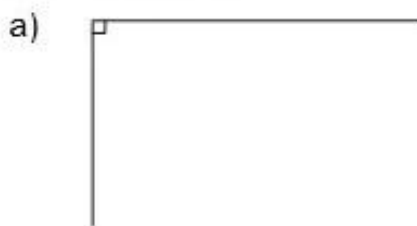
149. Đúng ghi Đ, sai ghi S.

Trong hình bình hành ABCD :

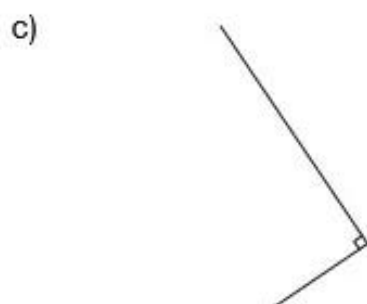
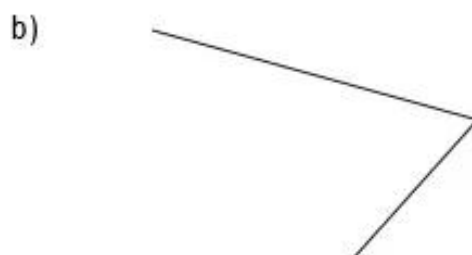
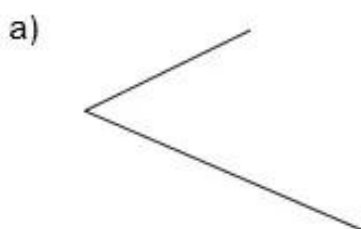
- a) AB song song với CD
- b) AB vuông góc với CD
- c)  $AB = DC$  và  $AD = BC$
- d)  $AB = BC = CD = DA$



150. Vẽ thêm hai đoạn thẳng vào mỗi hình để được hình chữ nhật hoặc hình bình hành :



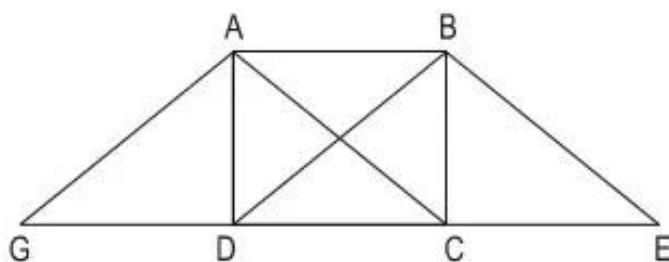
151. Vẽ thêm hai đoạn thẳng vào mỗi hình để được hình chữ nhật hoặc hình bình hành :



152. Trong hình vẽ dưới đây, biết  $GD = DC = CE$ .

a) Chỉ ra các hình có diện tích bằng diện tích của hình chữ nhật ABCD.

b) Chỉ ra hình có diện tích lớn gấp đôi diện tích của hình chữ nhật ABCD.



153. Viết tiếp vào ô trống :

Hình bình hành		
Độ dài đáy	Chiều cao	Diện tích
7cm	9cm	
9cm	12cm	
15cm	12cm	
27cm	14cm	

154. Viết tiếp vào ô trống :

Hình bình hành	(1)	(2)	(3)	(4)	(5)
Độ dài đáy	4cm		14cm	13cm	15cm
Chiều cao		7cm		17cm	
Diện tích	$136\text{cm}^2$	$84\text{cm}^2$	$182\text{cm}^2$		$360\text{cm}^2$

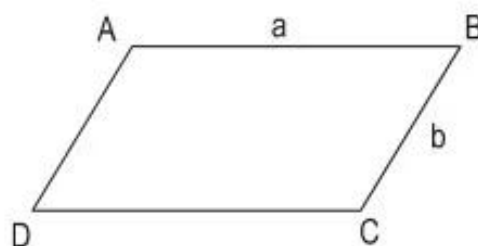
155. Tính diện tích của hình bình hành, biết :

- a) Độ dài đáy là 5dm, chiều cao là 60cm ;
- b) Độ dài đáy là 7cm, chiều cao là 3dm ;
- c) Độ dài đáy là 8dm, chiều cao là 1m ;
- d) Độ dài đáy là 62dm, chiều cao là 2m.

156. Hình bình hành ABCD có độ dài cạnh AB là a, độ dài cạnh BC là b.

Tính chu vi hình bình hành, biết :

- a)  $a = 35\text{cm}$  ;  $b = 12\text{cm}$
- b)  $a = 26\text{dm}$  ;  $b = 4\text{dm}$
- c)  $a = 1\text{km } 200\text{m}$  ;  $b = 750\text{m}$
- d)  $a = 12\text{dm}$  ;  $b = 2\text{m}$



157. Một khu rừng dạng hình bình hành có chiều cao là 500m, độ dài đáy gấp đôi chiều cao. Tính diện tích của khu rừng đó.

158. Một thửa ruộng hình bình hành có độ dài đáy là 100m, chiều cao là 50m. Người ta trồng lúa ở đó, tính ra cứ  $100\text{m}^2$  thu hoạch được 50kg thóc. Hỏi đã thu hoạch được ở thửa ruộng đó bao nhiêu tạ thóc ?

159. Đúng ghi Đ, sai ghi S.

Diện tích của một hình bình hành là  $600\text{m}^2$ . Hình bình hành có :

- a) Độ dài đáy là 300m, chiều cao là 300m
- b) Độ dài đáy là 10m, chiều cao là 60m
- c) Độ dài đáy là 60m, chiều cao là 60m
- d) Độ dài đáy là 20m, chiều cao là 30m