

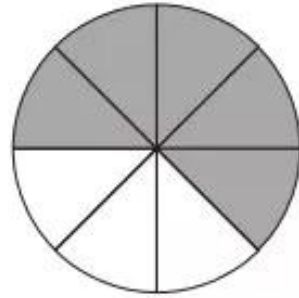
**Chương bốn**  
**PHÂN SỐ – CÁC PHÉP TÍNH VỚI PHÂN SỐ.**  
**GIỚI THIỆU HÌNH THOI**

**PHÂN SỐ**

**160.** a) Hình tròn bên đã được chia thành mấy phần bằng nhau ?

b) Có mấy phần đã được tô đậm ? Viết phân số chỉ phần đã được tô đậm trong hình tròn.

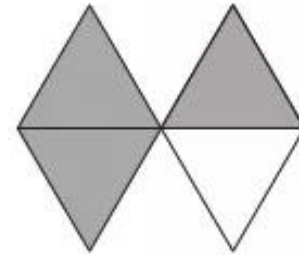
c) Có mấy phần không tô đậm ? Viết phân số chỉ phần không tô đậm trong hình tròn.



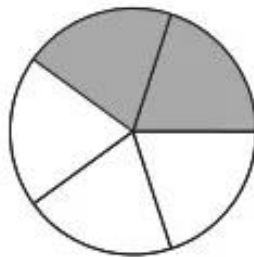
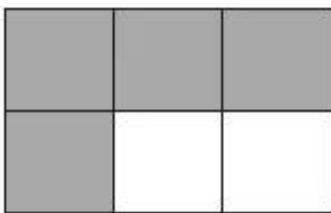
**161.** a) Hình bên đã được chia thành mấy phần bằng nhau ?

b) Có mấy phần đã được tô đậm ? Viết phân số chỉ phần đã được tô đậm trong hình bên.

c) Có mấy phần không tô đậm ? Viết phân số chỉ phần không tô đậm trong hình bên.



**162.** a) Viết rồi đọc phân số chỉ phần tô đậm trong mỗi hình dưới đây :



b) Trong mỗi phân số đó, mẫu số cho biết gì, tử số cho biết gì ?

**163.** Viết phân số :

a) Bốn phần bảy ;

b) Năm phần mười một ;


c) Bảy mươi hai phần một trăm.

164. a) Viết số thích hợp vào ô trống : b) Viết phân số thích hợp vào ô trống :

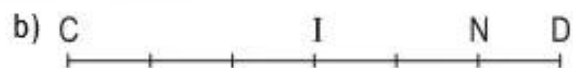
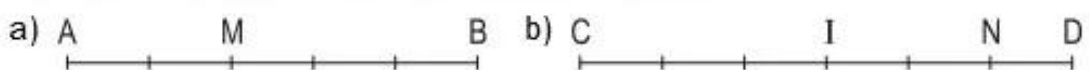
Phân số	Tử số	Mẫu số
$\frac{5}{9}$	5	9
$\frac{6}{17}$		
$\frac{98}{99}$		
$\frac{57}{100}$		

Tử số	Mẫu số	Phân số
8	11	
91	95	
2	19	
54	42	

165. Viết phân số thích hợp vào chỗ chấm (theo mẫu) :



166. Viết phân số thích hợp vào chỗ chấm (theo mẫu) :



Mẫu:  $AM = \frac{2}{5}AB$

$MB = \dots AB$

$CI = \dots CD$

$ID = \dots CD$

$CN = \dots CD$

$ND = \dots CD$

167. Viết thương của mỗi phép chia dưới dạng phân số :

$5 : 7 ; 6 : 10 ; 9 : 14 ; 5 : 5 ; 17 : 28.$

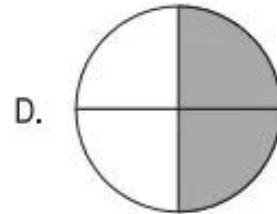
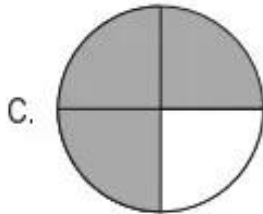
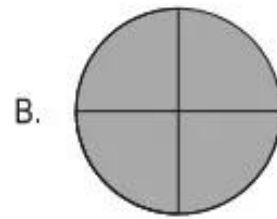
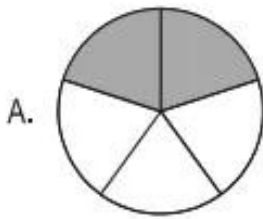
168. Viết mỗi phân số dưới dạng thương :

$$\frac{3}{4} ; \quad \frac{10}{3} ; \quad \frac{9}{5} ; \quad \frac{18}{2} ; \quad \frac{71}{100}$$

169. Viết mỗi phân số dưới dạng thương rồi tính giá trị của thương :

$$\frac{15}{3} ; \quad \frac{28}{4} ; \quad \frac{81}{9} ; \quad \frac{175}{25} ; \quad \frac{276}{23}$$

170. Đã tô đậm  $\frac{3}{4}$  hình tròn nào ?



171. Mẹ chia cái bánh thành 8 phần bằng nhau. Mẹ biểu bà 3 phần bánh, mẹ cho em 1 phần bánh. Phân số chỉ phần bánh mẹ đã biểu bà và cho em là phân số nào ?

A.  $\frac{1}{8}$

B.  $\frac{1}{2}$

C.  $\frac{5}{8}$

D.  $\frac{3}{4}$

