





BÀI 2

Chiếc bánh sinh nhật

1. Xác định số lượng của các khối có trong hình chiếc bánh dưới đây:



Khối					
Số lượng					

2. Vẽ hình chiếc bánh sinh nhật em sẽ nặn vào trang bên.

Tự đánh giá bài tập của em.

(tô màu vào số ngôi sao tương ứng)



Hoàn thành tốt



Hoàn thành



Chưa hoàn thành