

KIỂM TRA CUỐI NĂM

1. Khoanh vào chữ cái trước ý trả lời đúng.

a) Số liền sau số 789 là:

A. 787

B. 800

C. 790

b) Số thích hợp để điền vào ô trống $675 < \square$ là:

A. 756

B. 657

C. 567

2. Tìm số bị che.

a) $\star : 5 = 3$

Số bị che là:.....

b) $10 \times \star = 50$

Số bị che là:.....

3. Điền số thích hợp vào chỗ chấm.

a) 7 dm = cm

b) cm = 9 dm

4. Những câu Bình nói là *có thể* hay *không thể* xảy ra? Em hãy điền dấu (✓) vào các câu đúng.

a) Minh đã xếp được nhiều hơn 45 ngôi sao và ít hơn 47 ngôi sao.

Có thể

Không thể

b) Minh đã xếp được ít hơn 20 ngôi sao và nhiều hơn 24 ngôi sao.

Có thể

Không thể

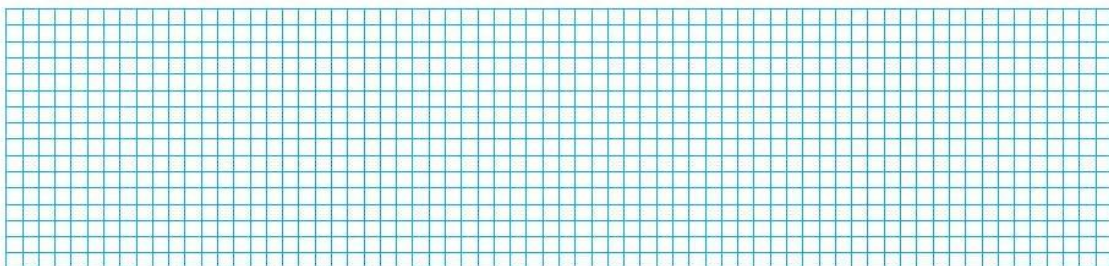
5. Đặt tính rồi tính.

$39 + 47$

$83 - 28$

$537 + 361$

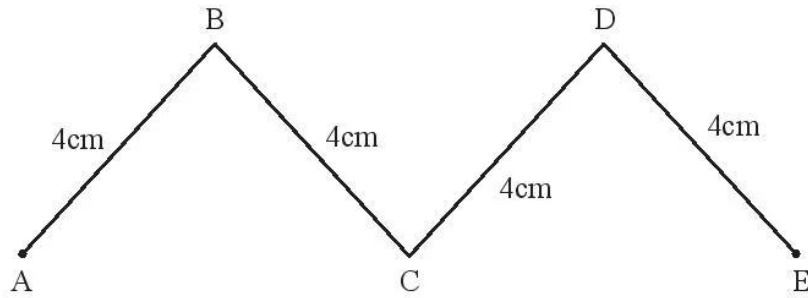
$786 - 501$



6. Tính:


$$4 \times 5 + 18 = \dots\dots\dots$$
$$= \dots\dots\dots$$

7. Viết phép tính và kết quả vào chỗ chấm.



Độ dài đường gấp khúc ABCDE là :

8. Có 45 kg gạo chia đều vào 5 bao. Hỏi mỗi bao có bao nhiêu ki-lô-gam gạo?



9. Vẽ thêm kim giờ và kim phút để đồng hồ chỉ giờ phù hợp.



7 giờ 30 tối, em ngồi vào bàn ôn bài.