

KIỂM TRA

1. Khoanh vào chữ cái trước ý trả lời đúng.

Số liền sau của 81 là:

A. 80

B. 81

C. 82

2. Khoanh vào chữ cái trước ý trả lời đúng.

Hiệu của 58 và 32 là:

A. $58 - 32$

B. $58 + 32$

C. $32 + 58$

3. Đúng ghi [đ], sai ghi [s].

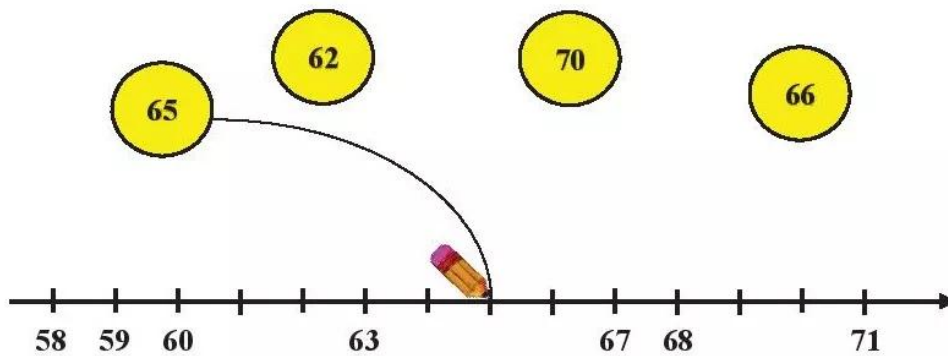
Số bé nhất có hai chữ số là:

a) 99

b) 11

c) 10

4. Nối (theo mẫu).



5. Nói (theo mẫu).

$8 + 6 = 14$
$14 - 6 = 8$

$7 + 7 = 14$
$14 - 7 = 7$

$9 + 5 = 14$
$14 - 5 = 9$

6. Tính:

$7 + 5 = \dots$

$11 - 6 = \dots$

$8 \text{ cm} + 4 \text{ cm} - 5 \text{ cm} = \dots$

$12 - 9 = \dots$


$3 + 9 = \dots$

$14 \text{ l} - 6 \text{ l} + 7 \text{ l} = \dots$


7. Đặt tính rồi tính.

$46 - 30$

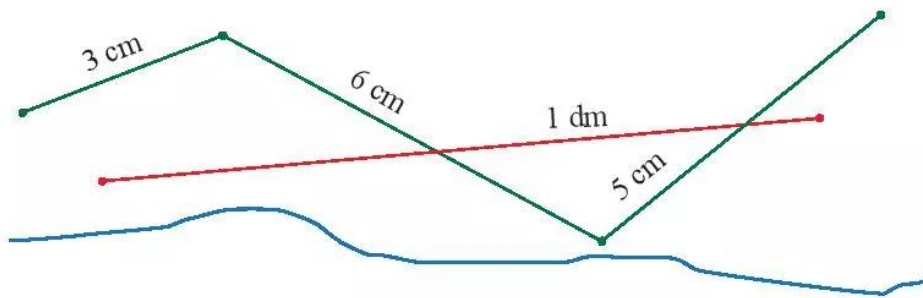
$22 + 5$



8. Huy xếp được 7 ngôi sao, Mai xếp được nhiều hơn Huy 5 ngôi sao. Hỏi Mai xếp được bao nhiêu ngôi sao?



9. Đúng ghi đ, sai ghi s.



- a) Các hình ảnh trên đều là đường gấp khúc.
- b) Đường màu xanh lá cây dài 14 cm.
- c) Đoạn thẳng màu đỏ dài 10 cm.

10. Đánh dấu (✓) vào bức tranh bạn Ong vẽ.

Biết rằng bạn Ong chỉ vẽ một bức tranh, bức tranh đó có đặc điểm như sau:

- Bạn vẽ bầu trời lúc ban ngày.
- Bức tranh có hai đám mây.
- Khung tranh không phải hình tròn.

