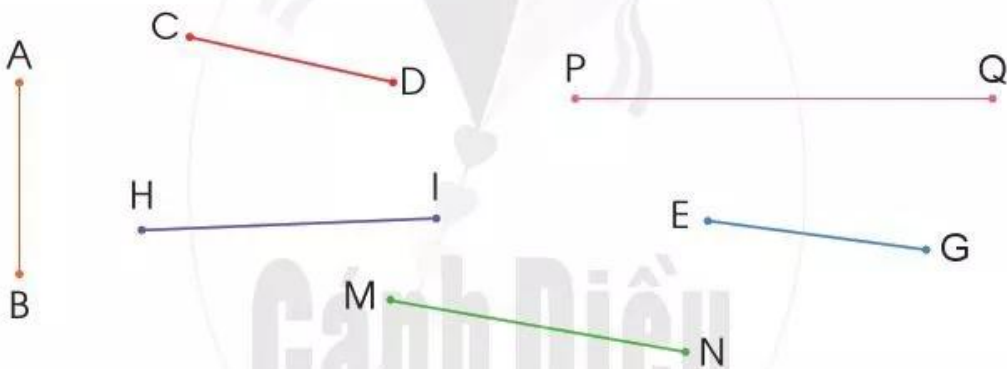


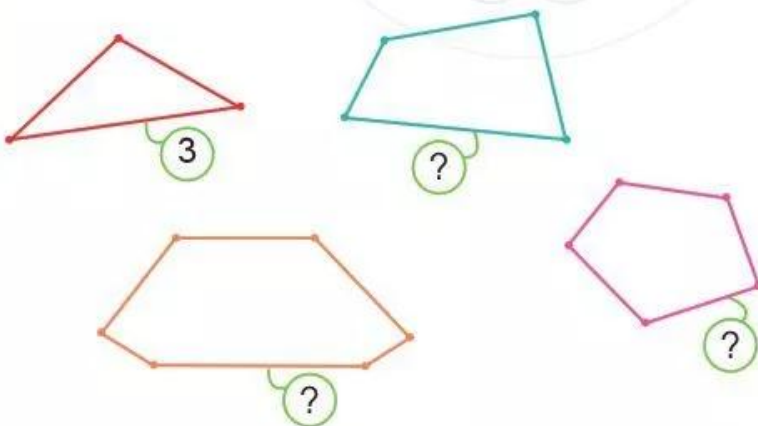
ĐIỂM - ĐOẠN THẲNG

A •	B •	A ————— B
Điểm A	Điểm B	Đoạn thẳng AB

1 Đọc tên các điểm và các đoạn thẳng trong hình sau:

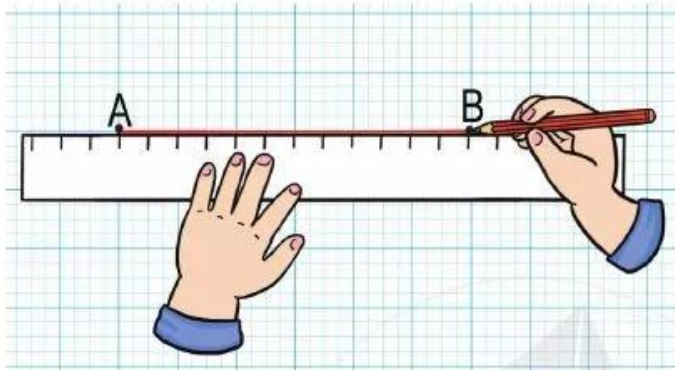


2 Đếm số đoạn thẳng trong mỗi hình sau (theo màu):



3 Vẽ đoạn thẳng trên giấy kẻ ô li (theo mẫu):

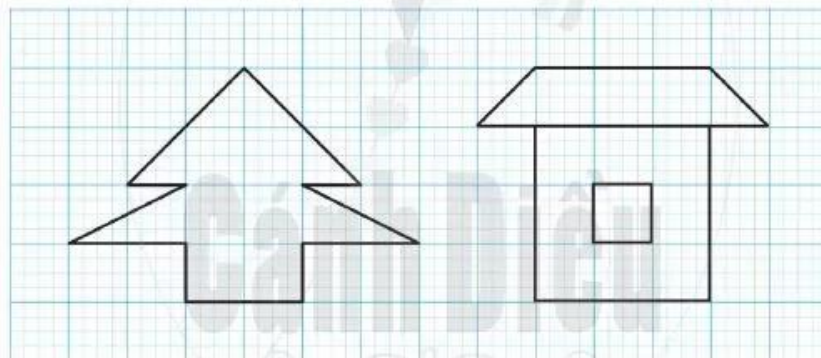
Mẫu: Vẽ đoạn thẳng AB



Đánh dấu hai điểm A, B.
Dùng thước thẳng nối
hai điểm A và B.



- a) Vẽ đoạn thẳng MN.
- b) Vẽ đoạn thẳng PQ.
- c) Vẽ hình vào vở ô li (theo mẫu):



4 Bạn Voi thích dùng các đoạn thẳng để tạo hình các chữ cái và số. Em hãy dùng các đoạn thẳng để tạo hình tên của mình.

