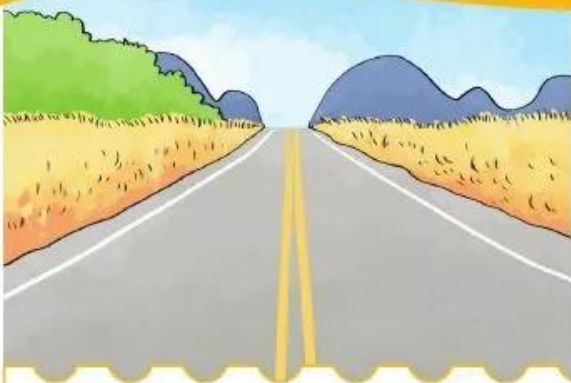
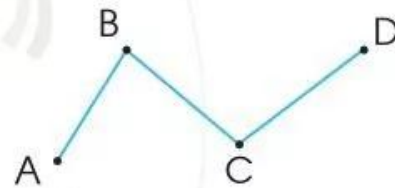


ĐƯỜNG THẲNG – ĐƯỜNG CONG ĐƯỜNG GẤP KHÚC



Đường thẳng




Đường cong



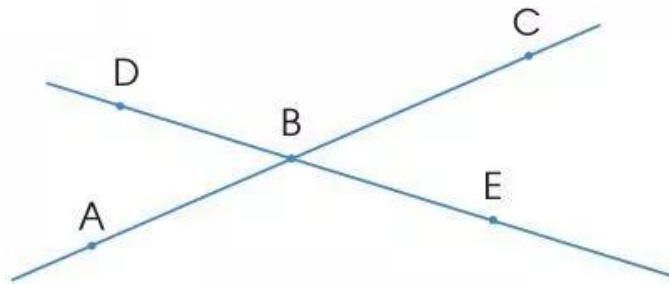
Ba điểm A, B, C cùng nằm trên một đường thẳng.
A, B, C là ba điểm thẳng hàng.

Đường gấp khúc ABCD gồm ba đoạn thẳng AB, BC và CD.

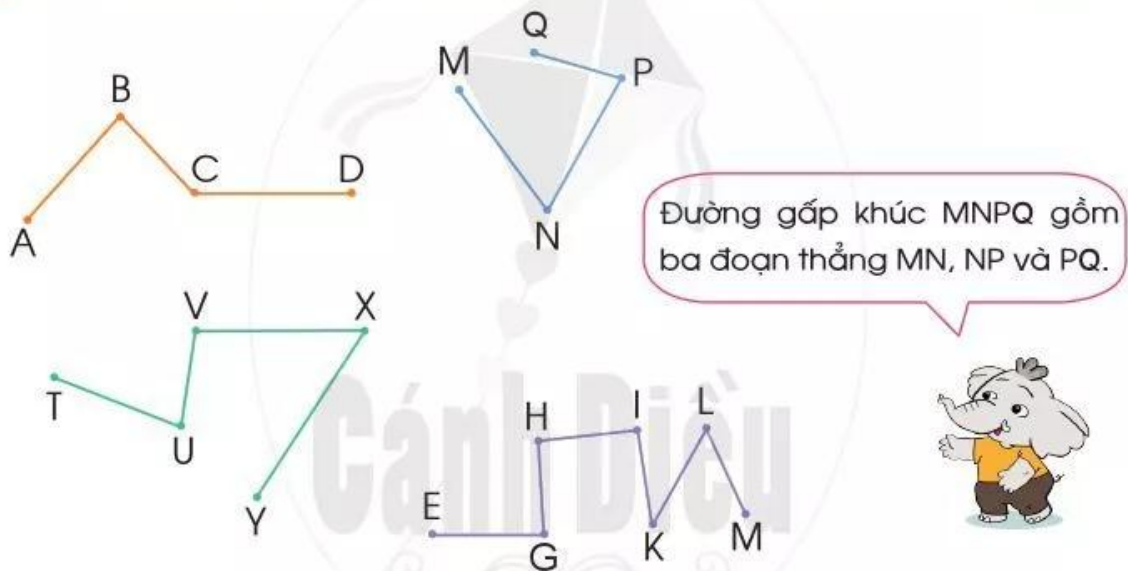
1 Chỉ ra đường thẳng, đường cong trong mỗi hình sau:



2 Nêu tên ba điểm thẳng hàng:



3 Nêu tên các đoạn thẳng của mỗi đường gấp khúc dưới đây:



4 Tìm hai hình ảnh tạo bởi đường cong, đường gấp khúc trong bức tranh sau:

