


HÌNH TỨ GIÁC



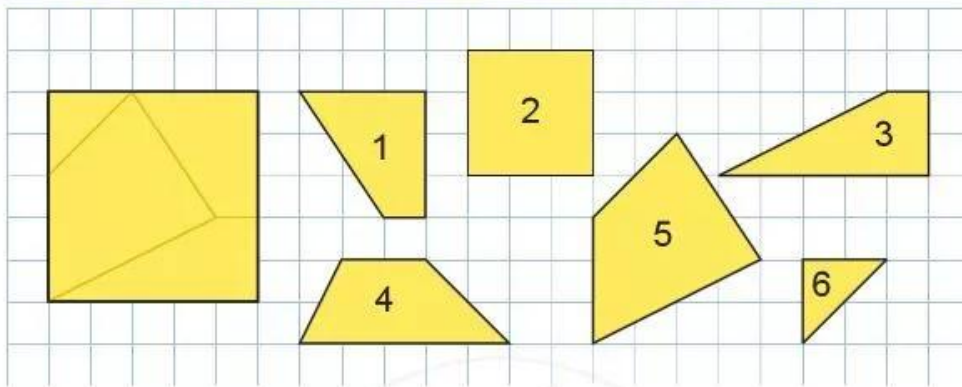
1 Trong các hình sau, hình nào là hình tứ giác?



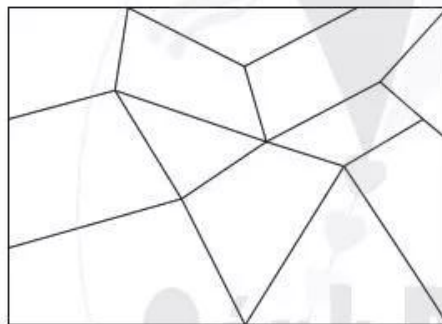
2 Chỉ ra những hình tứ giác em nhìn thấy trong mỗi hình sau:



3 Hình vuông sau được ghép từ các mảnh bìa nào?



4 Bạn Voi muốn sơn màu xanh da trời vào các mảnh ghép hình tứ giác. Em hãy chỉ giúp bạn Voi những mảnh ghép hình tứ giác.



5 a) Người Mông thường sử dụng đá để làm tường rào xung quanh ngôi nhà của mình. Em có nhìn thấy hình ảnh của hình tứ giác trên bức tường đá trong bức tranh sau không?



b) Tìm một số đồ vật trong thực tế có dạng hình tứ giác.