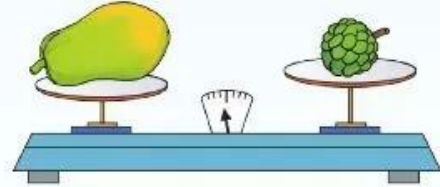


KI-LÔ-GAM

Quyển sách nặng hơn quyển vở.
Quyển vở nhẹ hơn quyển sách.

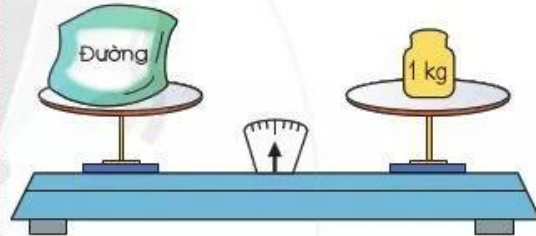


Người ta có thể dùng cân đĩa để so sánh sự nặng, nhẹ của đồ vật.



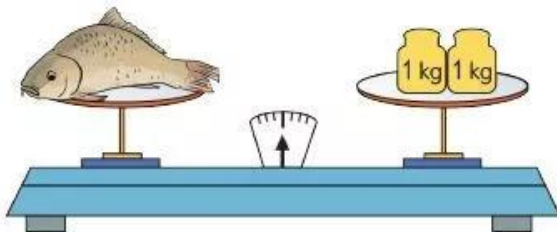
Quả cân 1 ki-lô-gam

Ki-lô-gam viết tắt là kg.




Gói đường cân nặng 1 kg.

1 Số ?



Con cá cân nặng ? kg.



Quả dưa hấu cân nặng ? kg.

2 Tính (theo mẫu):

Mẫu: $36 \text{ kg} - 9 \text{ kg} = 27 \text{ kg}$

$18 \text{ kg} + 6 \text{ kg}$

$10 \text{ kg} + 3 \text{ kg} - 5 \text{ kg}$

$24 \text{ kg} - 5 \text{ kg}$

$58 \text{ kg} - 9 \text{ kg} - 20 \text{ kg}$

3 Thảo cân nặng 29 kg, Huy nặng hơn Thảo 3 kg. Hỏi Huy cân nặng bao nhiêu ki-lô-gam?

4 Thực hành “Cân đồ vật”



5 Kể tên một số loại cân trong thực tế cuộc sống.

