

LUYỆN TẬP (tiếp theo)

1 Đặt tính rồi tính:

$12 + 48$

$59 + 21$

$74 + 6$

$85 + 5$

2 Tính (theo mẫu):

Mẫu:

$$\begin{array}{r} 72 \\ + 28 \\ \hline 100 \end{array}$$

• 2 cộng 8 bằng 10, viết 0, nhớ 1

• 7 cộng 2 bằng 9, thêm 1 bằng 10, viết 10

Vậy $72 + 28 = 100$

$$\begin{array}{r} 63 \\ + 37 \\ \hline \square ? \end{array}$$

$$\begin{array}{r} 81 \\ + 19 \\ \hline \square ? \end{array}$$

$$\begin{array}{r} 38 \\ + 62 \\ \hline \square ? \end{array}$$

$$\begin{array}{r} 45 \\ + 55 \\ \hline \square ? \end{array}$$

3 a) Đặt tính rồi tính:

$64 + 36$

$79 + 21$

$52 + 48$

$34 + 66$

b) Tính nhẩm:

$60 + 40$

$40 + 60$

$20 + 80$

$80 + 20$

$10 + 90$

$90 + 10$

$30 + 70$

$70 + 30$

4 a) Đặt tính rồi tính (theo mẫu):

Mẫu:

$$\begin{array}{r} 93 \\ + 7 \\ \hline 100 \end{array}$$

• 3 cộng 7 bằng 10, viết 0, nhớ 1

• 9 thêm 1 bằng 10, viết 10

Vậy $93 + 7 = 100$

$97 + 3$

$91 + 9$

$92 + 8$

$98 + 2$

b) Tính nhẩm:




$99 + 1$

$96 + 4$

$94 + 6$

$95 + 5$

5 Tìm các phép tính có kết quả bằng nhau:



$82 + 8$

$1 + 99$

$4 + 76$

6 Ngày thứ nhất cô Liên thu hoạch được 65 cây bắp cải, ngày thứ hai cô Liên thu hoạch được nhiều hơn ngày thứ nhất 35 cây. Hỏi ngày thứ hai cô Liên thu hoạch được bao nhiêu cây bắp cải?

