







LUYỆN TẬP

1 Chọn kết quả đúng với mỗi phép tính:



2 Tính nhẩm:

$9 + 1 + 7$

$9 + 8$

$8 + 2 + 4$

$8 + 6$

$6 + 4 + 5$

$6 + 9$

3 a) Tính:

$9 + 2$

$2 + 9$

$8 + 4$

$4 + 8$

$7 + 4$

$4 + 7$

b) Nhận xét kết quả các phép tính trong từng cột.

- 4 Nhà bạn Duyên nuôi 6 con thỏ trắng và 7 con thỏ nâu. Hỏi nhà bạn Duyên nuôi tất cả bao nhiêu con thỏ?



Phép tính: $\boxed{?} + \boxed{?} = \boxed{?}$

Trả lời: Nhà bạn Duyên nuôi tất cả $\boxed{?}$ con thỏ.

- 5 Thảo luận cách tính của Dung và Đức. Em thích cách nào hơn?

$$9 + 5 = ?$$

$$\begin{aligned} 9 + 5 &= 9 + 1 + 4 \\ &= 10 + 4 \\ &= 14 \end{aligned}$$



$$\begin{array}{ccccccc} \curvearrowright & \curvearrowright & \curvearrowright & \curvearrowright & \curvearrowright & & \\ 9 & 10 & 11 & 12 & 13 & 14 & \\ \text{Vậy } 9 + 5 & = & 14 & & & & \end{array}$$

Đếm thêm 5
bắt đầu từ 9

