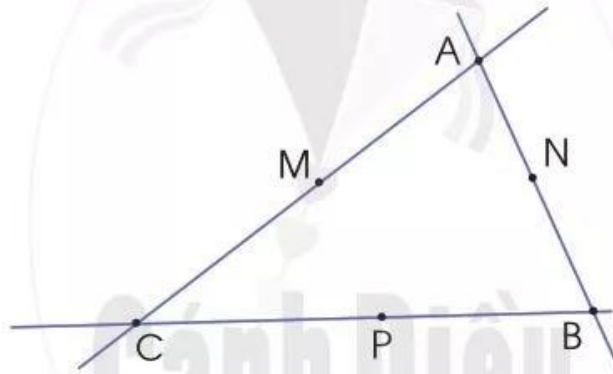


ÔN TẬP VỀ HÌNH HỌC VÀ ĐO LƯỜNG

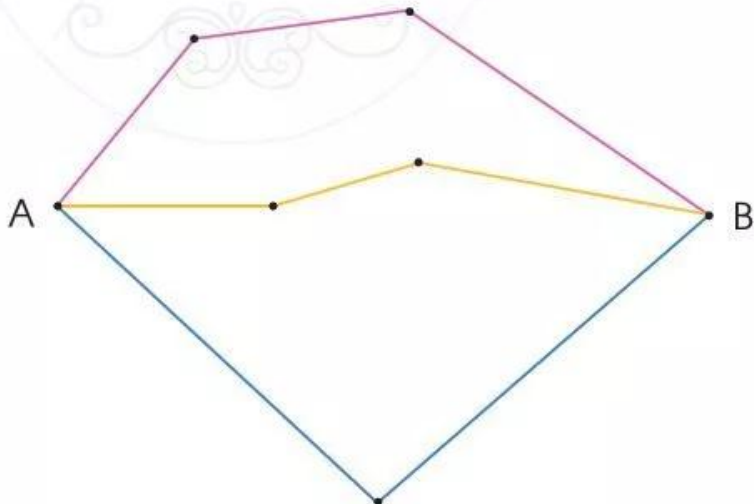
- 1 a) Chỉ ra đường thẳng, đường gấp khúc, đường cong trong hình sau:



- b) Nêu tên ba điểm thẳng hàng trong hình sau:



- 2 a) Đo và tính độ dài các đường gấp khúc từ A đến B sau:



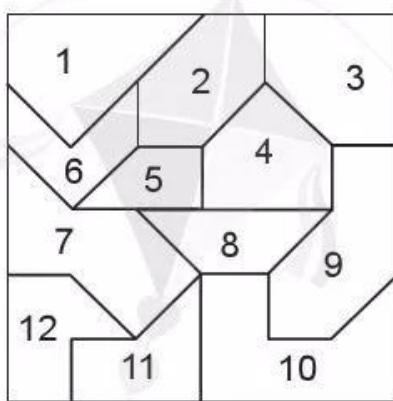
- b) Vẽ đoạn thẳng có độ dài 1 dm.

3 Bình sữa to có 23 l sữa, bình sữa nhỏ có ít hơn bình sữa to 8 l sữa. Hỏi bình sữa nhỏ có bao nhiêu lít sữa?

4 a) Mỗi mảnh bìa sau có dạng hình gì?



b) Hai mảnh bìa trên lắp được vào vị trí nào trong hình vuông sau?



5 Quan sát cân nặng của các loại hàng bày bán trong siêu thị:



a) Loại hàng nào nặng nhất? Loại hàng nào nhẹ nhất?

b) Chị Lan đã mua tất cả 10 kg. Theo em, chị Lan có thể đã mua những loại hàng nào?