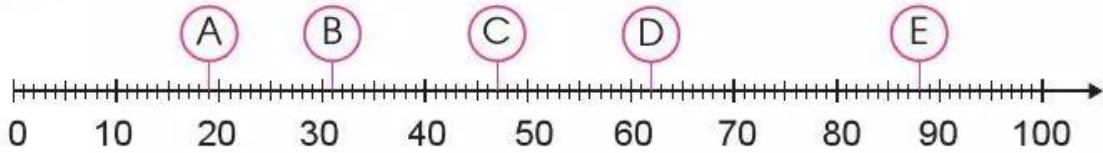


# ÔN TẬP

1 a) Mỗi chữ cái ở vạch chỉ số nào trên tia số dưới đây?



b) Số ?

Số liền trước	Số đã cho	Số liền sau
?	40	?
?	59	?
?	81	?

2 a) Tính nhẩm:

$8 + 4$

$15 - 6$

$9 + 2$

$6 + 8$

$4 + 8$

$15 - 9$

$11 - 9$

$14 - 8$

b) Đặt tính rồi tính:

$48 + 27$

$25 + 75$

$80 - 7$

$100 - 8$

$82 - 55$

$50 - 39$

$91 + 9$

$100 - 28$

c) Tính:

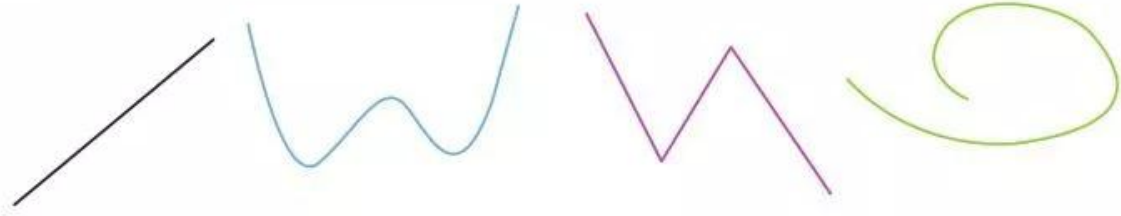
$42 + 18 - 10$

$60 - 13 + 23$

3 Khi tham gia ngày hội "Bảo vệ môi trường từ các sản phẩm tái chế", khối lớp Hai làm được 24 sản phẩm, khối lớp Ba làm được nhiều hơn khối lớp Hai 16 sản phẩm. Hỏi khối lớp Ba làm được bao nhiêu sản phẩm?



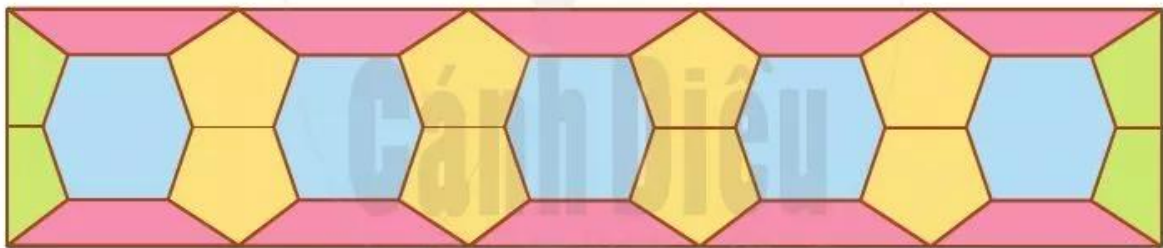
- 4 a) Chỉ ra đường thẳng, đường cong, đường gấp khúc trong hình sau:



- b) Mỗi đường gấp khúc sau gồm mấy đoạn thẳng?



- c) Hình sau có bao nhiêu mảnh ghép hình tứ giác?




- 5 Em hãy gợi ý giúp chị Hà chọn những can để đựng vừa đủ 8 l một ong:




6 a) Nêu tên các con vật từ nhẹ nhất đến nặng nhất.



85 kg



46 kg



63 kg



54 kg

b) Tính tổng cân nặng của con dê và con hươu.

c) Tính hiệu cân nặng của con vật nặng nhất và con vật nhẹ nhất.

7 a) Em hãy ước lượng trong hình sau có khoảng bao nhiêu chiếc chìa khoá:



b) Em hãy đếm số chiếc chìa khoá ở hình trên để kiểm tra lại.