
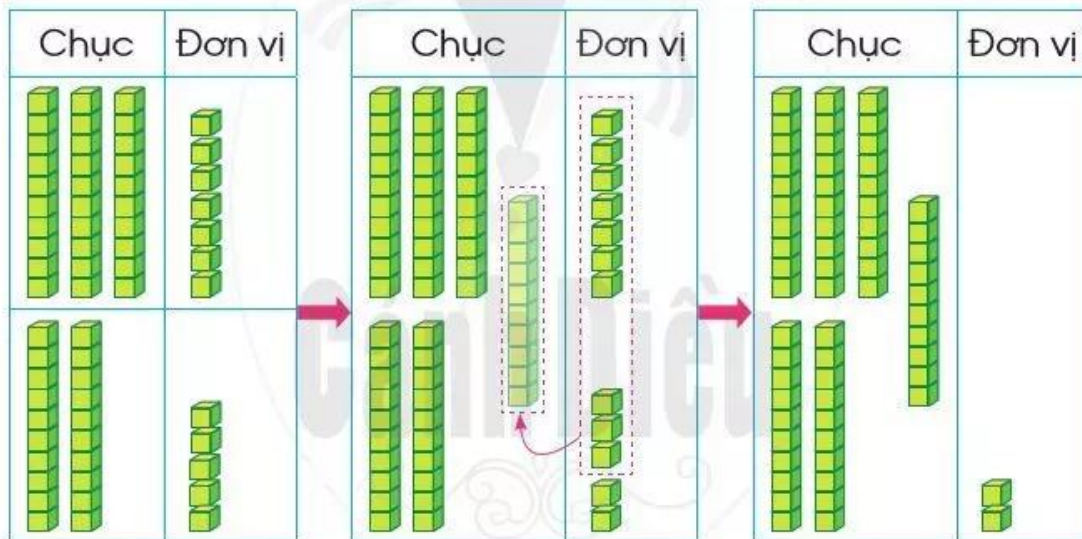


PHÉP CỘNG (CÓ NHỚ) TRONG PHẠM VI 100



Tính $37 + 25 = ?$



Ta tính theo cột dọc như sau:

$$\begin{array}{r} 37 \\ + 25 \\ \hline \end{array}$$

• Đặt tính

$$\begin{array}{r} 37 \\ + 25 \\ \hline 2 \end{array}$$

• 7 cộng 5 bằng 12, viết 2, nhớ 1

$$\begin{array}{r} 37 \\ + 25 \\ \hline 62 \end{array}$$

• 3 cộng 2 bằng 5, thêm 1 bằng 6, viết 6

Vậy $37 + 25 = 62$

1 Tính:

$$\begin{array}{r} 32 \\ + 29 \\ \hline \square \\ \square \end{array}$$

$$\begin{array}{r} 15 \\ + 38 \\ \hline \square \\ \square \end{array}$$

$$\begin{array}{r} 36 \\ + 47 \\ \hline \square \\ \square \end{array}$$

$$\begin{array}{r} 67 \\ + 17 \\ \hline \square \\ \square \end{array}$$

2 Đặt tính rồi tính:

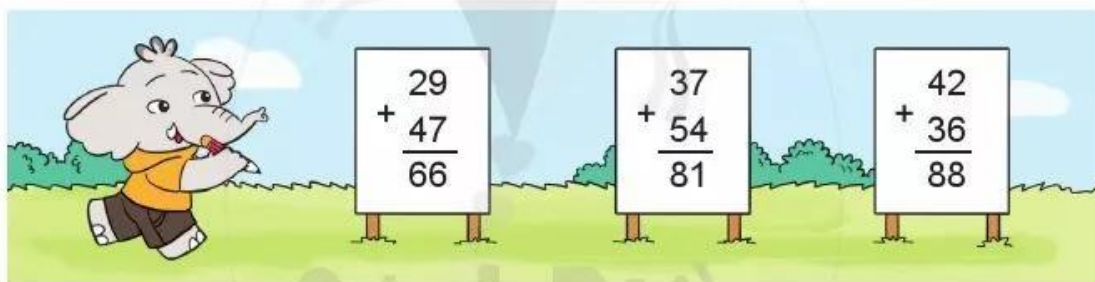
$19 + 43$

$47 + 14$

$58 + 26$

$66 + 25$

3 Tìm lỗi sai trong mỗi phép tính sau rồi sửa lại cho đúng:



4 Một trang trại có 28 con dê đen và 14 con dê trắng. Hỏi trang trại đó có tất cả bao nhiêu con dê?

