

PHÉP CỘNG (CÓ NHỚ) TRONG PHẠM VI 20 (tiếp theo)

Có tất cả bao nhiêu quả na?

$9 + 4 = ?$

9 cộng 1 bằng 10
10 cộng 3 bằng 13

Vậy $9 + 4 = 13$

1 Tính:

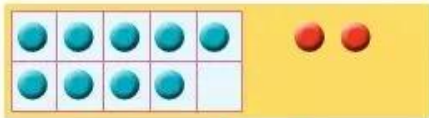
$9 + 3 = \boxed{?}$

9 cộng $\boxed{?}$ bằng 10
10 cộng $\boxed{?}$ bằng $\boxed{?}$

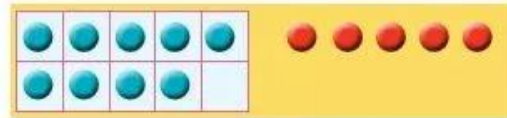
$8 + 3 = \boxed{?}$

8 cộng $\boxed{?}$ bằng 10
10 cộng $\boxed{?}$ bằng $\boxed{?}$

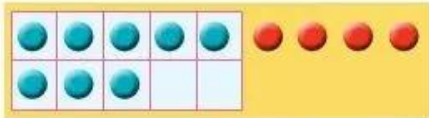
2 Tính:



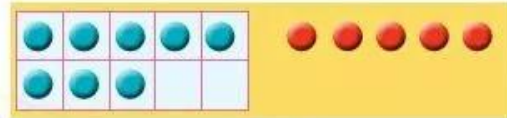
$9 + 2 = \boxed{?}$



$9 + 5 = \boxed{?}$



$8 + 4 = \boxed{?}$



$8 + 5 = \boxed{?}$

3 Tính:

$9 + 7$

$9 + 9$

$8 + 7$

$9 + 8$

$8 + 8$

$8 + 9$

4 Có 9 chậu hoa, các bạn mang đến 3 chậu hoa nữa. Hỏi có tất cả bao nhiêu chậu hoa?



Phép tính: $\boxed{?} \boxed{?} \boxed{?} = \boxed{?}$

Trả lời: Có tất cả $\boxed{?}$ chậu hoa.