

ÔN TẬP CÁC SỐ ĐẾN 100

Bảng các số từ 1 đến 100

1	2	3	4	5	6	7	8	9	10
11	12	13	14	15	16	17	18	19	20
21	22	23	24	25	26	27	28	29	30
31	32	33	34	35	36	37	38	39	40
41	42	43	44	45	46	47	48	49	50
51	52	53	54	55	56	57	58	59	60
61	62	63	64	65	66	67	68	69	70
71	72	73	74	75	76	77	78	79	80
81	82	83	84	85	86	87	88	89	90
91	92	93	94	95	96	97	98	99	100

Chân trời sáng tạo

1 Đọc số.

- Đọc các số theo thứ tự từ 1 đến 100 và ngược lại.
- Đọc các số tròn chục: 10, 20, ..., 100.
- Đọc các số cách 5 đơn vị: 5, 10, 15, ..., 100.

2 Trả lời các câu hỏi.

- Các số trong bảng được sắp xếp theo thứ tự nào?
- Các số trong cùng một hàng (không kể số cuối cùng) có gì giống nhau?
- Các số trong cùng một cột có gì giống nhau?
- Nhìn hai số bất kì trong cùng một hàng hay cùng một cột, em có thể nói ngay số nào bé hơn và số nào lớn hơn không?



Từ trái sang phải,
từ trên xuống dưới.

3 So sánh các số.

a) So sánh hai số.



b) Sắp xếp các số theo thứ tự từ bé đến lớn.

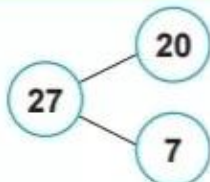


4 Làm theo mẫu.

Mẫu:

27

Chục	Đơn vị
2	7

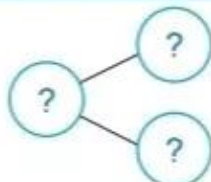


$$27 = 20 + 7$$

a)

?

Chục	Đơn vị
?	?

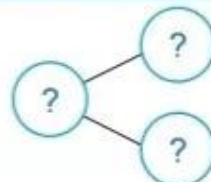


..?

b)

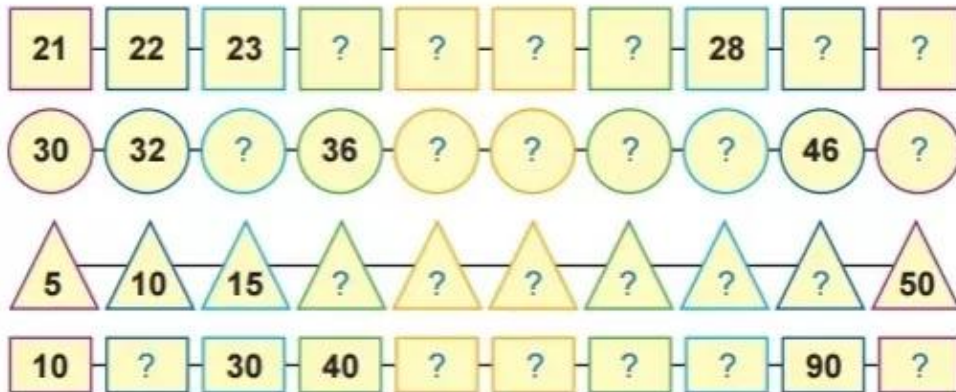
18

Chục	Đơn vị
?	?



..?

1 Số?



2 Số?



Đếm sao cho nhanh?



Chân trời sáng tạo

Có .?. bạn tham gia trò chơi.

3 Số?

Người ta có thể dùng chai nhựa đã qua sử dụng để làm chậu trồng cây.



Dưới đây là một số chai, bình bằng nhựa mà bạn Nam đã thu gom được.

Có tất cả bao nhiêu cái?



Có tất cả .?. cái.



Khay cuối cùng có bao nhiêu cái bánh?



Tim phòng học giúp các bạn.



Cùng người thân chơi *trốn tìm* để tập đếm: "Năm, mười, mười lăm, hai mươi, ..., một trăm".