


# ÔN TẬP HỌC KÌ 1


## ÔN TẬP CÁC SỐ TRONG PHẠM VI 100

### 1 Số?



a) Có tất cả .? . chấm tròn.

b)



### 2 Đúng ( đ ) hay sai ( s )?

a) 34 đọc là:

• ba bốn

• ba mươi bốn

• ba mươi tư

b) Bảy mươi một viết là:

• 71

• 701



c) 62 gồm:

• 60 chục và 2 đơn vị

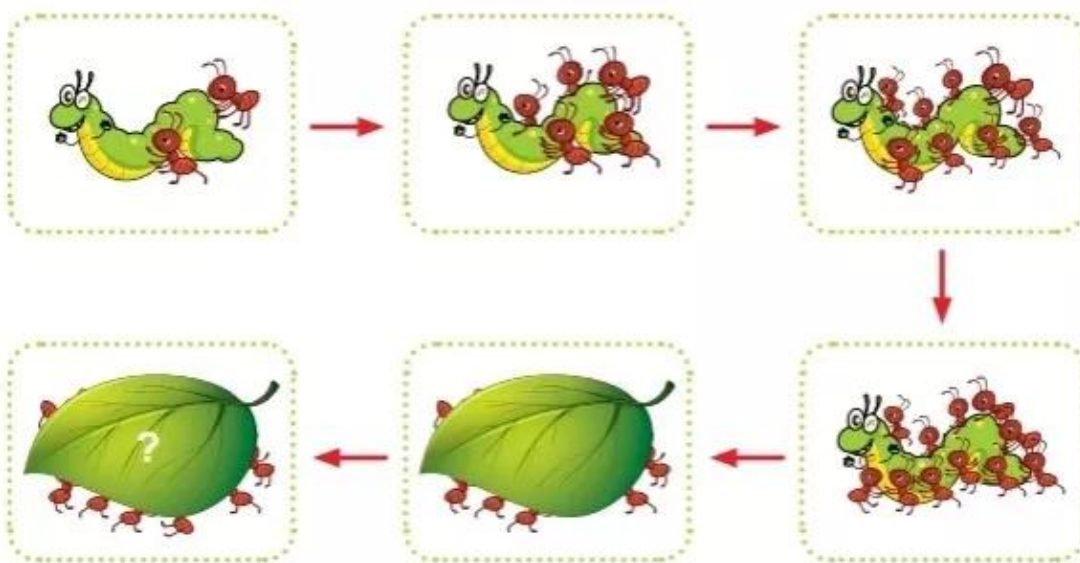
• 6 chục và 2 đơn vị

• 60 và 2

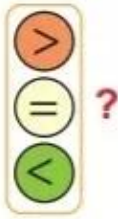
3 Số?



4 Hình cuối cùng có bao nhiêu con kiến?



5



$34 \text{ ? } 30$

$51 \text{ ? } 28$

$70 + 4 \text{ ? } 74$

$9 \text{ ? } 22$

$75 \text{ ? } 57$

$9 + 5 \text{ ? } 5 + 9$

6 Số nào lớn nhất, số nào bé nhất?



7 Đổi chỗ hai chiếc lá để các số được sắp xếp theo thứ tự:

a) Từ bé đến lớn.



b) Từ lớn đến bé.





**8** Tìm nhà cho chim (mỗi con chim ở một nhà).



Số nhà của tớ là số liền sau của 70.



Số nhà của tớ là số liền trước của 20.



Số nhà của tớ bé hơn số nhà của bạn.



**9** Có bao nhiêu quả trứng chim?

Ước lượng: Có khoảng .?. quả.

Đếm: Có .?. quả.



## ÔN TẬP PHÉP CỘNG VÀ PHÉP TRỪ

### 1 Tính nhẩm.

a)  $8 + 3$        $7 + 6$        $12 - 5$        $11 - 3$   
 $5 + 8$        $9 + 4$        $16 - 8$        $13 - 7$

b)  $40 + 50$                        $70 - 20$                        $90 - 50$   
 $60 - 30$                        $80 + 20$                        $10 + 70$


### 2 Đặt tính rồi tính.


$80 + 18$                        $54 + 27$                        $30 + 70$   
 $30 - 13$                        $32 - 15$                        $100 - 50$

### 3 Mỗi con vật che số nào?

$9 +$    $= 16$


$80 -$    $= 20$

  $- 6 = 8$

  $+ 10 = 50$



Chọn ba số rồi viết các phép tính (theo mẫu).



Mẫu:

$23 + 27 = 50$        $50 - 27 = 23$

$27 + 23 = 50$        $50 - 23 = 27$

4 Số?

50	21	8	30	25	12	6	36
	29	42	?	?	?	?	?

5 Số?

Cho biết ba số cạnh nhau theo hàng ngang hay cột dọc đều có tổng là 20.



6

Có 7 con đom đóm bay ra ngoài, trong bình còn lại 5 con đom đóm. Hỏi lúc đầu trong bình có bao nhiêu con đom đóm?





7 Mỗi con vật che dấu phép tính nào (+, -)?

a) 76  20 = 96

b) 0  51 = 51

76  20 = 56

83  83 = 0

42  0 = 42

c) 35  19 = 19  35



Giúp bạn Kiên tìm đường về nhà.

Đi theo các phép tính có nhớ.

8 Viết phép tính tìm số con bọ rùa được hỏi ở mỗi hình vẽ sau.

a)

b)

c)



**9** Số?

- a) Bạn gái có nhiều hơn bạn trai  
.?. hạt đậu.
- b) Bạn trai có ít hơn bạn gái  
.?. hạt đậu.



**10**

Bạn trai có **15** hạt đậu.  
Bạn gái có ít hơn bạn trai  
**7** hạt đậu.  
Hỏi bạn gái có bao nhiêu  
hạt đậu?



**11**

Giải bài toán theo tóm tắt sau:  
Bạn gái: **15** hạt đậu  
Bạn trai nhiều hơn bạn gái: **5** hạt đậu  
Bạn trai: ... hạt đậu?





**12** Quan sát hình vẽ các con bọ rùa.



**a) Số?**

- Theo màu sắc, số bọ rùa trên gồm .?. loại.
- Có .?. con bọ rùa màu đỏ.  
Có .?. con bọ rùa màu vàng.  
Có .?. con bọ rùa màu xanh.  
Có .?. con bọ rùa màu tím.

**b) Đặt  vào bảng (mỗi  thể hiện một con).**

<i>Chân trời sáng tạo</i>			
 <b>xanh</b>	 <b>đỏ</b>	 <b>vàng</b>	 <b>tím</b>

- Bọ rùa màu gì nhiều nhất? Bọ rùa màu gì ít nhất?
- Bọ rùa màu đỏ nhiều hơn bọ rùa màu vàng bao nhiêu con?

## ÔN TẬP HÌNH HỌC VÀ ĐO LƯỜNG

### 1 Số?

1 dm = .?. cm

10 cm = .?. dm

3 dm = .?. cm

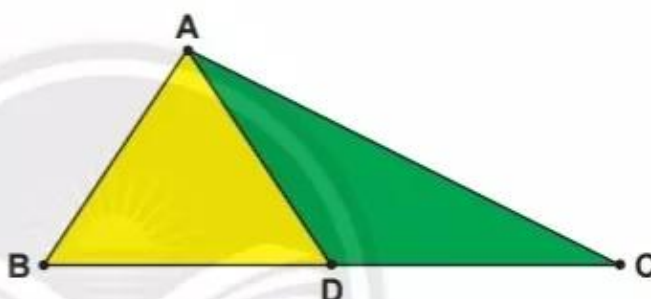
40 cm = .?. dm

### 2 cm hay dm?

- a) Một đốt ngón tay của em dài 1 .?.
- b) Một gang tay của mẹ dài 2 .?.
- c) Em của bạn Lan cao 10 .?.
- d) Cây bút chì của em dài 10 .?.

### 3 Quan sát hình vẽ bên.

- a) Đọc tên các **điểm** và các **đoạn thẳng**.
- b) Đọc tên **ba điểm thẳng hàng**.



### 4 Quan sát hình vẽ.



- a) **Đường thẳng, đường cong hay đường gấp khúc?**
  - Đường màu đỏ là .?.
  - Đường màu xanh dương là .?.
  - Đường màu xanh lá cây là .?.
- b) **Đo rồi tính độ dài đường gấp khúc.**  
 .?. cm + .?. cm + .?. cm = .?. cm



Hai hình nào ghép lại được một khối lập phương?



A



B



C



**5 Xem lịch rồi cho biết:**

- a) Tháng 10 có bao nhiêu ngày?  
 Có mấy ngày Chủ nhật? Đó là những ngày nào?  
 Ngày 20 tháng 10 là thứ mấy?

**Tháng 10 2021**


Thứ Hai	Thứ Ba	Thứ Tư	Thứ Năm	Thứ Sáu	Thứ Bảy	Chủ nhật
				1	2	3
4	5	6	7	8	9	10
11	12	13	14	15	16	17
18	19	20	21	22	23	24
25	26	27	28	29	30	31

- b) Tháng 11 có bao nhiêu ngày?  
 Có mấy ngày Chủ nhật? Đó là những ngày nào?  
 Ngày 20 tháng 11 là thứ mấy?

**Tháng 11 2021**

Thứ Hai	Thứ Ba	Thứ Tư	Thứ Năm	Thứ Sáu	Thứ Bảy	Chủ nhật
1	2	3	4	5	6	7
8	9	10	11	12	13	14
15	16	17	18	19	20	21
22	23	24	25	26	27	28
29	30					

**6 Số?**

- a)  Ngày .?. tháng .?., chúng em đi tặng hoa các chú bộ đội.



Xe khởi hành lúc .?. giờ.



Chúng em tặng hoa các chú bộ đội lúc .?. giờ.



Em hãy ghi nhận những ngày đáng nhớ của em và của những người thân trong gia đình em.

Ngày, tháng	Sự kiện đáng nhớ
?	?
?	?
?	?