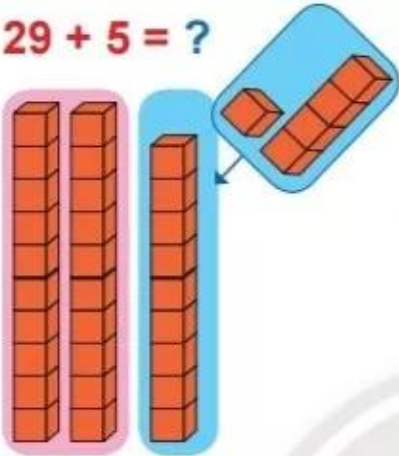


PHÉP CỘNG CÓ NHỚ TRONG PHẠM VI 100

$$29 + 5 = ?$$



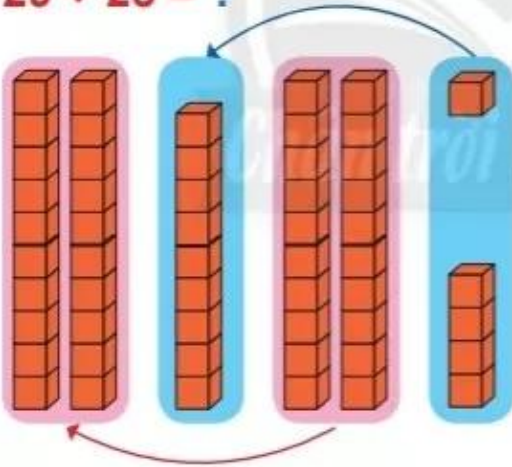
$$\begin{array}{r} 29 \\ + 5 \\ \hline 34 \end{array}$$

• 9 cộng 5 bằng 14, viết 4, nhớ 1.

• 2 thêm 1 bằng 3, viết 3.

$$29 + 5 = 34$$

$$29 + 25 = ?$$



$$\begin{array}{r} 29 \\ + 25 \\ \hline 54 \end{array}$$

• 9 cộng 5 bằng 14, viết 4, nhớ 1.

• 2 cộng 2 bằng 4, thêm 1 bằng 5, viết 5.

$$29 + 25 = 54$$

1

Đặt tính rồi tính.

$$49 + 34$$

$$58 + 23$$

$$37 + 46$$

$$68 + 7$$

$$79 + 6$$

$$7 + 84$$

1 Tính nhẩm.

$9 + 3$

$8 + 6$

$6 + 5$

$7 + 4$

$5 + 9$

$4 + 8$

$5 + 6$

$6 + 7$

2 Tính:

a) $26 + 4 + 2$

b) $45 + 5 + 3$

c) $58 + 2 + 32$

$26 + 6$

$45 + 8$

$58 + 34$

3



?

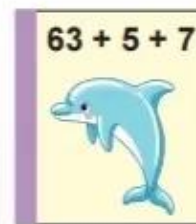

$10 + 5 \text{ ? } 12 + 3$

$80 + 4 \text{ ? } 82 + 3$

$7 + 3 + 5 \text{ ? } 7 + 5 + 3$

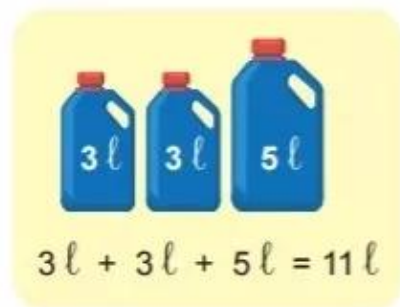
$19 + 1 + 6 \text{ ? } 19 + 5 + 1$

4 Tính tổng để cắt sách vào ba lô thích hợp.



5 Tính:

Mẫu:



6

Có 47 con thỏ xám. Số thỏ trắng nhiều hơn số thỏ xám là 18 con.
Hỏi có bao nhiêu con thỏ trắng?



Giúp bạn Sóc đi đúng đường để tìm được hạt dẻ.

Tính tổng $24 + 9 = 33$.

→ Tìm phép tính cộng có số hạng là 33 rồi tính tổng, ...
Tiếp tục như vậy sẽ tìm được hạt dẻ.

