

PHÉP CỘNG CÓ TỔNG BẰNG 10



1 Thêm mấy để được 10?

a)

●	●	●	●	●
●	●	●	●	

 b)

●	●	●	●	●
●	●			

 c)

●	●	●	●	●
●	●	●		

 d)

●	●	●	●	●
●				





2 Số?




$7 + ? = 10$ $10 = 8 + ?$
 $9 + ? = 10$ $10 = 6 + ?$

3 Tính:

$9 + 1 + 7$ $7 + 3 + 6$
 $6 + 4 + 2$ $8 + 2 + 5$

4 Hai hình nào có tổng số con chó là 10?

A  B  C  D 

E  H  K  M 