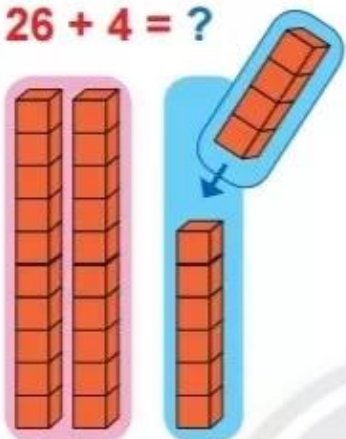


## PHÉP CỘNG CÓ TỔNG LÀ SỐ TRÒN CHỤC

$26 + 4 = ?$



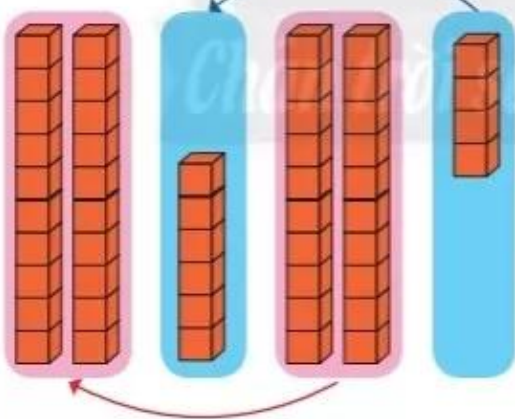
$$\begin{array}{r} 26 \\ + 4 \\ \hline 30 \end{array}$$

• 6 cộng 4 bằng 10, viết 0, nhớ 1.

• 2 thêm 1 bằng 3, viết 3.

$26 + 4 = 30$

$26 + 24 = ?$



$$\begin{array}{r} 26 \\ + 24 \\ \hline 50 \end{array}$$

• 6 cộng 4 bằng 10, viết 0, nhớ 1.

• 2 cộng 2 bằng 4, thêm 1 bằng 5, viết 5.

$26 + 24 = 50$

1

Đặt tính rồi tính.

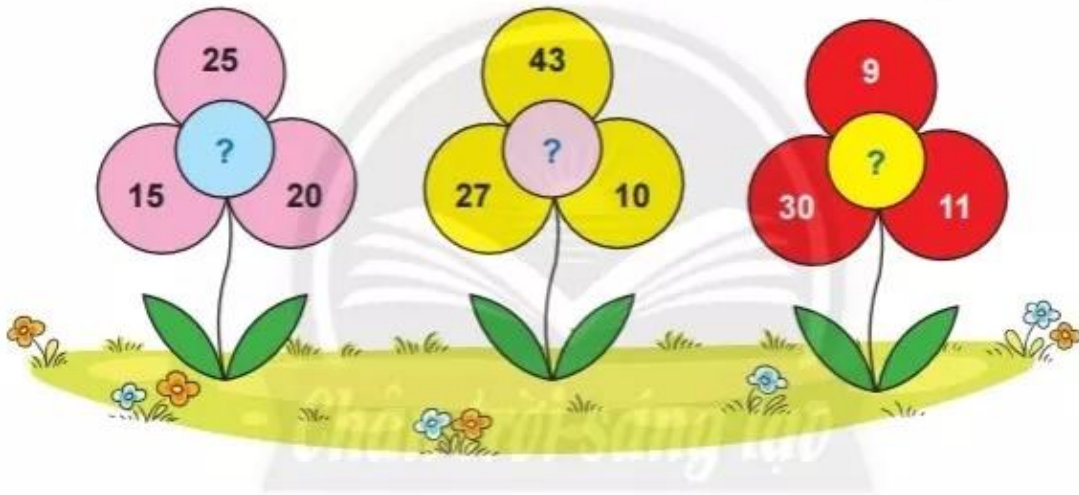
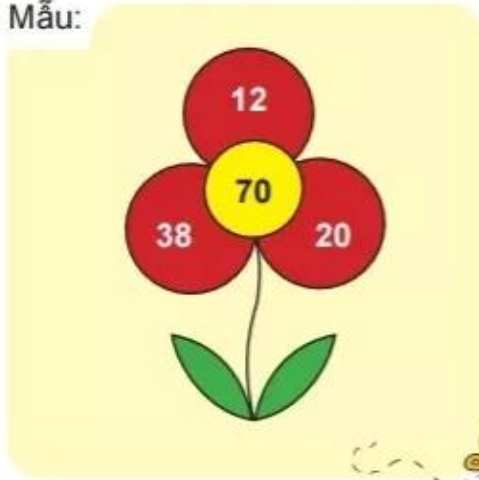
$61 + 9$

$53 + 17$

$42 + 18$

1 Tìm số ở nhị hoa.

Mẫu:

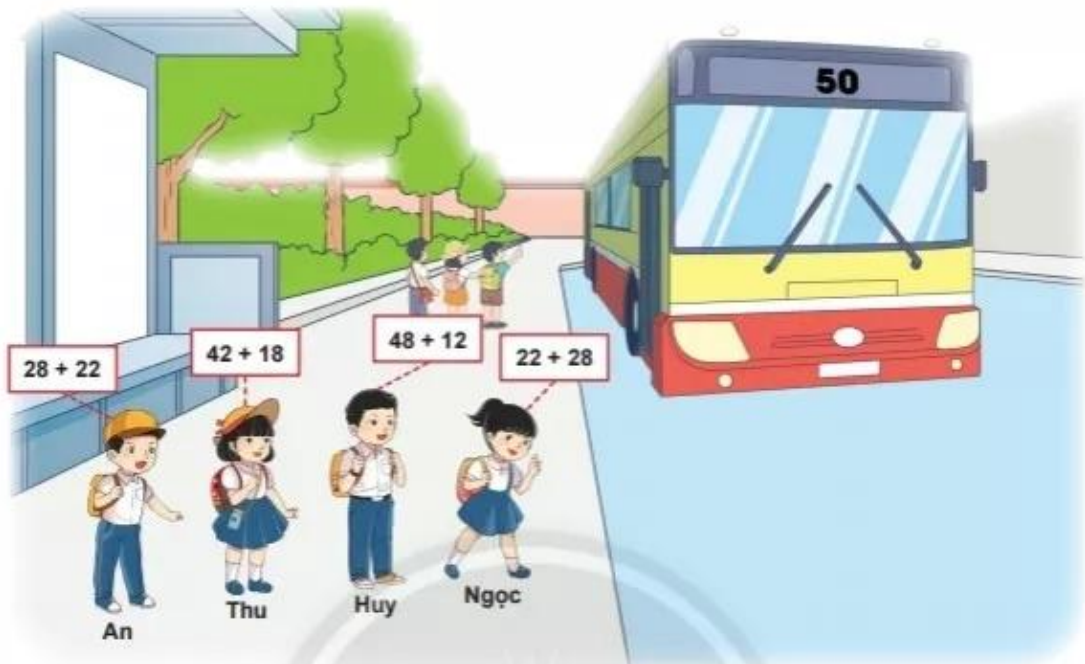


2

Các bạn thu gom vỏ hộp sữa để làm đồ trưng bày. Tổ Một thu được 35 vỏ hộp sữa, tổ Hai thu được 55 vỏ hộp sữa. Hỏi cả hai tổ thu được bao nhiêu vỏ hộp sữa?



**3** Bạn nào có vé xe số 50?



**Em nói cách đi (theo mẫu).**

Ví dụ: Đến vườn thú.

- Sang phải 1 cm
- Lên trên 2 cm
- Sang phải 3 cm
- Lên trên 1 cm.

- Đến công viên nước.
- Đến sân đá bóng.
- Đến rạp xiếc.

