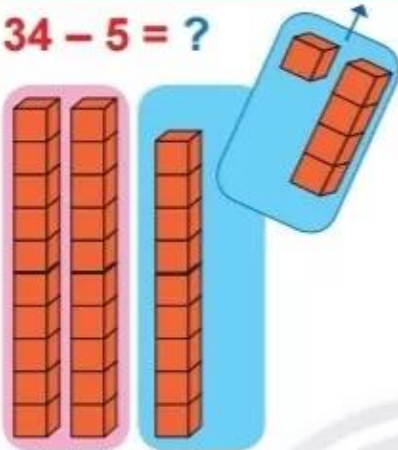


PHÉP TRỪ CÓ NHỚ TRONG PHẠM VI 100

$$34 - 5 = ?$$



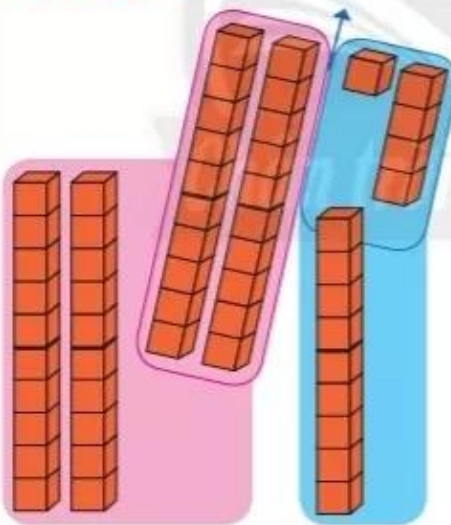
$$\begin{array}{r} 34 \\ - 5 \\ \hline 29 \end{array}$$

• 4 không trừ được 5, lấy 14 trừ 5 bằng 9, viết 9, nhớ 1.

• 3 trừ 1 bằng 2, viết 2.

$$34 - 5 = 29$$

$$54 - 25 = ?$$



$$\begin{array}{r} 54 \\ - 25 \\ \hline 29 \end{array}$$

• 4 không trừ được 5, lấy 14 trừ 5 bằng 9, viết 9, nhớ 1.

• 2 thêm 1 bằng 3, 5 trừ 3 bằng 2, viết 2.

$$54 - 25 = 29$$

1

Đặt tính rồi tính.

$$43 - 26$$

$$26 - 8$$

$$35 - 19$$

$$22 - 7$$

1 Tính:

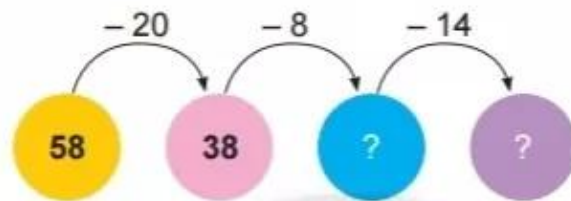
a) $56 - 6 - 10$

b) $37 - 7 - 20$

c) $85 - 5 - 12$

d) $48 - 8 - 11$

2 Số?



3 Làm theo mẫu.

Mẫu:

92

68 24

68	+	24	=	92
24	+	68	=	92
92	-	24	=	68
92	-	68	=	24

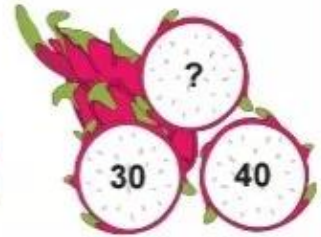
52

33 19

?	+	?	=	?
?	+	?	=	?
?	-	?	=	?
?	-	?	=	?

4 Số?

Mẫu:



5 Vớt các con cá có phép tính mà hiệu bé hơn 50.



6 Trong bể có 32 con cá màu vàng.
Số cá màu xanh ít hơn số cá màu vàng là 7 con.
Hỏi bể cá có bao nhiêu con cá màu xanh?



7 Xếp hình con cá.

