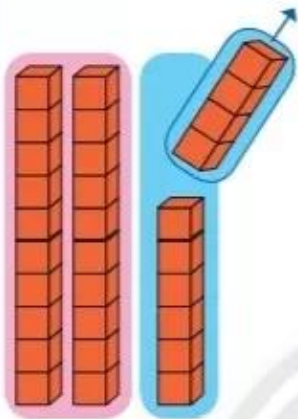


PHÉP TRỪ CÓ SỐ BỊ TRỪ LÀ SỐ TRÒN CHỤC

$$30 - 4 = ?$$

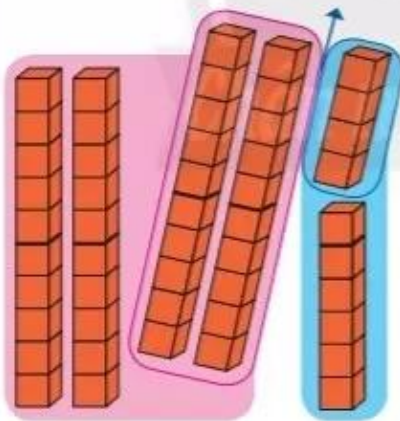


$$\begin{array}{r} 30 \\ - 4 \\ \hline 26 \end{array}$$

- 0 không trừ được 4, lấy 10 trừ 4 bằng 6, viết 6, nhớ 1.
- 3 trừ 1 bằng 2, viết 2.

$$30 - 4 = 26$$

$$50 - 24 = ?$$



$$\begin{array}{r} 50 \\ - 24 \\ \hline 26 \end{array}$$

- 0 không trừ được 4, lấy 10 trừ 4 bằng 6, viết 6, nhớ 1.
- 2 thêm 1 bằng 3, 5 trừ 3 bằng 2, viết 2.

$$50 - 24 = 26$$

1

Đặt tính rồi tính.

$$70 - 6$$

$$40 - 23$$

$$30 - 18$$

1 Tính:


$$\begin{array}{l} 10 - 6 = ? \\ 40 - 16 = ? \end{array}$$

$$\begin{array}{l} 10 - 8 = ? \\ 50 - 28 = ? \end{array}$$

$$\begin{array}{l} 10 - 3 = ? \\ 90 - 63 = ? \end{array}$$

2 Mỗi chú ngựa kéo chiếc xe nào?

Tính hiệu hai số ở mỗi chú ngựa, bạn sẽ tìm được xe ngựa kéo.



30 và 7

60 và 48

50 và 27

50 và 38



50 và 5

80 và 35

12

45

23



3

Một đàn cá có 20 con,
7 con trốn sau đám rong,
còn lại chui vào vỏ ốc.
Hỏi có bao nhiêu con cá
trong vỏ ốc?

