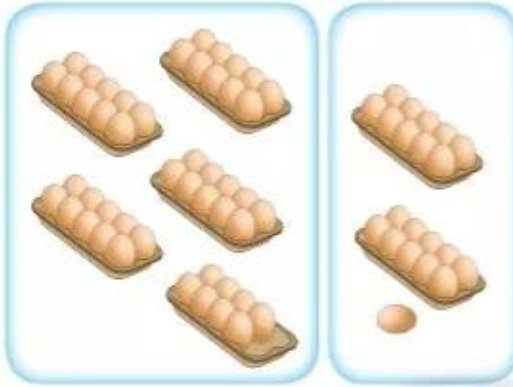


SỐ HẠNG – TỔNG

Có tất cả bao nhiêu quả trứng?

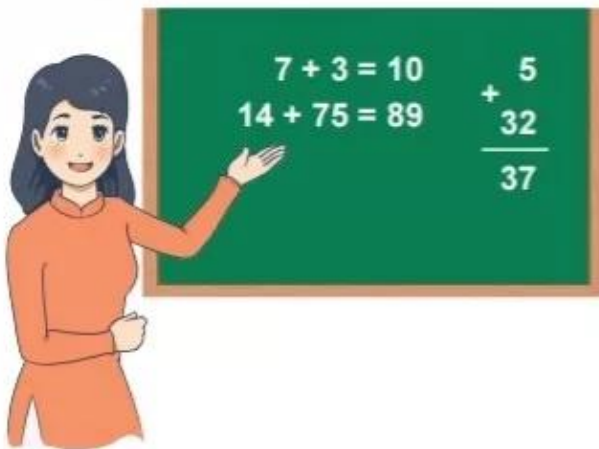


$$\begin{array}{r} 48 \\ + 21 \\ \hline 69 \end{array}$$

Số hạng Số hạng Tổng

48 + 21 cũng gọi là tổng.

1 Gọi tên các thành phần của phép tính.



2

Tính tổng của các số.



Tính tổng của
22 và 16.



a) 4 và 5

b) 30 và 10

c) 52, 41 và 6

1

Đặt tính rồi tính tổng.

a) Các số hạng là 43 và 25.

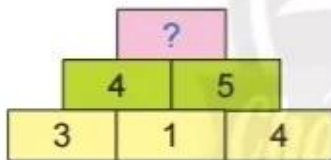
b) Các số hạng là 55 và 13.

c) Các số hạng là 7 và 61.

2

Số?

a)



b)



3

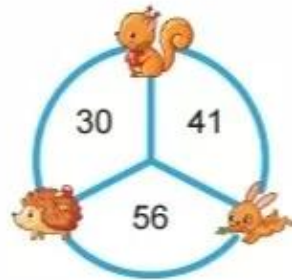
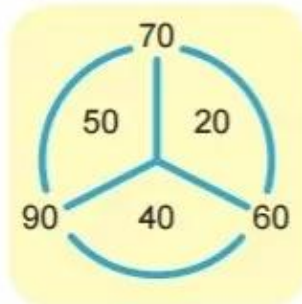
Số?

Biết ba số theo hàng hay theo cột đều có tổng là 10.



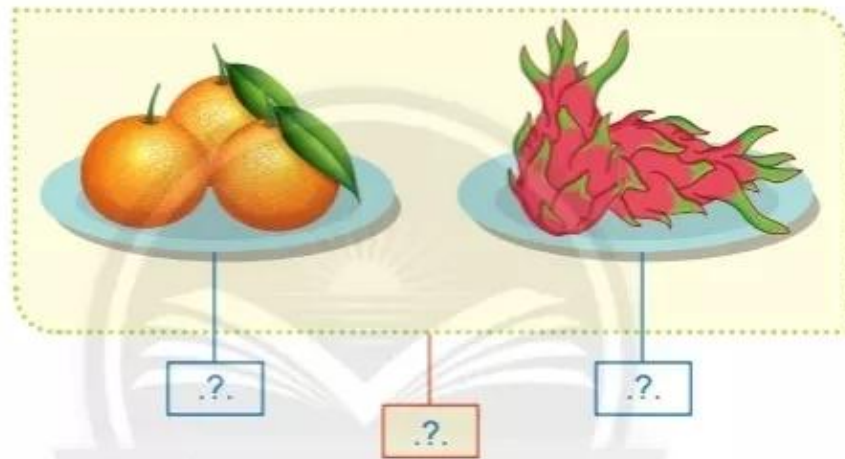
4 Mỗi con vật che số nào?

Mẫu:



5 Quan sát tranh.

a) Số?



b) Viết hai phép tính cộng theo tranh.



Nhận xét vị trí các số hạng.

$$\begin{array}{c} \text{Lion} \\ \boxed{3} \end{array} + \begin{array}{c} \text{Shark} \\ \boxed{2} \end{array} = \begin{array}{c} \text{Dog} \\ \boxed{5} \end{array}$$
$$\begin{array}{c} \text{Shark} \\ \boxed{2} \end{array} + \begin{array}{c} \text{Lion} \\ \boxed{3} \end{array} = \begin{array}{c} \text{Dog} \\ \boxed{5} \end{array}$$

6 Số? (Theo mẫu)

Số hạng	17	22	20	80	28	0
Số hạng	22	17	80	20	0	28
Tổng	39	?	?	?	?	?

7 Tìm trứng cho gà mẹ.

