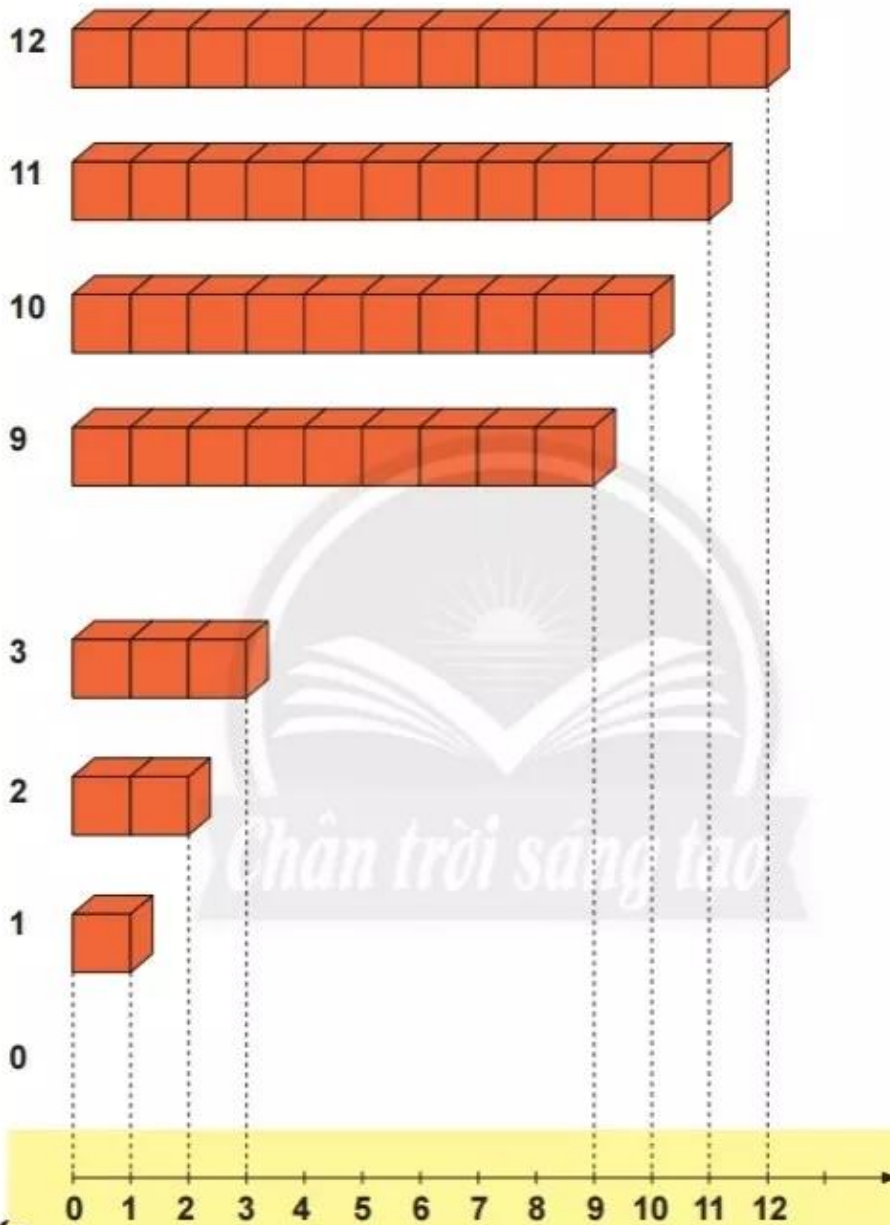


TIA SỐ – SỐ LIÊN TRƯỚC, SỐ LIÊN SAU



Đây là tia số.

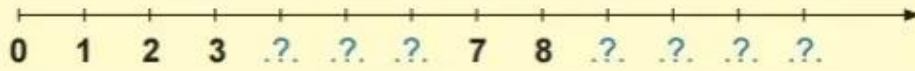
Trên tia số, mỗi số (khác 0) lớn hơn các số bên trái và bé hơn các số bên phải nó.



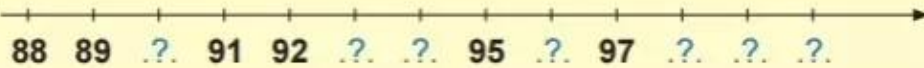
- Số liền sau của 7 là 8.
- Số liền trước của 8 là 7.

1 Số?

a)





b)



- c) Số liền sau của 0 là .?. Số liền trước của 7 là .?.
Số liền trước của 1 là .?. Số liền sau của 97 là .?.

2 Em có thể dựa vào tia số để so sánh các số.



37 .?. 40

46 .?. 39

38 .?. 41

40 .?. 45

39 .?. 36

44 .?. 42

Chân trời sáng tạo

3 Bạn Lâm viết một số có hai chữ số.

Bạn Ngọc viết **số liền trước** (hoặc **số liền sau**) của số bạn Lâm viết.

So sánh hai số mà bạn Lâm và bạn Ngọc đã viết.



1 Số?

a) Số liền sau của 9 là .?.

b) Số liền trước của 10 là .?.

Số liền trước của 25 là .?.

Số liền trước của 69 là .?.

Số liền sau của 81 là .?.

Số liền sau của 47 là .?.

2 Số liền trước hay số liền sau?

a) 31 là .? của 30.

b) 30 là .? của 31.

c) 58 là .? của 59.

d) 100 là .? của 99.

3 Nhà của mỗi bạn màu gì?



Số nhà của Châu Châu là số liền trước của 73, nhà màu .?.



Số nhà của Bướm là số liền sau của 69, nhà màu .?.



Số nhà của Bọ Rùa là số lớn hơn 75 nhưng bé hơn 77, nhà màu .?.

