



## CHUYỂN ĐỘNG NHÌN THẤY CỦA MẶT TRĂNG

### A BÀI TẬP

**44.1.** Ta nhìn thấy các hình dạng khác nhau của Mặt Trăng vì

- A. Mặt Trăng thay đổi hình dạng liên tục.
- B. Mặt Trăng thay đổi độ sáng liên tục.
- C. ở mặt đất, ta thấy các phần khác nhau của Mặt Trăng được chiếu sáng bởi Mặt Trời.
- D. Trái Đất tự quay quanh trục của nó liên tục.


**44.2.** Chọn từ thích hợp điền vào chỗ “...” trong câu sau:

Mặt Trăng là (1) ... tự nhiên của Trái Đất. Mặt Trăng không tự (2) ... ánh sáng. Ánh sáng giúp người ở Trái Đất nhìn thấy Mặt Trăng là do Mặt Trăng (3) ... ánh sáng mặt trời.

**44.3.** Chọn từ thích hợp trong các từ: Mặt Trăng, Trái Đất, Mặt Trời điền vào chỗ “...” trong câu sau:

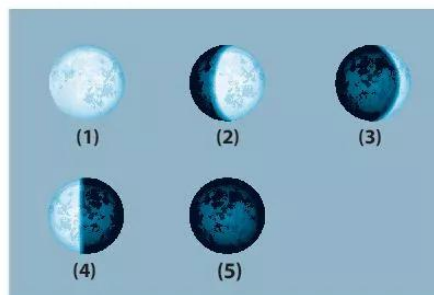
Hình dạng nhìn thấy của (1) ... là phần bề mặt của (2) ... hướng về (3) ... được (4) ... chiếu sáng.

**44.4.** Trong hình bên, hãy vẽ hình để chỉ ra phần bề mặt của Mặt Trăng có thể nhìn thấy từ Trái Đất. Khi đó ta thấy hình dạng Mặt Trăng là gì?




**44.5.** Điền số thể hiện hình dạng nhìn thấy của Mặt Trăng trong hình bên tương ứng tên hình dạng vào bảng.

Không Trăng	
Trăng lưỡi liềm	
Trăng bán nguyệt	
Trăng khuyết	
Trăng tròn	



44.6. Sắp xếp các hình dạng nhìn thấy của Mặt Trăng ở hình bên dưới theo thứ tự trong tháng âm lịch, bắt đầu từ pha không trăng.



### B HƯỚNG DẪN GIẢI

44.1. Đáp án C.

44.2. (1) vệ tinh, (2) phát ra, (3) phản xạ.

44.3. (1) Mặt Trăng, (2) Mặt Trăng, (3) Trái Đất, (4) Mặt Trời.

44.4.



Khi đó ta thấy hình dạng Mặt Trăng là Trăng khuyết.

44.5.

Không Trăng	5
Trăng lưỡi liềm	3
Trăng bán nguyệt	4
Trăng khuyết	2
Trăng tròn	1

44.6.

