


EM LÀM ĐƯỢC NHỮNG GÌ?


1 Làm theo mẫu.

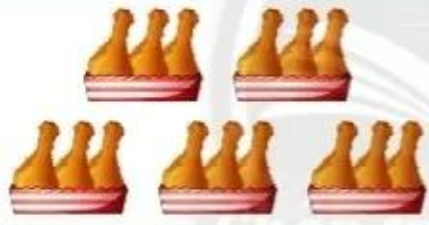
Mẫu:




$4 + 4 + 4 + 4 + 4 + 4 = 24$
 $4 \times 6 = 24$
 $24 : 6 = 4$ $24 : 4 = 6$

4 được lấy 6 lần.



a) 

b) 

2

a) Đọc các phép nhân, phép chia trong bảng sau.

Mẫu: Hai nhân năm bằng mười.

Mười chia hai bằng năm.

Mười chia năm bằng hai.

×	5	3	7
2	→ 10	6	14

b) Số?

×	2	?	?
2	?	18	12

×	7	?	?
5	?	20	15

×	5	8	10
2	?	?	?
5	?	?	?

3 Có bao nhiêu?

Mẫu:



Cách 1



Có 3 hàng,
mỗi hàng 5 miếng.

$$5 \times 3 = 15$$

Cách 2



Có 5 cột,
mỗi cột 3 miếng.

$$3 \times 5 = 3 + 3 + 3 + 3 + 3 = 15$$

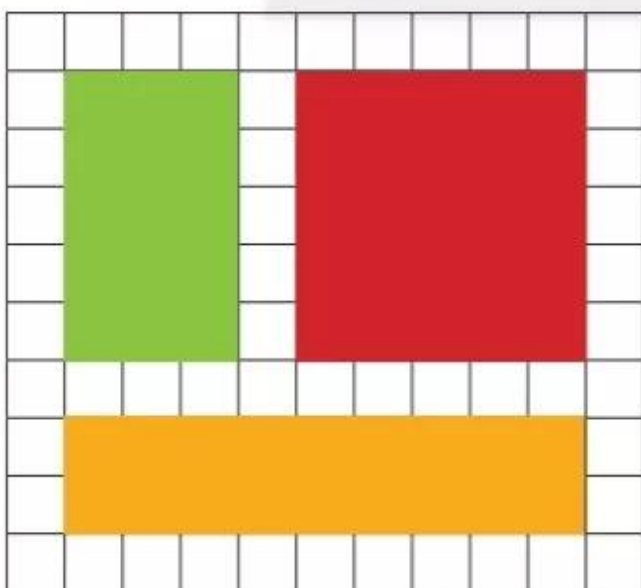
a) Có bao nhiêu hình tròn?





b) Có bao nhiêu ô vuông nhỏ (□)?




4 Mỗi hình chữ nhật, hình vuông che bao nhiêu ô vuông nhỏ (□)?

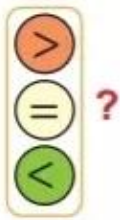


 che .?. ô vuông nhỏ.

 che .?. ô vuông nhỏ.

 che .?. ô vuông nhỏ.

5



$5 + 5 + 5$ 5×3

2×7 5×7

5×9 2×9

2×5 5×2

6

Các bao nào có cùng số lượng?



7

Mỗi con vật che dấu phép tính nào (+, -, x hay :)?

a)

6  $2 = 4$

6  $2 = 8$


6  $2 = 3$

6  $2 = 12$

b)

10  $5 = 2$

10  $5 = 50$

10  $5 = 15$

10  $5 = 5$

8

Có 10 hộp, mỗi hộp có 2 huy hiệu.
Hỏi có tất cả bao nhiêu huy hiệu?



9

Chia đều 20 huy hiệu cho 5 bạn.
Hỏi mỗi bạn được chia mấy huy hiệu?



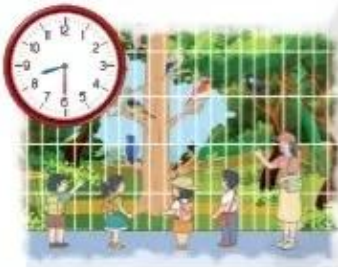
10

a) Quan sát các bức tranh sau. Nói theo mẫu:

Các bạn đến vườn thú lúc 8 giờ.

b) Trả lời các câu hỏi.

- Lúc 8 giờ rưỡi, các bạn đang ở đâu?
- Lúc 10 giờ, các bạn làm gì?



Tập làm việc theo đúng thời gian dự định.

Lúc 8 giờ, em bắt đầu vẽ tranh, em định vẽ trong 1 giờ.
Em tập trung vẽ để xong bức tranh vào lúc 9 giờ.

