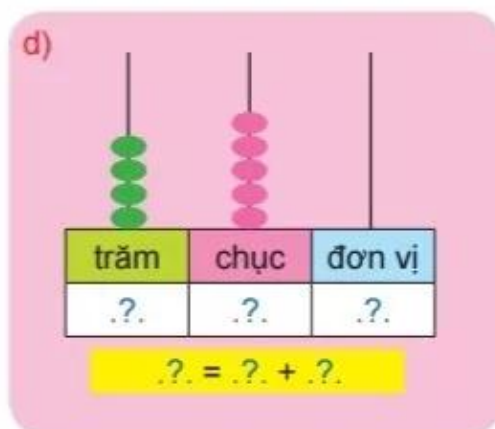
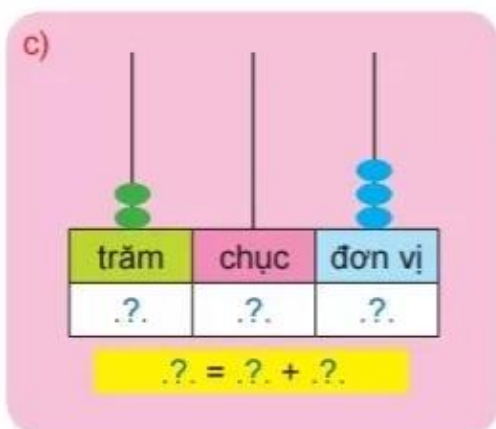
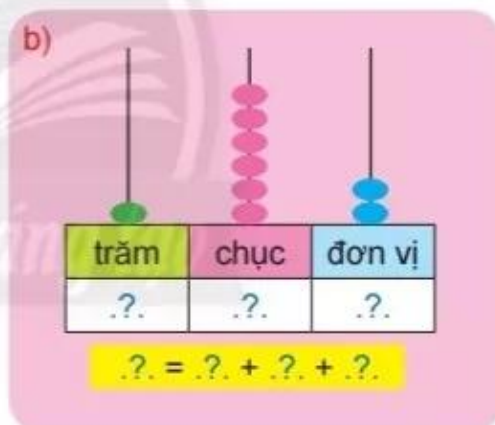
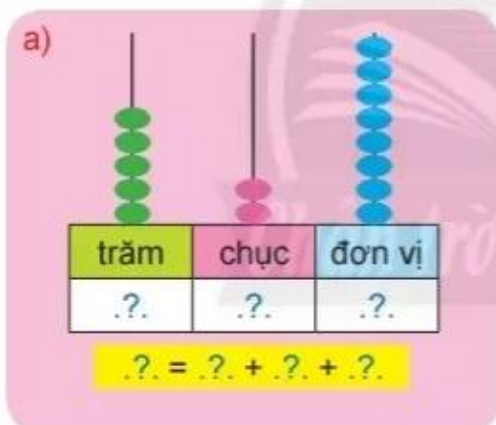
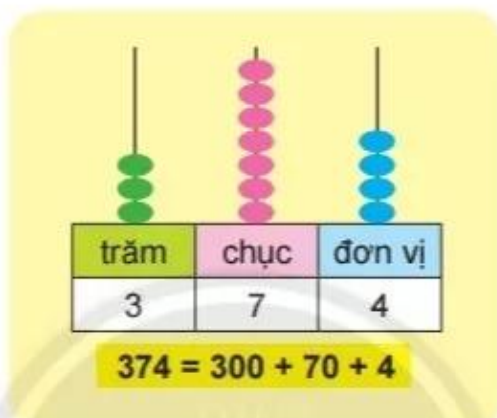


ÔN TẬP CUỐI NĂM

ÔN TẬP CÁC SỐ TRONG PHẠM VI 1000

1 Làm theo mẫu.

Mẫu:


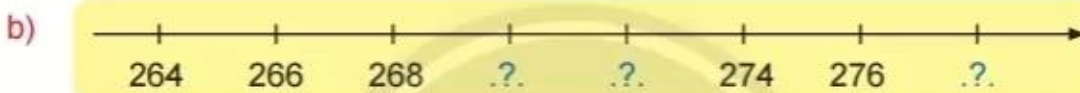



2 Đọc và viết số.

Viết số	Đọc số
108	.?.
855	.?.
510	.?.
904	.?.
661	.?.

Đọc số	Viết số
hai trăm bảy mươi tư	.?.
bốn trăm mười lăm	.?.
bảy trăm hai mươi chín	.?.
ba trăm bốn mươi bảy	.?.
một nghìn	.?.

3 Số?




4 Bốn lớp 2A, 2B, 2C, 2D gấp giấy để trang trí lớp.

Tìm số hạc giấy của mỗi lớp, biết rằng:

- Số hạc giấy của lớp 2A là số tròn chục lớn nhất có hai chữ số.
- Số hạc giấy của lớp 2B nhiều hơn lớp 2A là **5** con.
- Số hạc giấy của lớp 2C là số liền trước của **110**.
- Số hạc giấy của lớp 2D là số liền sau của **110**.



5



497 .?. 502

685 .?. 680

378 .?. 300 + 70 + 8

?

824 .?. 828

781 .?. 399

137 .?. 300 + 10 + 7

921 .?. 912


254 .?. 263

564 .?. 500 + 64

6

Đổi chỗ hai hình để các số được sắp xếp theo thứ tự:

a) Từ lớn đến bé.



b) Từ bé đến lớn.



7

Ước lượng.




Ước lượng: Có khoảng .?. quả dâu.

ÔN TẬP PHÉP CỘNG VÀ PHÉP TRỪ

1 Quan sát hình vẽ sau.



Hình A



Hình B

Tính:

a) Tổng số bút chì ở hình A và hình B.

?	?	?	?	?
---	---	---	---	---

b) Hiệu số bút chì ở hình A và hình B.

?	?	?	?	?
---	---	---	---	---

2 Tính nhẩm.

a) $80 + 20$

$70 + 50$

$160 - 90$

$220 - 50$

b) $500 + 200$

$800 - 400$

$320 + 300$

$670 - 500$

3 Đặt tính rồi tính.

$356 + 127$

$84 + 520$

$762 - 237$

$948 - 64$

$450 - 248$

$139 + 670$

4 Tìm xe cho các bạn.



5 Mỗi con vật che số nào?

$$300 + \text{ Jellyfish } = 700$$

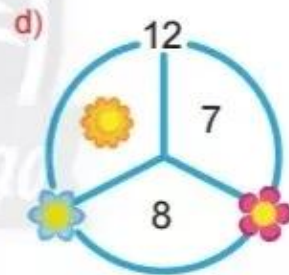
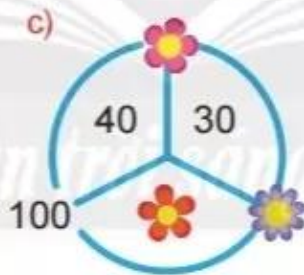
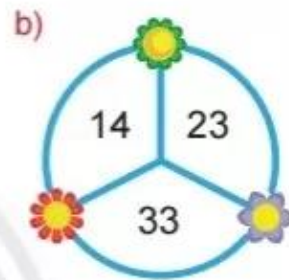
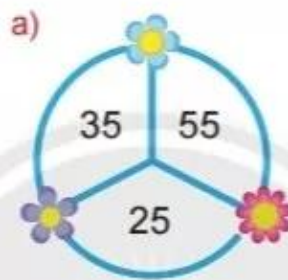
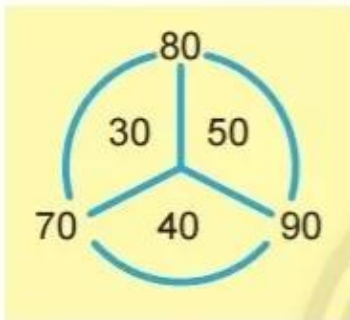
$$700 - \text{ Crab } = 400$$

$$\text{ Starfish } + 60 = 130$$

$$\text{ Seahorse } - 70 = 60$$

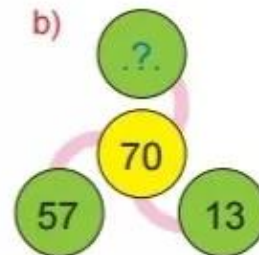
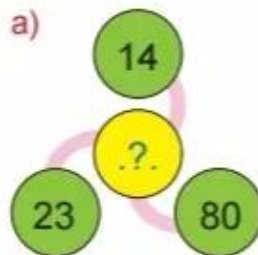
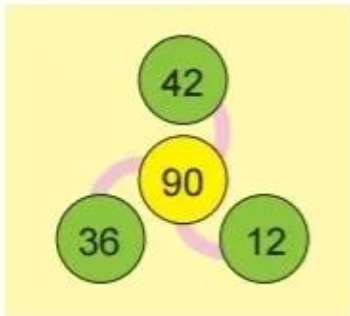
6 Mỗi bông hoa che số nào?

Mẫu:



7 Số?

Mẫu:



8

Nam và Hà vào vườn hái dâu.
Nam hái được **125** quả, Hà hái
được **167** quả. Hỏi Nam hái
được ít hơn Hà bao nhiêu quả
dâu?



9

Giải bài toán theo tóm tắt sau.
Thửa ruộng thứ nhất: **216** cuộn rơm
Thửa ruộng thứ hai: **328** cuộn rơm
Cả hai thửa ruộng: ... cuộn rơm?



Chân trời sáng tạo

Thu hoạch lúa ở Long An

Máy gặt lúa



Máy cuộn rơm



Các cuộn rơm
có dạng hình gì?

Tìm vị trí tỉnh Long An trên bản đồ (trang 114).

ÔN TẬP PHÉP NHÂN VÀ PHÉP CHIA

1 Làm theo mẫu.

Mẫu:



$$6 + 6 + 6 = 18$$

$$6 \times 3 = 18$$

$$18 : 6 = 3$$

$$18 : 3 = 6$$

a)



b)



2 Ôn tập: Bảng nhân 2, bảng chia 2.
Bảng nhân 5, bảng chia 5.

- a) Đọc lần lượt các bảng.
b) Đọc các cặp phép nhân, phép chia trong bảng có liên quan.

Ví dụ: $2 \times 8 = 16$

$16 : 2 = 8$

$$2 \times 8 = 16$$

$$16 : 2 = 8$$



3 Tính:

a) 2×4

5×9

b) $15 : 5$

$12 : 2$

5×7

2×10

$18 : 2$

$20 : 5$

5×6

2×7

$35 : 5$

$14 : 2$

2×9

5×8

$45 : 5$

$20 : 2$

4

a) Giải bài toán theo tóm tắt sau.

1 tổ: 5 cây
4 tổ: ... cây?



Mỗi tổ đều trồng được 5 cây.



b) Mỗi con thỏ có 2 cái tai. Trong chuồng có tất cả 14 cái tai thỏ. Hỏi chuồng thỏ có bao nhiêu con?



5

Mỗi trái cây che dấu phép tính nào? (+, -, × hay :).

10  5 = 2

10  2 = 20

10  2 = 8

10  5 = 15

6

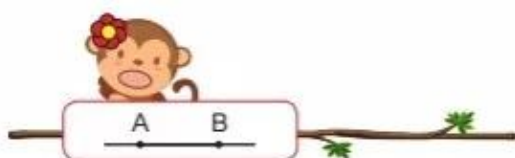
Số?

$?. : 5 = ?$
 $=$
 32
 $+$
 $2 \times 9 = ?$

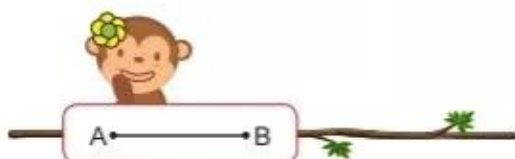
$?$
 $:$
 2
 $=$
 $? \times 10 = ?$

ÔN TẬP HÌNH HỌC VÀ ĐO LƯỜNG

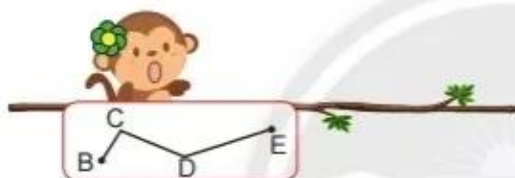
1 Giúp khi mẹ tìm con.



Đường gấp khúc BCDE



Đoạn thẳng AB



Đường thẳng AB



Hình chữ nhật



Hình tứ giác

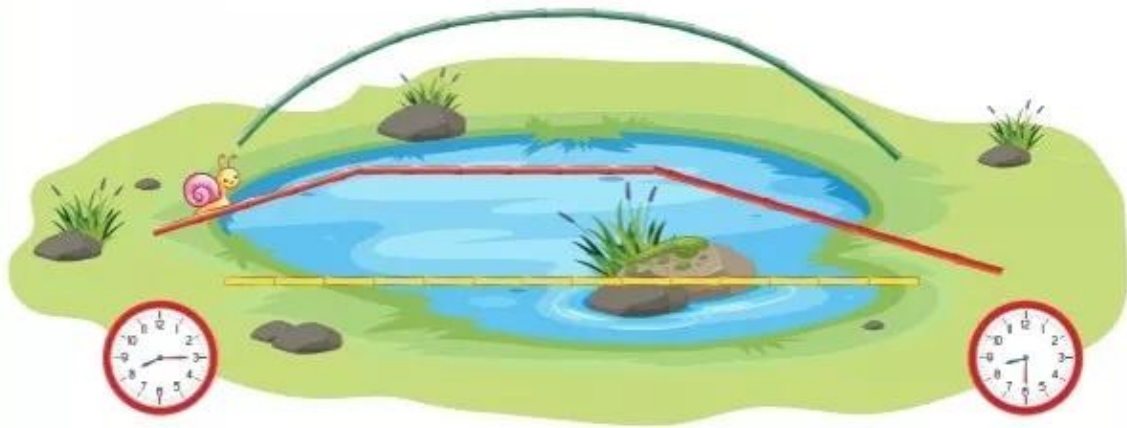


Hình tam giác



Hình vuông

2 Quan sát tranh, thực hiện các yêu cầu sau.



a) Đường thẳng, đường gấp khúc hay đường cong?

- Cầu màu xanh lá cây có dạng .?.
- Cầu màu vàng có dạng .?.
- Cầu màu đỏ có dạng .?.

b) Dùng thước đo độ dài mỗi đoạn thẳng rồi tính độ dài chiếc cầu màu đỏ.

$$.?. \text{ cm} + .?. \text{ cm} + .?. \text{ cm} = .?. \text{ cm}$$

c) Số?

Sên bắt đầu lên cầu lúc .? giờ .? phút.

Sên qua khỏi cầu lúc .? giờ .? phút.

3 Số?

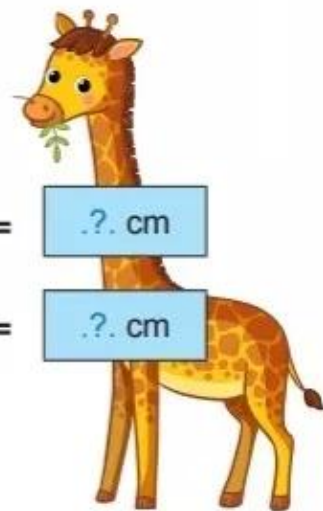
$$1 \text{ km} = .?. \text{ m}$$



$$1 \text{ m} =$$

$$1 \text{ dm} = .?. \text{ cm}$$

$$.?. \text{ dm} = .?. \text{ cm}$$



4 Ngày, giờ hay phút?



Em đánh răng:
khoảng 1 .?.



Bố sơn nhà:
khoảng 1 .?.



Gia đình ăn cơm tối:
khoảng 1 .?.



Số?

Bạn đó thừa .? kg.

Với mỗi độ tuổi, một người nếu thừa cân sẽ không tốt cho sức khỏe.

Một bạn đang cân để kiểm tra sức khỏe.



5 Xếp hình.



Các bạn tập thể dục.



Em có thấy các phiến đá dạng khối trụ?



Ghềnh đá đĩa (tỉnh Phú Yên)

Tim vị trí tỉnh Phú Yên trên bản đồ (trang 114).





ÔN TẬP: BIỂU ĐỒ TRANH CÓ THỂ, CHẮC CHẮN, KHÔNG THỂ

- 1 Rau củ thu hoạch được trong một ngày ở vườn nhà bác Năm:



- a) Đếm số rau củ mỗi loại. Đặt vào bảng (mỗi thể hiện một củ, quả, ...).

Rau củ thu hoạch ở vườn nhà bác Năm

 Bắp cải	
 Cà tím	
 Cà chua	
 Su hào	

- b) Cà tím và cà chua, loại nào thu hoạch được nhiều hơn và nhiều hơn bao nhiêu quả?

2 Có thể, chắc chắn hay không thể?

Mỗi bạn chỉ lấy
một khối lập phương.



a)

Bạn .?. lấy được một khối
lập phương màu đỏ.



b)

Bạn .?. lấy được một khối
lập phương màu đỏ.



c)

Bạn .?. lấy được một khối
lập phương màu đỏ.



Trong tấm ảnh sau có bao nhiêu loại rau củ?



Rau củ Đà Lạt (tỉnh Lâm Đồng).

Tìm vị trí tỉnh Lâm Đồng trên bản đồ (trang 114).



Em trao đổi với người thân: Vì sao cần ăn nhiều rau củ?