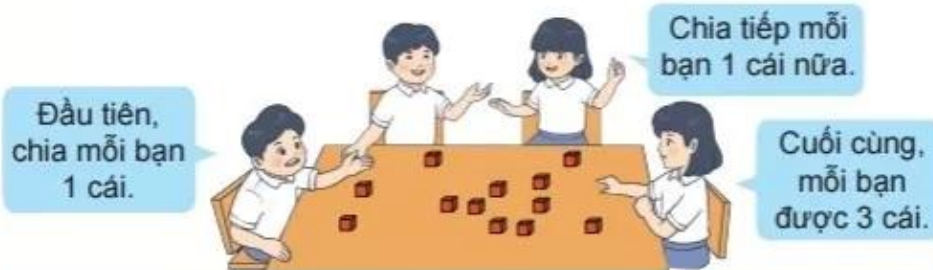


PHÉP CHIA

CHIA THÀNH CÁC PHẦN BẰNG NHAU

Chia đều 12 cái kẹo cho 4 bạn. **Mỗi bạn** được mấy cái kẹo?



12 cái kẹo **chia đều** cho 4 bạn, **mỗi bạn** được 3 cái kẹo.

Ta có **phép chia**: $12 : 4 = 3$

Đọc là: **Mười hai chia bốn bằng ba.**

Nhận xét: $3 \times 4 = 12$

$12 : 4 = 3$

Dấu chia



$3 \times 4 = 3 + 3 + 3 + 3$

CHIA THEO NHÓM

Có 12 cái kẹo, chia cho **mỗi bạn** 3 cái kẹo. Hỏi có **mấy bạn** được chia kẹo?



12 cái kẹo, chia cho **mỗi bạn** 3 cái kẹo. Có **4 bạn** được chia.

Ta có **phép chia**: $12 : 3 = 4$

Nhận xét: $3 \times 4 = 12$

$12 : 4 = 3$

$12 : 3 = 4$

Dùng  để thực hành.

1 Chia đều 10 cái bánh cho 5 bạn. Hỏi **mỗi bạn** được mấy cái bánh?

$$10 : ? = ?$$

2 Có 10 cái bánh, chia cho **mỗi bạn** 2 cái bánh. Hỏi có **mấy bạn** được chia bánh?

$$10 : ? = ?$$

1 Viết phép nhân, dựa vào phép nhân viết hai phép chia (theo mẫu).

Mẫu:



$$6 \times 4 = 24$$
$$24 : 4 = 6$$
$$24 : 6 = 4$$



$$7 \times 3 = 21$$
$$? : ? = ?$$
$$? : ? = ?$$



$$? \times ? = ?$$
$$? : ? = ?$$
$$? : ? = ?$$

2 Viết phép chia (theo mẫu).

Mẫu: $7 \times 8 = 56$

$56 : 7 = 8$

$56 : 8 = 7$

a) $9 \times 5 = 45$

$? : ? = ?$

$? : ? = ?$

b) $4 \times 10 = 40$

$? : ? = ?$

$? : ? = ?$

c) $6 \times 6 = 36$

$? : ? = ?$

3 Tìm kết quả phép chia dựa vào phép nhân (theo mẫu).

Mẫu: $20 : 5 = ?$

$5 \times 4 = 20$

$20 : 5 = 4$

a) $8 : 2 = ?$

$2 \times ? = 8$

$8 : 2 = ?$

b) $20 : 2 = ?$

$2 \times ? = 20$

$20 : 2 = ?$





c) $35 : 5 = ?$

$5 \times ? = 35$

$35 : 5 = ?$



Em chỉ đường cho bạn Rùa về đích: **đi theo phép tính đúng.**

$2 \times 9 = 18$	$8 : 2 = 16$
	
$5 \times 6 = 35$	$18 : 2 = 9$
$35 : 5 = 7$	$40 \times 8 = 5$
	
$20 \times 2 = 10$	$18 : 9 = 2$
$25 : 5 = 5$	$50 : 5 = 10$

VỀ ĐÍCH

4

a) **Mỗi đội bóng có 5 cầu thủ.**
Hỏi **6 đội bóng** có bao nhiêu cầu thủ?



b) **Xếp đều 30 quả cam vào 5 đĩa.** Hỏi **mỗi đĩa** có bao nhiêu quả cam?

Bài giải

Số quả cam mỗi đĩa có là:

$$30 : 5 = \text{?. (quả cam)}$$

Đáp số: **?. quả cam.**



5

Tim phép tính phù hợp với bài toán.

Có **2 hộp**, **mỗi hộp** có **5** cái bánh. Hỏi có **tất cả** bao nhiêu cái bánh?

$$10 : 2 = 5$$

Chia đều 10 cái bánh cho **5** bạn. Hỏi **mỗi bạn** được mấy cái bánh?

$$10 : 5 = 2$$

Có **10** cái bánh, chia cho **mỗi bạn 2** cái bánh. Hỏi có **mấy** bạn được chia bánh?

$$5 \times 2 = 10$$