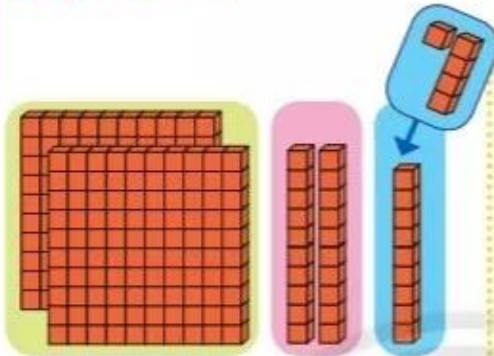


PHÉP CỘNG CÓ NHỚ TRONG PHẠM VI 1000

$$229 + 5 = ?$$

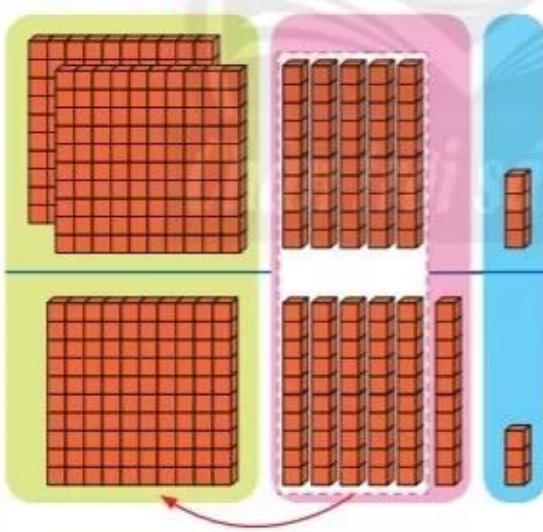


$$\begin{array}{r} + \quad 2 \quad 2 \quad 9 \\ \quad \quad 5 \\ \hline 2 \quad 3 \quad 4 \end{array}$$

- 9 cộng 5 bằng 14, viết 4, nhớ 1.
- 2 thêm 1 bằng 3, viết 3.
- Hạ 2, viết 2.

$$229 + 5 = 234$$

$$254 + 163 = ?$$



$$\begin{array}{r} + \quad 2 \quad 5 \quad 4 \\ \quad \quad 1 \quad 6 \quad 3 \\ \hline 4 \quad 1 \quad 7 \end{array}$$

- 4 cộng 3 bằng 7, viết 7.
- 5 cộng 6 bằng 11, viết 1, nhớ 1.
- 2 cộng 1 bằng 3, thêm 1 bằng 4, viết 4.

$$254 + 163 = 417$$

1

Đặt tính rồi tính. $218 + 543$
 $394 + 412$

$670 + 139$
 $46 + 61$

$627 + 8$
 $80 + 747$


1 Số?

Số hạng	652	384	173	501	74
Số hạng	139	205	436	188	909
Tổng	.?.	.?.	.?.	.?.	.?.

2 Số?

- a) $500 + 20 + 6 = .?.$
- b) $50 + 2 + 600 = .?.$
- c) $5 + 60 + 200 = .?.$

3



$700 + 30 + 8 \text{ .?. } 738$

$900 + 60 + 1 \text{ .?. } 691$

$400 + 40 \text{ .?. } 404$

4 Tính:

- a) $632 + 118 + 247$
- b) $435 + 129 + 315$

5

Dưới đây là số trứng của mỗi con gà đẻ trong một năm.



168



207



200

Số?

- a) Tổng số trứng của gà nâu và gà trắng là .?. quả.
- b) Tổng số trứng của cả ba con gà là .?. quả.

6

a) Một trang trại nuôi 387 con gà đẻ trứng và 550 con gà lấy thịt. Hỏi trang trại nuôi tất cả bao nhiêu con gà?



b) Mỗi tuần lễ, gà đẻ trứng ăn hết 409 kg thức ăn, gà lấy thịt ăn hết 231 kg thức ăn. Hỏi mỗi tuần lễ, cả hai loại gà ăn hết bao nhiêu ki-lô-gam thức ăn?



Số?



.?. kg



.?. kg



.?. kg