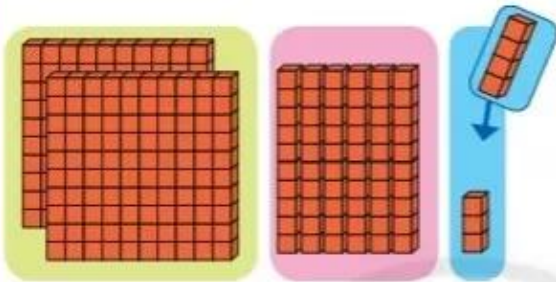


PHÉP CỘNG KHÔNG NHỚ TRONG PHẠM VI 1000

$$263 + 4 = ?$$

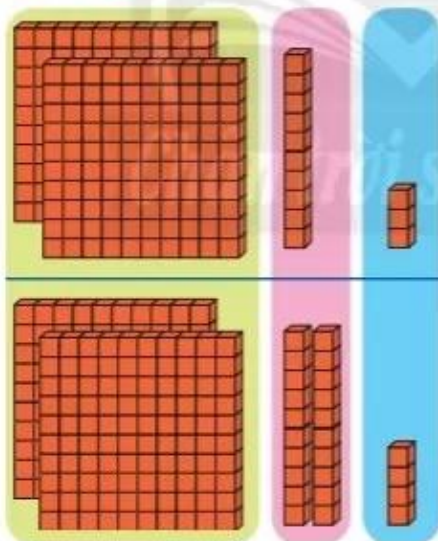


$$\begin{array}{r} 263 \\ + 4 \\ \hline 267 \end{array}$$

- 3 cộng 4 bằng 7, viết 7.
- Hạ 6, viết 6.
- Hạ 2, viết 2.

$$263 + 4 = 267$$

$$213 + 224 = ?$$



$$\begin{array}{r} 213 \\ + 224 \\ \hline 437 \end{array}$$

- 3 cộng 4 bằng 7, viết 7.
- 1 cộng 2 bằng 3, viết 3.
- 2 cộng 2 bằng 4, viết 4.

$$213 + 224 = 437$$

1

Đặt tính rồi tính.

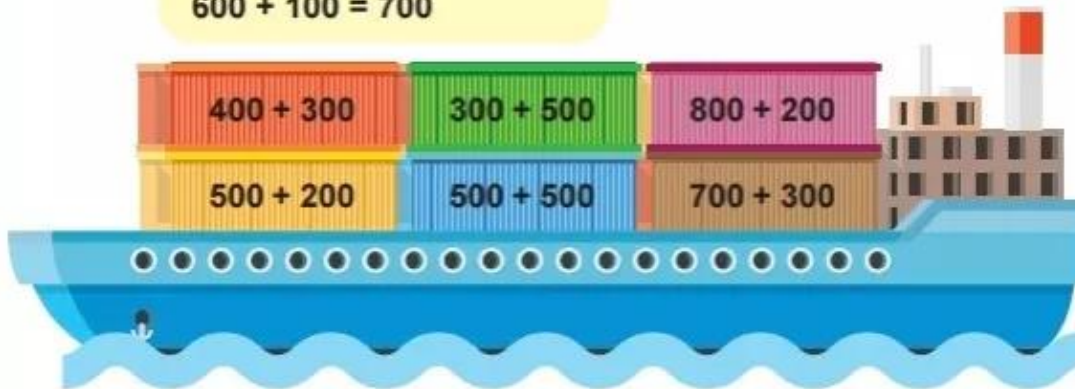
$$361 + 417$$

$$530 + 56$$

$$203 + 6$$

1 Tính nhẩm.

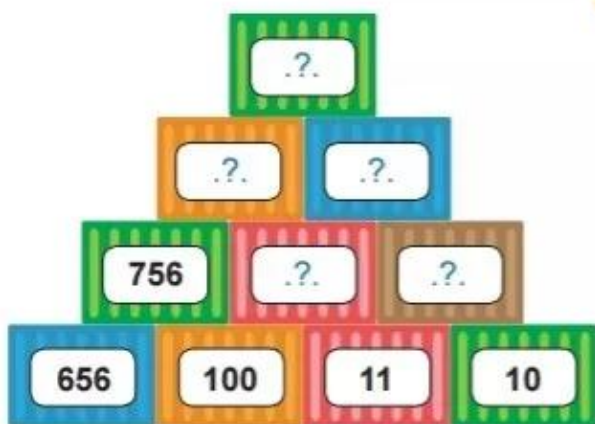
Mẫu: $600 + 100$
 $6 \text{ trăm} + 1 \text{ trăm} = 7 \text{ trăm}$
 $600 + 100 = 700$



2 Tính:



3 Số?



4

Tàu thứ nhất chở **150** kiện hàng, tàu thứ hai chở **223** kiện hàng.
Hỏi cả hai tàu chở bao nhiêu kiện hàng?



5

Số?



Cảng Sa Kỳ
(Quảng Ngãi)

134 km

Cảng Tiên Sa
(Đà Nẵng)

235 km

Cảng Gianh
(Quảng Bình)

Quãng đường từ cảng Sa Kỳ đến cảng Gianh
(đi qua cảng Tiên Sa) dài .?. km.



Tìm vị trí tỉnh Quảng Ngãi, thành phố Đà Nẵng, tỉnh Quảng Bình trên bản đồ (trang 114).



Ngoài 3 cảng được nêu trong bài 5, nêu thêm cảng biển mà em biết.