

PHÉP NHÂN

Có tất cả bao nhiêu bút chì?



$$3 + 3 + 3 + 3 = 12 \quad (\text{tổng các số hạng bằng nhau})$$

Ta viết thành phép nhân:

$$3 \times 4 = 12$$

Đọc là: **Ba nhân bốn bằng mười hai.**



2 **Viết phép nhân.**

a) Số bàn tay của 4 bạn

$$?. \times ?.$$

b) Số ngón tay của 8 bàn tay

$$?. \times ?.$$



3 **Tính:**

Mẫu: $2 \times 4 = ?$



$$2 + 2 + 2 + 2 = 8$$

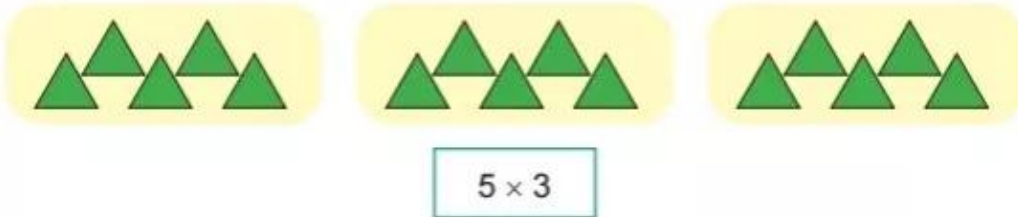
$$2 \times 4 = 8$$

a) 7×2

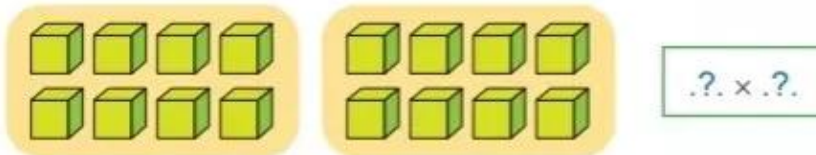
b) 6×3

1 Viết phép nhân.

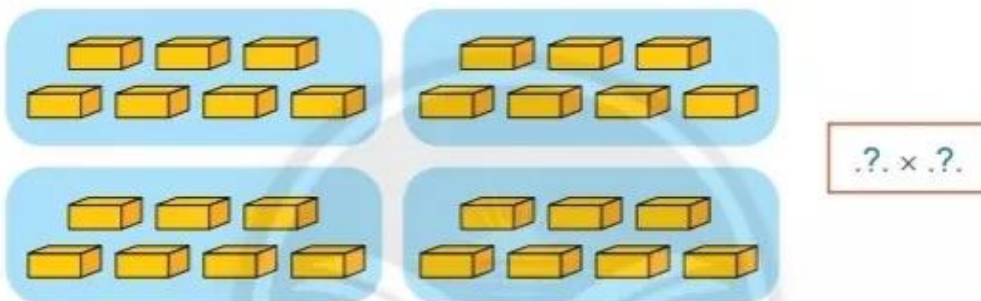
Mẫu:



a)



b)

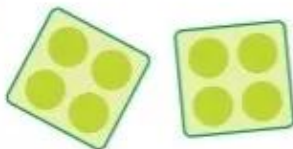


2 Làm theo mẫu.

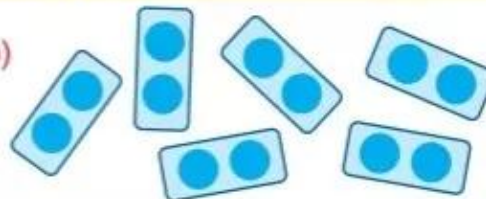
Mẫu:




a)



b)



c)



d)



3 Viết phép nhân.

Mẫu: $10 + 10 + 10 + 10 = 10 \times 4$

a) $7 + 7 + 7 + 7 + 7$

b) $4 + 4 + 4 + 4 + 4 + 4$

c) $9 + 9 + 9$

d) $10 + 10 + 10 + 10 + 10$

4 Tính:

Mẫu: $3 \times 6 = ?$

$3 + 3 + 3 + 3 + 3 + 3 = 18$

$3 \times 6 = 18$

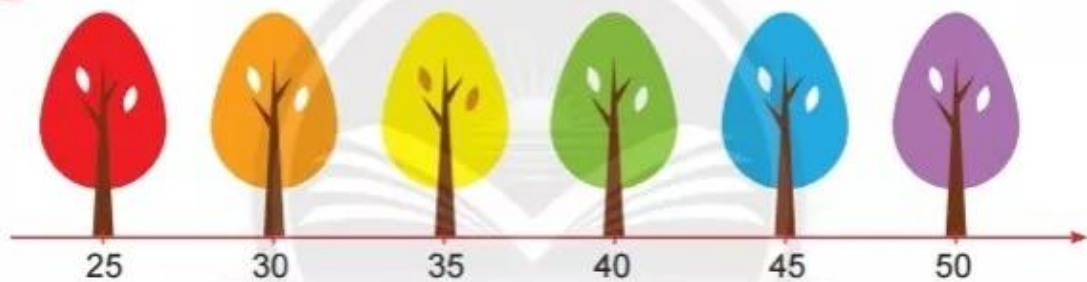
a) 5×4

b) 2×5

c) 8×2

d) 3×3

5 Tính để biết mỗi con chim sẽ bay đến cây nào.



6 Viết phép nhân.

Mẫu:



3 được lấy
1 lần, ta viết:



$3 \times 1 = 3$

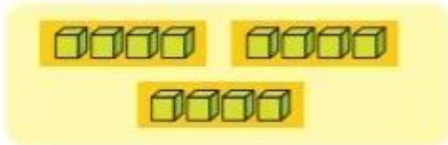


.?.



.?.

7 Tìm hình ảnh phù hợp với phép tính.



$3 \times 4 = 12$



$6 \times 2 = 12$



$4 \times 3 = 12$



$2 \times 6 = 12$



Số?



Có .?. nhóm, mỗi nhóm có .?. bạn.
 .?. được lấy .?. lần.
 .?. \times .?. = .?.



Vẽ hình em thích (hình tròn, hình tam giác, con vật, ...) thể hiện phép nhân 2×3 .