
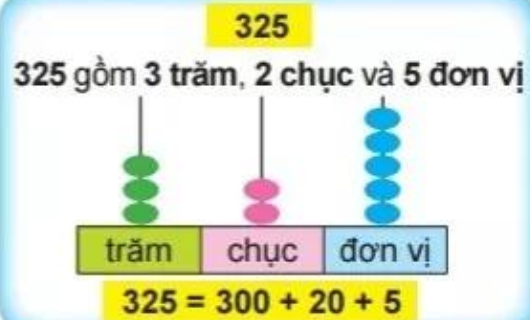
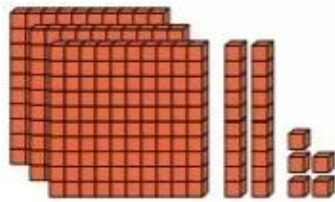


# VIẾT SỐ THÀNH TỔNG CÁC TRĂM, CHỤC, ĐƠN VỊ

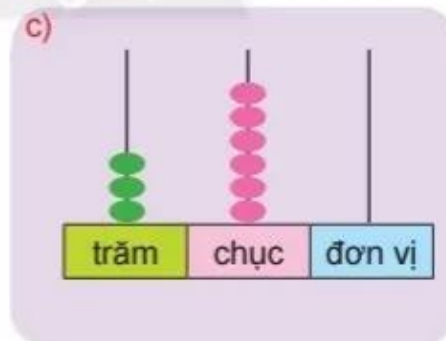
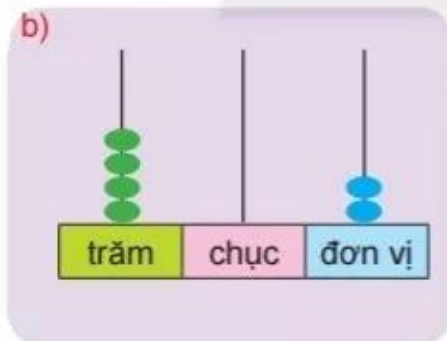
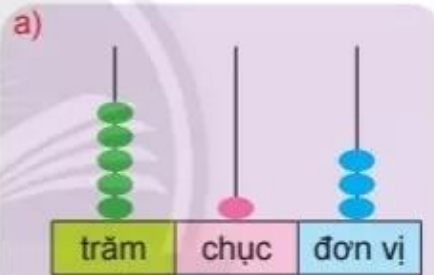
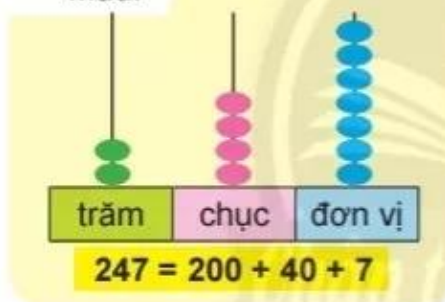
Số 325 gồm mấy **trăm**, mấy **chục** và mấy **đơn vị**?

Dùng  thể hiện số 325.



1 **Viết theo mẫu.**

Mẫu:



2 **Viết số thành tổng các trăm, chục, đơn vị.**

Mẫu:  $861 = 800 + 60 + 1$

a) 792

b) 435

c) 108

d) 96

3

Tính để tìm cá cho mỗi chú mèo.

700 + 10 + 2

200 + 70 + 1

712

721

200 + 10 + 7

700 + 20 + 1

217

100 + 20 + 7

127

271

100 + 70 + 2

172

Chân trời sáng tạo