

BẢNG CHIA 2

1 Dựa vào **bảng nhân 2**, tìm kết quả ở **bảng chia 2** (viết theo mẫu).

$2 \times 1 = 2$	$2 : 2 = 1$
$2 \times 2 = 4$	$4 : 2 = 2$
$2 \times 3 = 6$	$6 : 2 = 3$

$2 : 2 = 1$
 $4 : 2 = 2$
 $6 : 2 = 3$
 $8 : 2 = \dots$
 $10 : 2 = \dots$
 $12 : 2 = \dots$
 $14 : 2 = \dots$
 $16 : 2 = \dots$
 $18 : 2 = \dots$
 $20 : 2 = \dots$

2 **Tính nhẩm.**








$6 : 2 = \dots$ $16 : 2 = \dots$ $10 : 2 = \dots$ $14 : 2 = \dots$ $2 : 2 = \dots$
 $8 : 2 = \dots$ $18 : 2 = \dots$ $12 : 2 = \dots$ $4 : 2 = \dots$ $20 : 2 = \dots$

3 **Viết số** vào chỗ chấm.








$\dots : 2 = 5$ $\dots : 2 = 7$ $\dots : 2 = 2$ $\dots : 2 = 9$ $\dots : 2 = 10$
 $\dots : 2 = 3$ $\dots : 2 = 4$ $\dots : 2 = 6$ $\dots : 2 = 8$ $\dots : 2 = 1$

4 **Viết** (theo mẫu).

a) Rót dầu từ can lớn vào các can nhỏ, mỗi can nhỏ **2 l**. Hỏi rót được mấy can nhỏ?

			
Rót được 6 can nhỏ.			

b) Người ta xếp đều một số ghế vào **2** phòng. Mỗi phòng có mấy cái ghế?

			
14 cái ghế	8 cái ghế	16 cái ghế	6 cái ghế
Mỗi phòng 7 cái ghế.			

5 Tô đen các ô có phép tính sai.

$2 \times 7 = 14$	$2 \times 9 = 18$	$14 : 2 = 7$	$2 \times 1 = 2$
$16 : 2 = 7$	$18 : 2 = 8$	$2 \times 8 = 18$	$2 : 1 = 1$