


BẢNG NHÂN 2

1 **Viết** (theo mẫu).

Mẫu:

$2 \times 5 = ?$

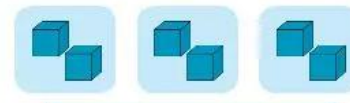


$2 + 2 + 2 + 2 + 2 = 10$

$2 \times 5 = 10$

a)

$2 \times 3 = ?$




..... = ...

$2 \times 3 = \dots$

b)

$2 \times 10 = ?$



..... = ...

$2 \times 10 = \dots$

2 **Viết số** vào chỗ chấm.

$2 \times 1 = 2$	↗	$+ 2$
$2 \times 2 = 4$	↗	$+ 2$
$2 \times 3 = 6$	↗	$+ 2$
$2 \times 4 = \dots$	↗	$+ 2$
$2 \times 5 = \dots$	↗	$+ 2$
$2 \times 6 = \dots$	↗	$+ 2$
$2 \times 7 = \dots$	↗	$+ 2$
$2 \times 8 = \dots$	↗	$+ 2$
$2 \times 9 = \dots$	↗	$+ 2$
$2 \times 10 = \dots$	↗	$+ 2$

3 **Viết số** vào ô trống.

2	4	6	○	○
○	18	16	○	12

4	6	○	○	12
---	---	---	---	----

8	○	12	○	16
---	---	----	---	----

12	14	○	○	20
----	----	---	---	----

4 Tính nhẩm.

$2 \times 1 = \dots$

$2 \times 5 = \dots$

$2 \times 10 = \dots$

$2 \times 2 = \dots$

$2 \times 6 = \dots$


$2 \times 9 = \dots$

$2 \times 3 = \dots$

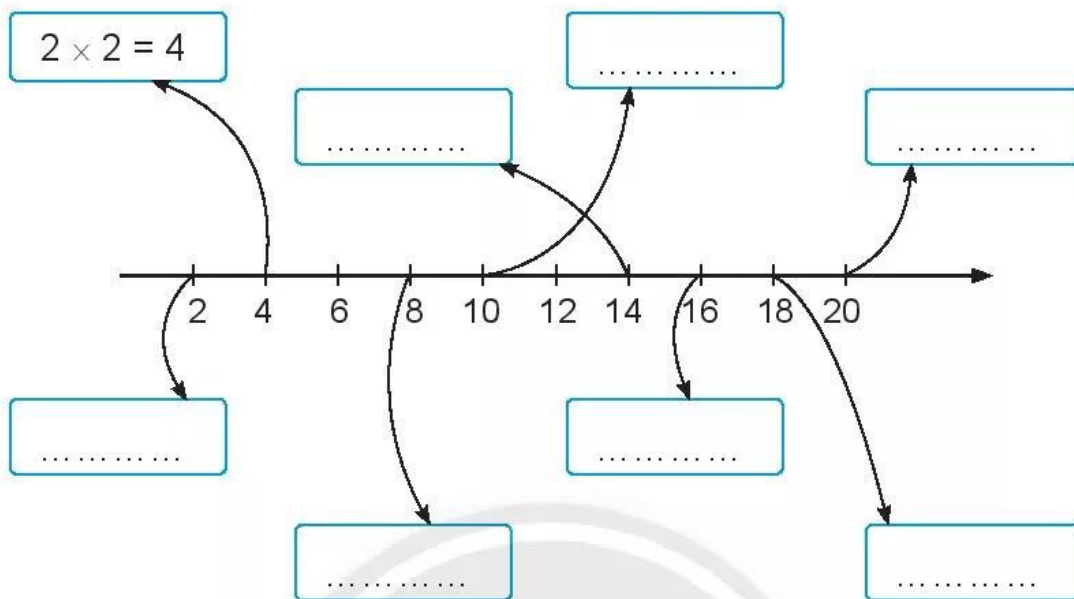
$2 \times 4 = \dots$

$2 \times 8 = \dots$

5 Tô màu các con gà có số là **kết quả của phép tính trong bảng nhân 2**.



6 Viết các phép nhân trong bảng nhân 2 (theo mẫu).



7 Tô màu các ngôi nhà và xe ô tô có phép tính đúng.

