

EM LÀM ĐƯỢC NHỮNG GÌ?

1 **Viết** (theo mẫu).

Mẫu:




$$3 + 3 + 3 + 3 + 3 = 15$$

$$3 \times 5 = 15$$


$$15 : 5 = 3$$

$$15 : 3 = 5$$

a)



b)



2 **Viết số** vào chỗ chấm.

a) $2 \times 1 = \dots$ $2 \times 6 = \dots$ $2 \times 8 = \dots$ $2 \times 9 = \dots$ $2 \times 10 = \dots$

$2 : 2 = \dots$ $12 : 2 = \dots$ $16 : 2 = \dots$ $18 : 2 = \dots$ $20 : 2 = \dots$

b) $5 \times 5 = \dots$ $5 \times 8 = \dots$ $5 \times 4 = \dots$ $5 \times 7 = \dots$ $5 \times 1 = \dots$

$25 : 5 = \dots$ $40 : 5 = \dots$ $20 : 5 = \dots$ $35 : 5 = \dots$ $5 : 5 = \dots$

3 **Viết số** vào chỗ chấm.

$2 \times \dots = 8$

$5 \times \dots = 30$

$2 \times \dots = 18$

$5 \times \dots = 45$

$\dots \times 7 = 14$

$\dots \times 3 = 15$

$\dots \times 4 = 20$

$\dots \times 8 = 16$

$\dots \times 10 = 20$


$\dots \times 2 = 10$

$6 = \dots : 5$

$6 = \dots : 2$

$5 = \dots : 2$

$5 = \dots : 5$



4 Cho ba số, từ ba số này em **viết một phép nhân** và **một phép chia** rồi **viết tên các thành phần của phép tính đó** (xem mẫu).

15

3

5

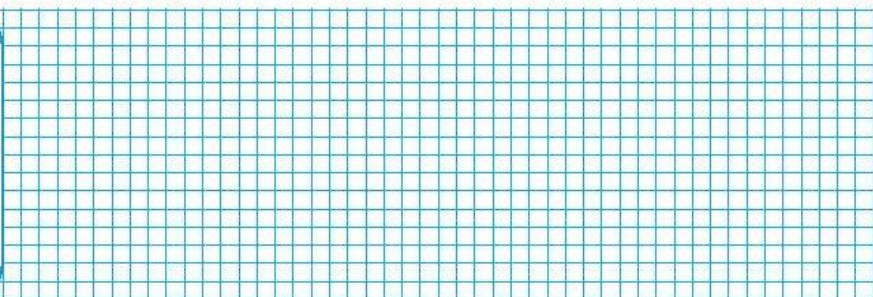
$5 \times 3 = 15$
 5 và 3 là các thừa số
 15 là tích

$15 : 5 = 3$
 15 là số bị chia
 5 là số chia
 3 là thương

2


7

14



8 Quan sát các bức tranh, **viết** vào chỗ chấm.

- Hai anh em đến công viên lúc
 - Sau đó phút, hai anh em ở nhà sách.
 - Lúc, hai anh em ở siêu thị.
 - Mẹ dặn 9 giờ phải có mặt ở nhà, hai anh em về nhà
- (em viết: **sớm giờ**, **đúng giờ** hay **trễ giờ**).




9 **Số?**

- Có tất cả bao nhiêu bạn?
Có **7** hàng dọc, mỗi hàng **5** bạn.

$$5 \times 7 = \dots$$

- Có **5** hàng ngang, mỗi hàng **7** bạn.

$$7 \times 5 = \dots$$



$$5 \times 7 = 7 \times 5$$

b)



$$3 + 3 + 3 + 3 \dots 3 \times 4$$

$$3 \times 5 \dots 5 \times 3$$

$$10 \times 2 \dots 10 + 10 + 10$$

$$5 \times 6 \dots 5 \times 4$$