

PHÉP CHIA

1 SỐ?




a) Chia đều 8 cái bánh cho 4 bạn, mỗi bạn được ... cái bánh.

Viết phép chia:

b) Có 8 cái bánh, chia cho mỗi bạn 2 cái bánh. Có ... bạn được chia.

Viết phép chia:

2 SỐ?




a) Chia đều 15 cái kẹo cho 5 bạn, mỗi bạn được ... cái kẹo.

Viết phép chia:

b) Có 15 cái kẹo, chia cho mỗi bạn 3 cái kẹo. Có ... bạn được chia.

Viết phép chia:

3 Nói (theo mẫu).



Có **5** hộp, mỗi hộp có **2** con mèo.
Hỏi có tất cả bao nhiêu con mèo?

$$10 : 5 = 2$$


Có **10** con mèo, đặt vào mỗi hộp **2** con.
Hỏi có mấy hộp đựng mèo?

$$10 : 2 = 5$$

Đặt đều **10** con mèo vào **5** hộp.
Hỏi mỗi hộp có mấy con mèo?

$$2 \times 5 = 10$$

4 Quan sát tranh, **viết** phép tính nhân và phép tính chia.




Chân trời sáng tạo

... × ... = ...

... : ... = ...

... : ... = ...



... × ... = ...

... : ... = ...

... : ... = ...

9 Nói (theo mẫu).

$2 \times 6 = 12$

$5 \times 4 = 20$

$20 : 4 = 5$

$20 : 1 = 20$

$20 : 5 = 4$

$12 : 6 = 2$

$20 : 10 = 2$

$12 : 2 = 6$

$20 : 2 = 10$

$20 : 20 = 1$

$20 \times 1 = 20$

$2 \times 10 = 20$