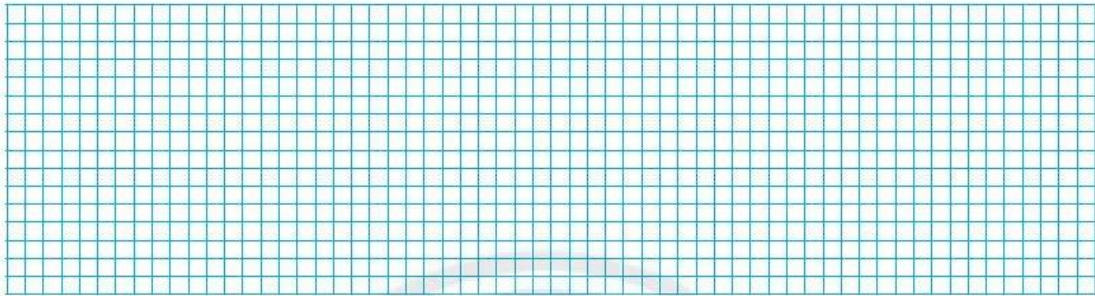


PHÉP CỘNG CÓ NHỚ TRONG PHẠM VI 1000

1 Đặt tính rồi tính.


$352 + 429$

$168 + 740$



$653 + 51$

$9 + 411$



2 Nối phép tính với kết quả phù hợp.

$283 + 234$

499

$607 + 13$

715

$6 + 709$

517

$246 + 253$

620




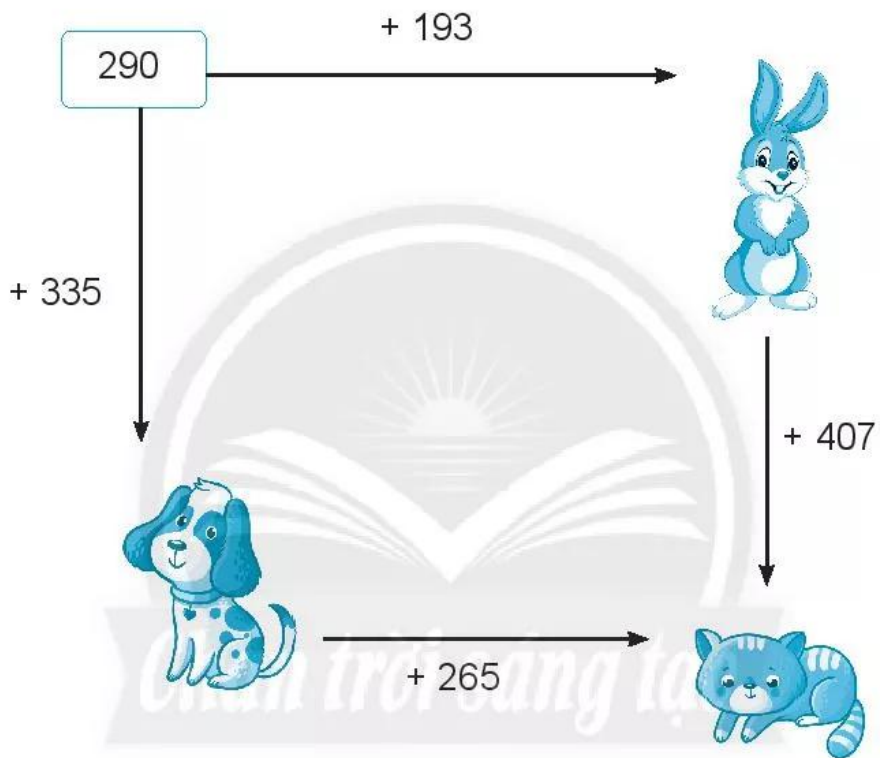
3 **Viết số vào chỗ chấm.**

Cho bốn số **608, 145, 806, 154.**

Tổng của số lớn nhất và số bé nhất là:

Tổng của hai số còn lại là:

4 **Số?**



5 Viết chữ số thích hợp vào ô trống.

$$\begin{array}{r}
 \square 8 0 \\
 + 1 \square 5 \\
 \hline
 5 0 5
 \end{array}$$

$$\begin{array}{r}
 6 \square 6 \\
 + 4 \square \\
 \hline
 6 7 0
 \end{array}$$

6 Thử thách.

Đặt các tấm bìa ghi chữ số vào các ô vuông để có hai phép tính cộng khác nhau (mỗi tấm bìa chỉ đặt một lần).



a)

$$\square \square \square + \square \square \square = 390$$

b)

$$\square \square \square + \square \square \square = 390$$