


PHÉP CỘNG KHÔNG NHỚ TRONG PHẠM VI 1000

1 Đặt tính rồi tính.


$421 + 376$

$107 + 92$



$357 + 230$

$5 + 673$



2 Tính nhẩm rồi viết các kết quả vào chỗ chấm cho thích hợp.

a)

$100 + 300 = \dots\dots\dots$

$200 + 600 = \dots\dots\dots$

$400 + 200 = \dots\dots\dots$

$\dots\dots < \dots\dots < \dots\dots$

b)


$800 + 100 = \dots\dots\dots$

$300 + 200 = \dots\dots\dots$

$400 + 300 = \dots\dots\dots$

$\dots\dots > \dots\dots > \dots\dots$

3 a) Tính:






b) Tô màu:

Các quả bóng có tổng bé hơn 500: màu vàng.





Các quả bóng có tổng lớn hơn 500: màu xanh lá cây.




4 Mỗi con vật thể hiện một chữ số.
Viết chữ số thích hợp vào chỗ chấm.




a)

+		3	
			2
	9	7	9

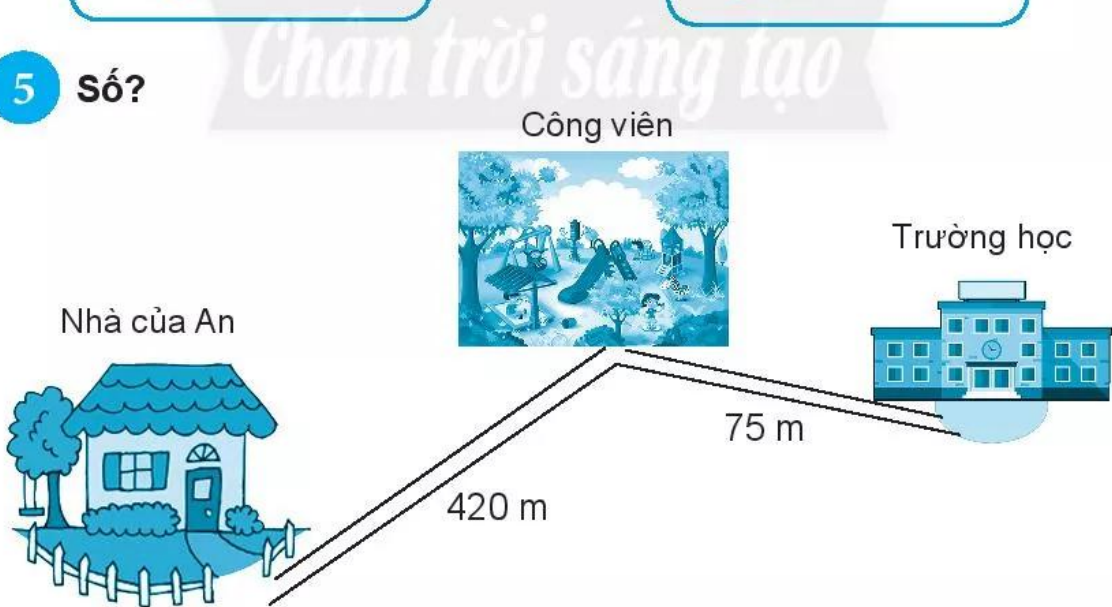
b)

+		1	5
			
	9	4	7

	=
	=
	=

	=
	=
	=

5 Số?



Quãng đường từ nhà An đến trường (đi qua công viên) dài m.