

SO SÁNH CÁC SỐ CÓ BA CHỮ SỐ

1

So sánh từ số **trăm**, số **chục** rồi đến số **đơn vị**.



>

a) 749 ... 745

269 ... 280

631 ... 489

<

800 ... 803

352 ... 357

78 ... 214

=

b) 123 ... 100 + 20 + 3

2

Viết các số theo thứ tự:

a) Từ bé đến lớn.

b) Từ lớn đến bé.

570 507 750 705


.....

423 324 342 432




.....

3

a) Tô màu con vật có số lớn nhất.



b) Tô màu con vật có số bé nhất.



4 **Viết** một chữ số thích hợp vào chỗ chấm.

$541 > 54\dots$

$387 < 3\dots 2$


$263 > \dots 75$

5 **Đánh dấu** (✓) vào hình có nhiều viên gạch nhất.

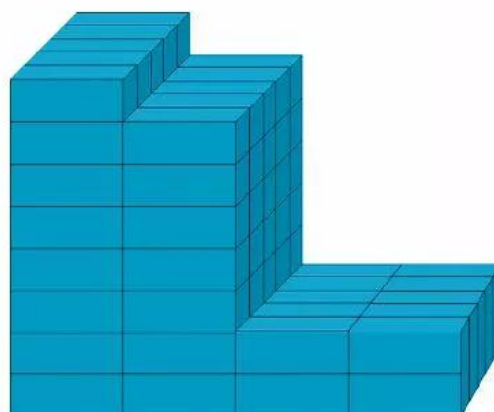


A

B



C



D